



対称な図形7

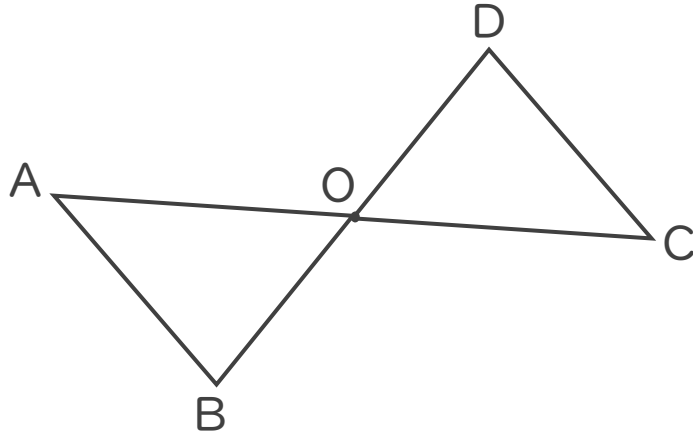
● 点対称な図形の重なり方

4

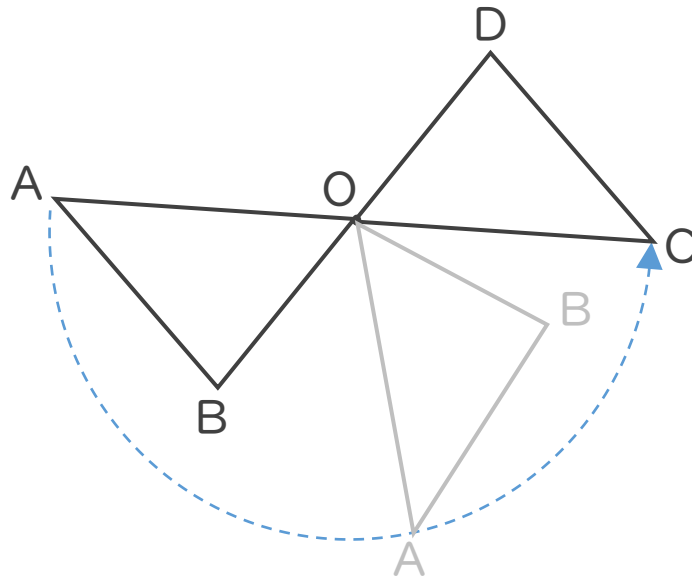
日にち： 月 日

名まえ _____

- ・ 次の点対称な図形を、点Oを中心にして、 180° 回転させたときの重なりについて調べましょう。(うすい字はなぞりましょう。)



Oを中心にして 180° 回転!



- ① 点Bと重なる点はどれですか。

答え： _____

- ② 直線ABと重なる直線はどれですか。

答え： _____





対称な図形7

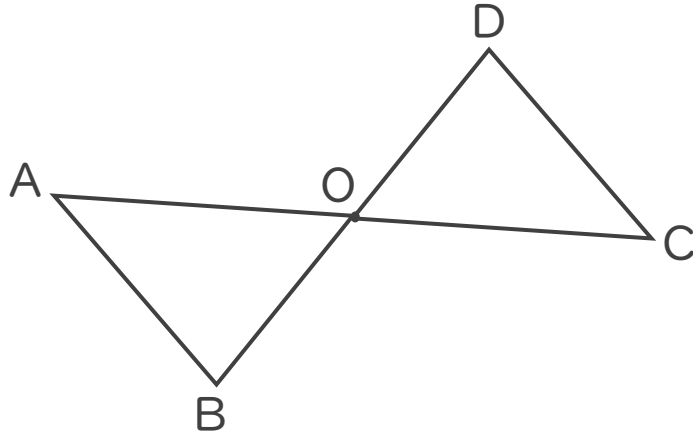
● 点対称な図形の重なり方

4

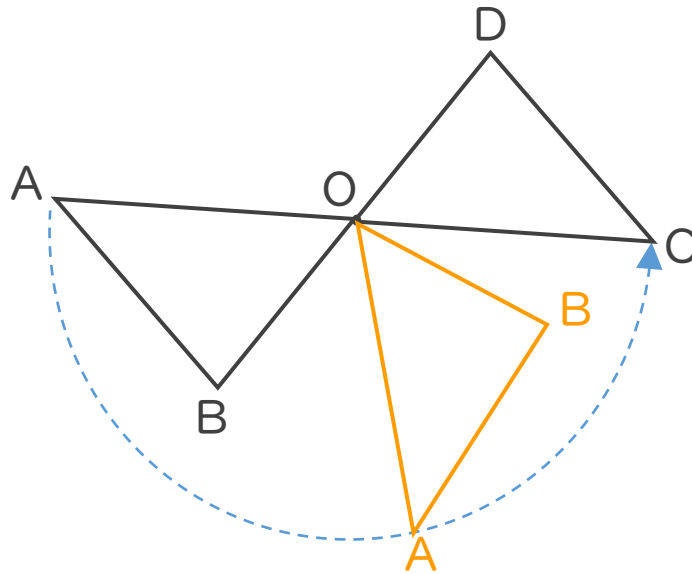
日にち： 月 日

名まえ _____

- 次の点対称な図形を、点Oを中心にして、 180° 回転させたときの重なりについて調べましょう。(うすい字はなぞりましょう。)



Oを中心にして 180° 回転!



- ① 点Bと重なる点はどれですか。

答え： 点D

- ② 直線ABと重なる直線はどれですか。

答え： 直線CD

