



対称な図形8

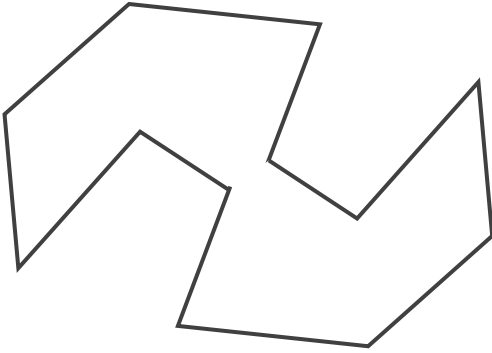
◎ 点対称な図形を見つける

4

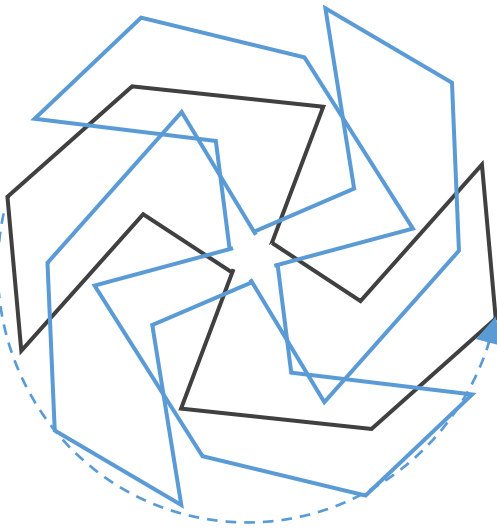
日にち： 月 日

名まえ _____

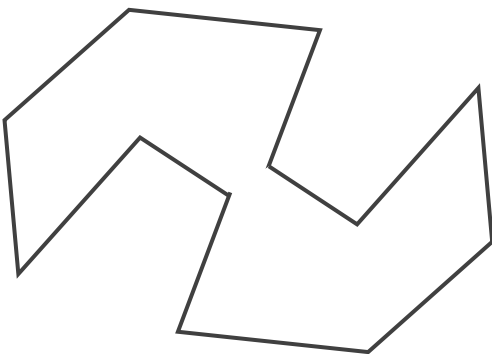
- ・ 次の図で、点対称な図形には○、点対称な図形ではないものには×と答えなさい。また、○をつけた図形には対称の中心○をかきいれなさい。



答え： _____



① 回転して重なるかを考える！



② 重なる点を結び対称の中心○をみつけよう。





対称な図形8

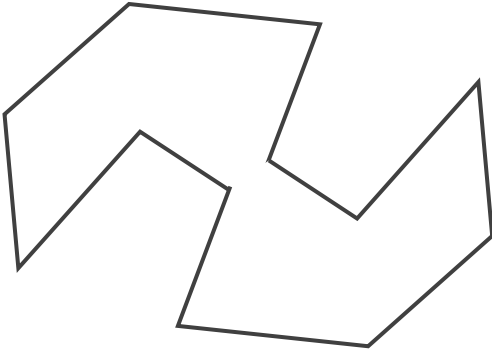
◎ 点対称な図形を見つける

4

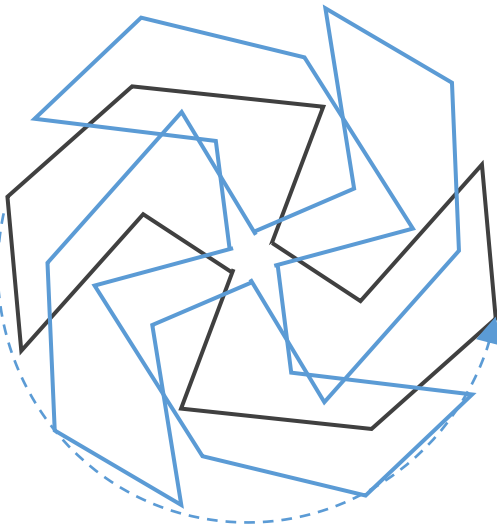
日にち： 月 日

名まえ _____

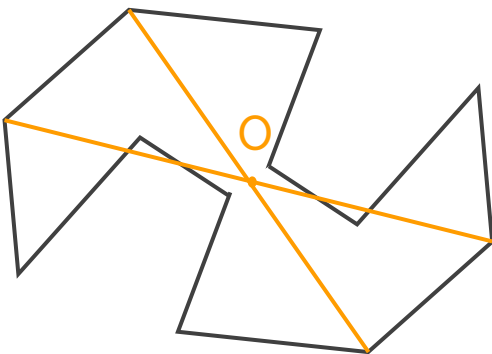
- ・ 次の図で、点対称な図形には○、点対称な図形ではないものには×と答えなさい。また、○をつけた図形には対称の中心○をかきいれなさい。



答え： ○



① 回転して重なるかを考える！



② 重なる点を結び対称の中心○をみつけよう。