



およその面積と体積 3

◎ 立体に見立てて
およその面積を求める



日にち： 月 日

名まえ _____

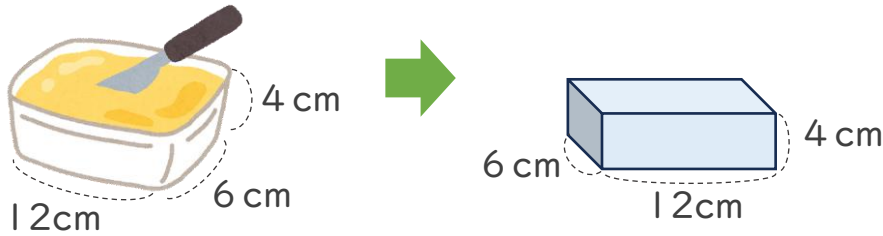
・ およその容積や体積を求めましょう。

①

体積は

底面積×高さ


で求めるよ！



式： × × =

答え： 約 _____ cm³

②



式： × × 3.14 × =

答え： 約 _____ cm³





およその面積と体積③

◎ 立体に見立てて
およその面積を求める

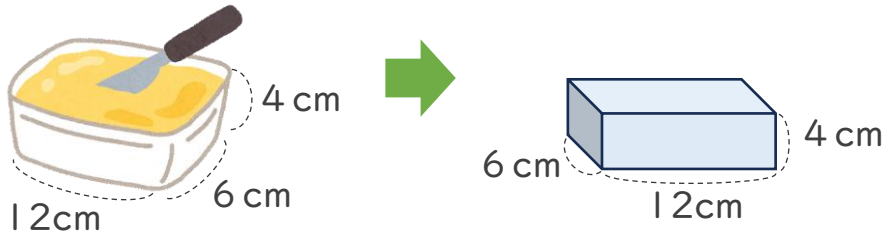


日にち： 月 日

名まえ _____

・ およその容積や体積を求めましょう。

①



体積は

底面積×高さ


で求めるよ!



$$\text{式： } 12 \times 6 \times 4 = 288$$

答え： 約 288 cm³

②



$$\text{式： } 4 \times 4 \times 3.14 \times 10 = 502.4$$

答え： 約 502.4 cm³

