

拡大図と縮図 6



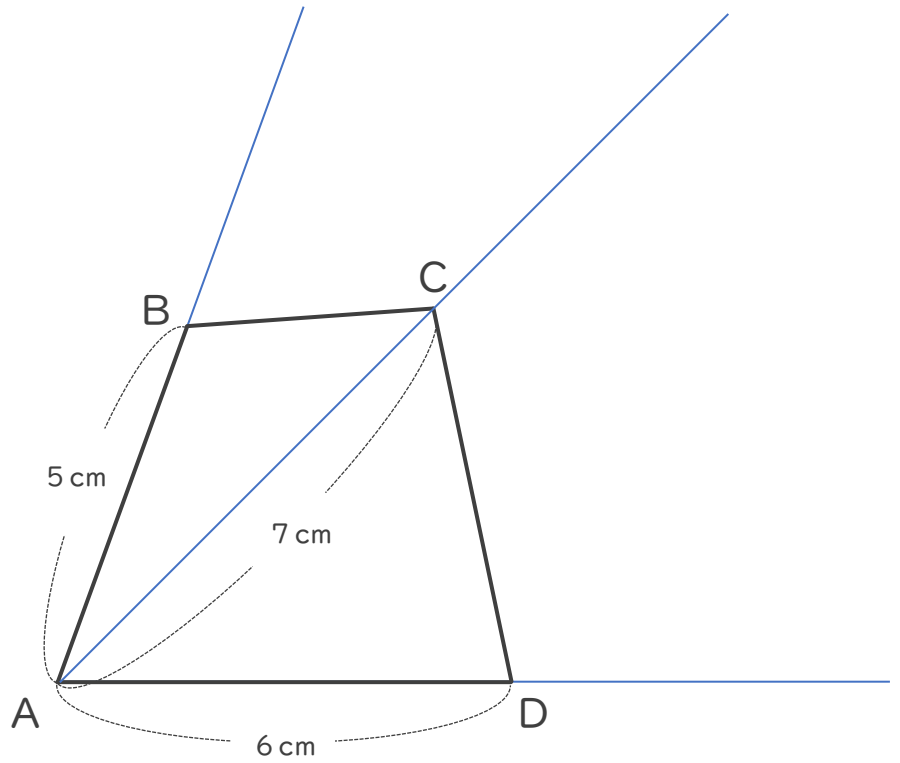
ある頂点を中心とした縮図の作図

日にち： 月 日

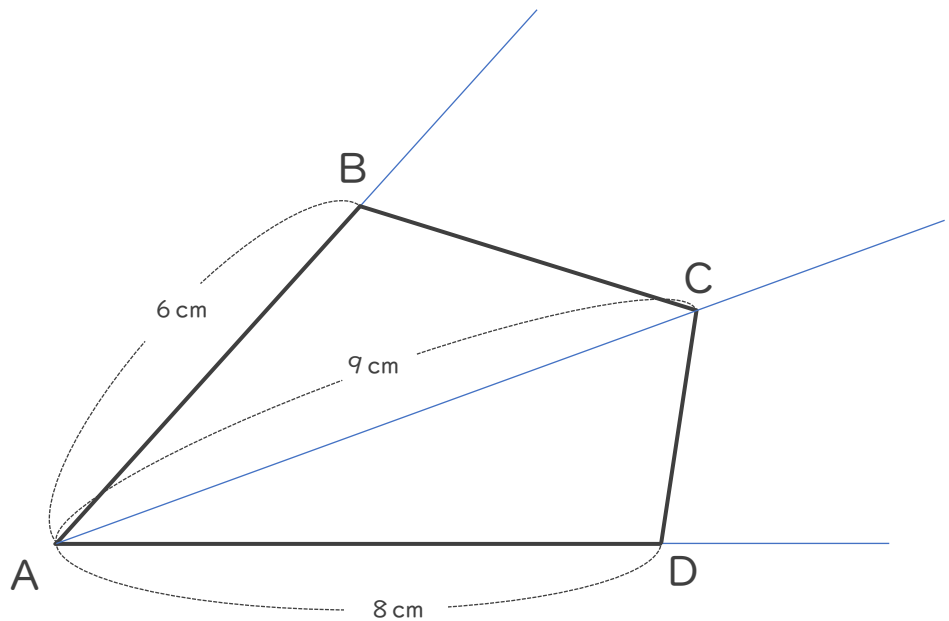
名まえ _____

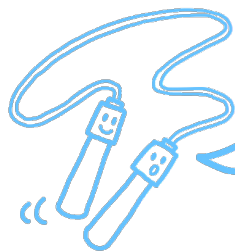
・ 次の四角形ABCDの $\frac{1}{2}$ の縮図を頂点Aを中心にしてかきましょう。

①



②





拡大図と縮図 6



ある頂点を中心とした縮図の作図

日にち： 月 日

名まえ _____

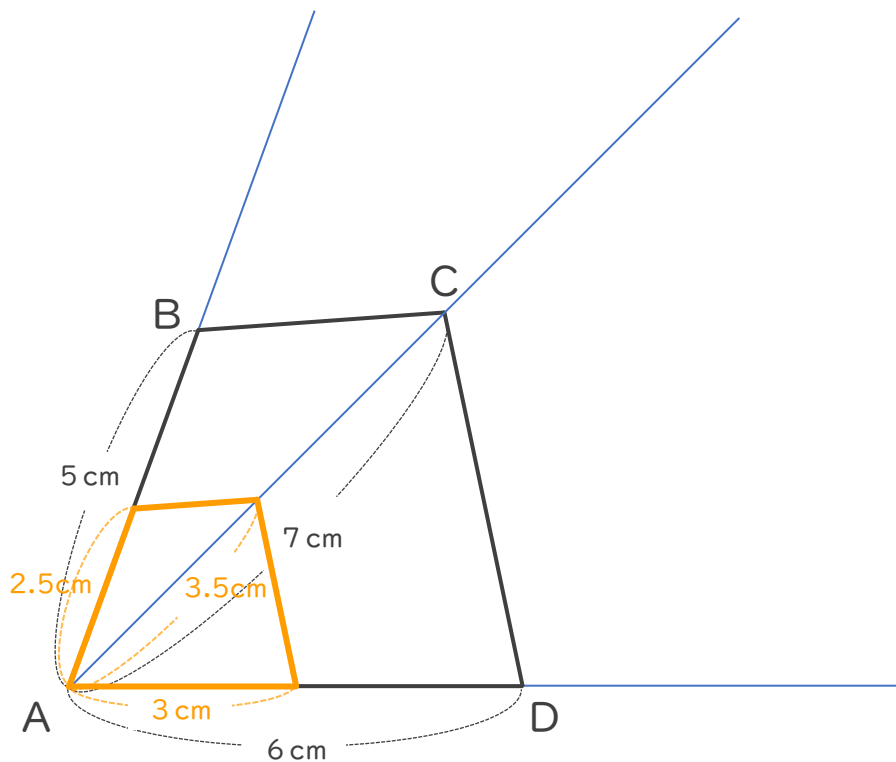
・ 次の四角形ABCDの $\frac{1}{2}$ の縮図を頂点Aを中心にしてかきましょう。

①

$$5 \text{ cm} \times \frac{1}{2} = 2.5 \text{ cm}$$

$$7 \text{ cm} \times \frac{1}{2} = 3.5 \text{ cm}$$

$$6 \text{ cm} \times \frac{1}{2} = 3 \text{ cm}$$



②

$$6 \text{ cm} \times \frac{1}{2} = 3 \text{ cm}$$

$$9 \text{ cm} \times \frac{1}{2} = 4.5 \text{ cm}$$

$$8 \text{ cm} \times \frac{1}{2} = 4 \text{ cm}$$

