



並べ方と 組み合わせ方 7

● お金を組み合わせて
できる金額

5

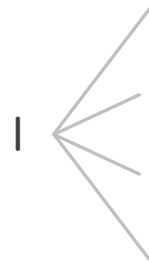
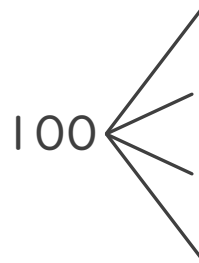
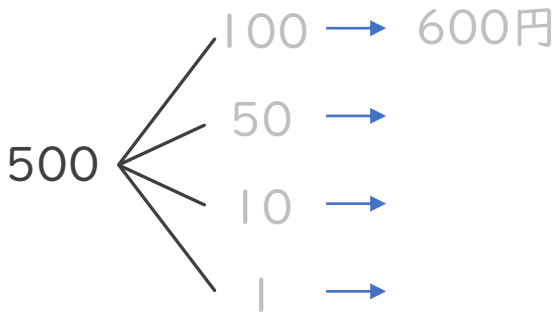
日にち： 月 日

名まえ _____

- ・ 下の5種類のお金が1枚ずつあります。次の問いに答えましょう。
 (うすい字はなぞりましょう。)



- ① 5枚のうち2枚を組み合わせてできる金額を全部かきましょう。



答え

- ② ①の金額のうち、100円以上の金額は何通りありますか。

答え ()



並べ方と 組み合わせ方 7

● お金を組み合わせて
できる金額



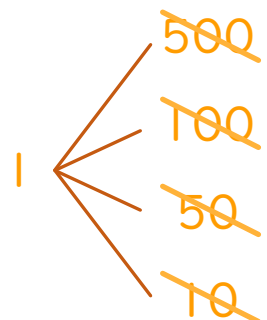
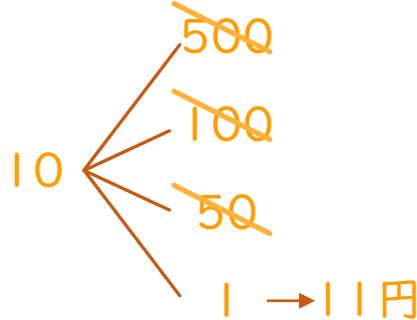
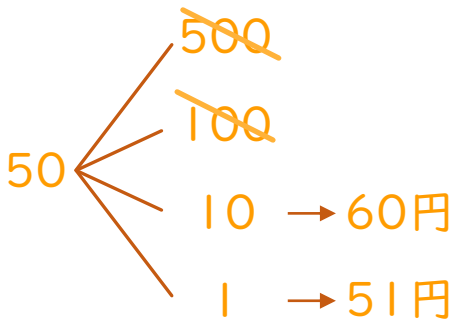
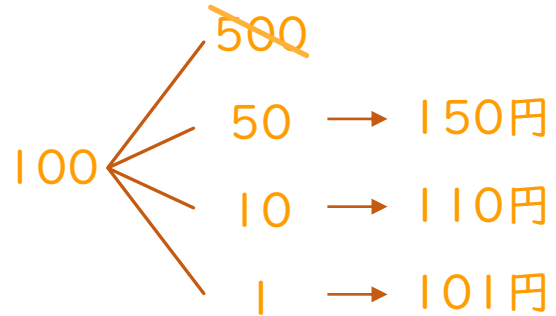
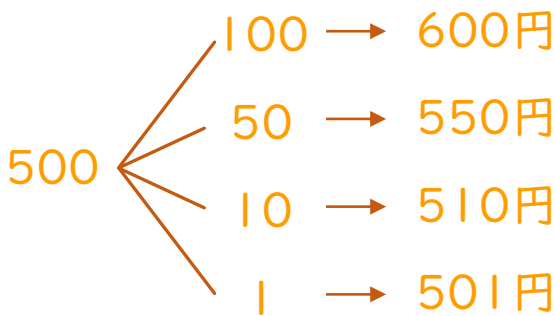
日にち： 月 日

名まえ _____

・ 下の5種類のお金が1枚ずつあります。次の問いに答えましょう。
(うすい字はなぞりましょう。)



① 5枚のうち2枚を組み合わせてできる金額を全部かきましょう。



答え

600円、550円、510円、501円、150円、110円、
101円、60円、51円、11円

② ①の金額のうち、100円以上の金額は何通りありますか。

答え (7通り)

