



データの調べ方 3

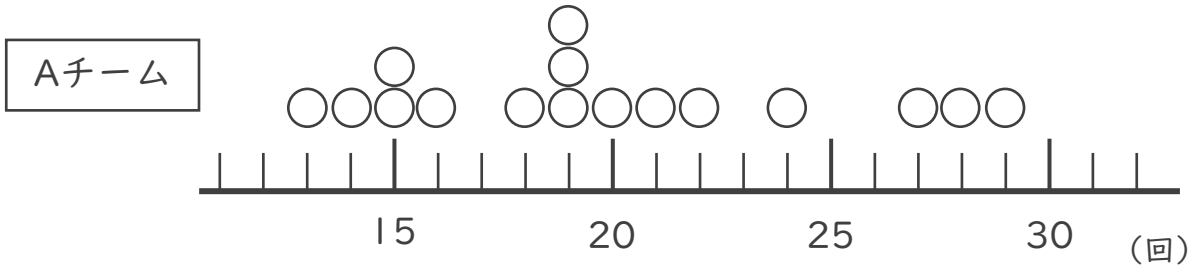
●ドットプロットと
平均値・最頻値



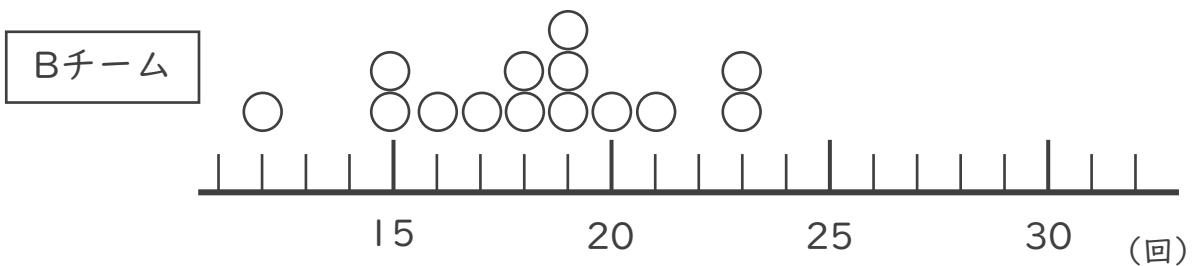
日にち： 月 日

名まえ _____

- ・ 2つの野球チームの upper body start の記録をドットプロットに表しました。
次の問いに答えましょう。



- ① Aチームでいちばん多い記録は何回ですか。 答え ()
- ② Aチームでいちばん少ない記録は何回ですか。 答え ()
- ③ このチームの記録の平均値は19.9回です。ドットプロットの数直線の下に平均値を示す↑をかきましょう。
- ④ このチームの記録の最頻値さいひんちは何回ですか。 答え ()



- ⑤ Bチームでいちばん多い記録は何回ですか。 答え ()
- ⑥ Bチームでいちばん少ない記録は何回ですか。 答え ()
- ⑦ このチームの記録の平均値は18.2回です。ドットプロットの数直線の下に平均値を示す↑をかきましょう。
- ⑧ このチームの記録の最頻値さいひんちは何回ですか。 答え ()





データの調べ方 3

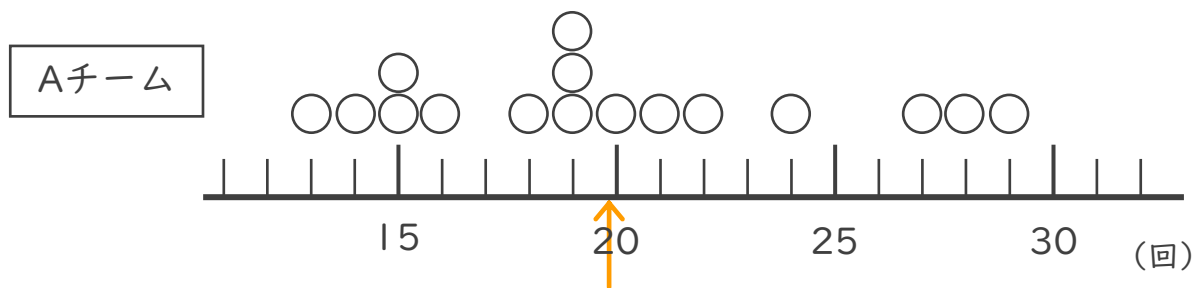
●ドットプロットと
平均値・最頻値



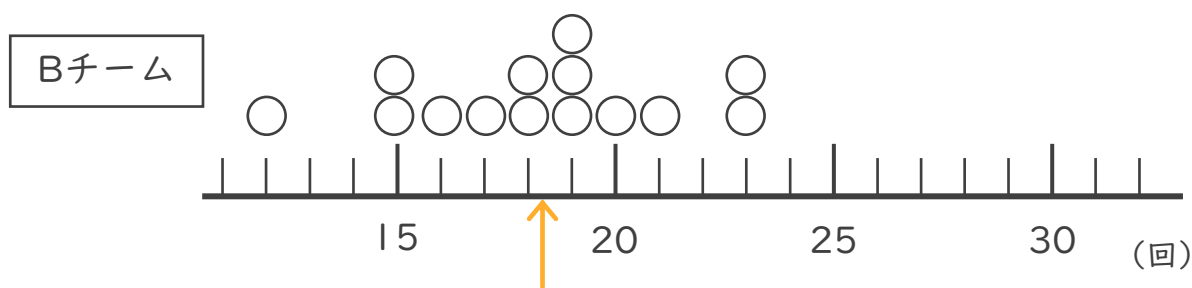
日にち： 月 日

名まえ _____

- ・ 2つの野球チームの upper body start の記録をドットプロットに表しました。
次の問いに答えましょう。



- ① Aチームでいちばん多い記録は何回ですか。 答え (29回)
- ② Aチームでいちばん少ない記録は何回ですか。 答え (13回)
- ③ このチームの記録の平均値は19.9回です。ドットプロットの数直線の下に平均値を示す↑をかきましょう。
- ④ このチームの記録の最頻値さいひんちは何回ですか。 答え (19回)



- ⑤ Bチームでいちばん多い記録は何回ですか。 答え (12回)
- ⑥ Bチームでいちばん少ない記録は何回ですか。 答え (23回)
- ⑦ このチームの記録の平均値は18.2回です。ドットプロットの数直線の下に平均値を示す↑をかきましょう。
- ⑧ このチームの記録の最頻値さいひんちは何回ですか。 答え (19回)

