



# データの調べ方 3

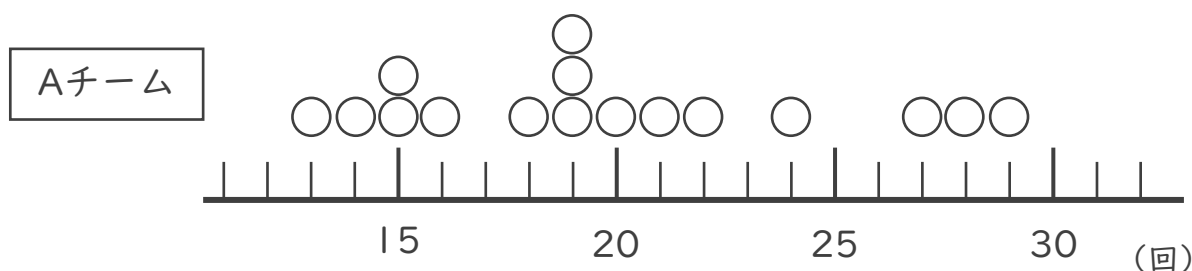
●ドットプロットと  
平均値・最頻値

5

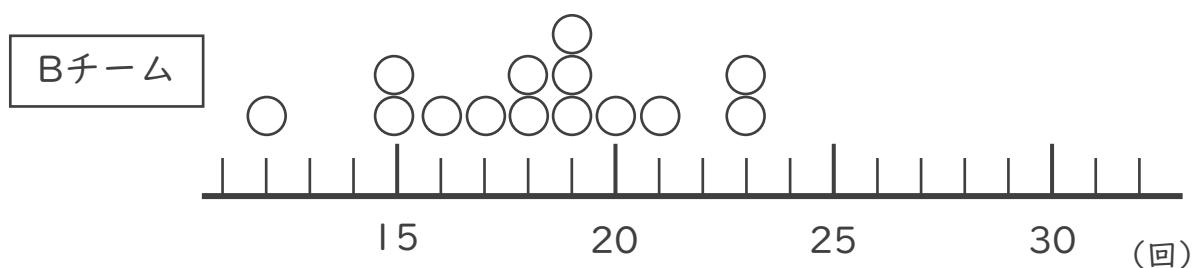
日にち： 月 日

名まえ \_\_\_\_\_

- ・ 2つの野球チームの upper body start の記録をドットプロットに表しました。  
次の問いに答えましょう。



- ① Aチームでいちばん多い記録は何回ですか。 答え ( )
- ② Aチームでいちばん少ない記録は何回ですか。 答え ( )
- ③ このチームの記録の平均値は19.9回です。ドットプロットの数直線の下に平均値を示す↑をかきましょう。
- ④ このチームの記録の最頻値さいひんちは何回ですか。 答え ( )



- ⑤ Bチームでいちばん多い記録は何回ですか。 答え ( )
- ⑥ Bチームでいちばん少ない記録は何回ですか。 答え ( )
- ⑦ このチームの記録の平均値は18.2回です。ドットプロットの数直線の下に平均値を示す↑をかきましょう。
- ⑧ このチームの記録の最頻値さいひんちは何回ですか。 答え ( )





# データの調べ方 3

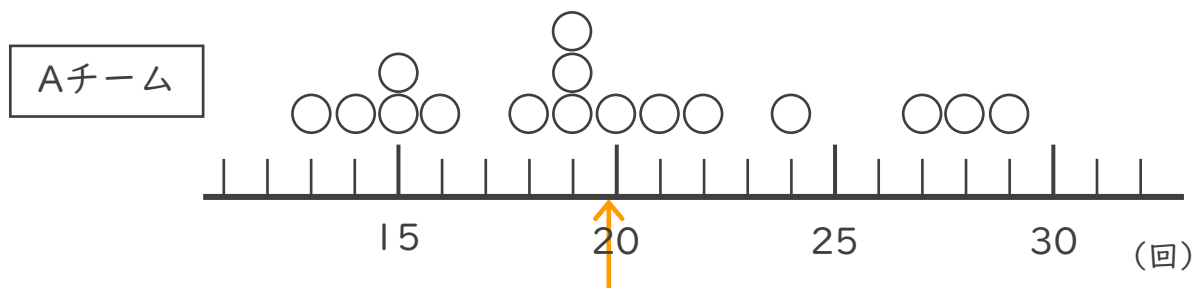
●ドットプロットと  
平均値・最頻値



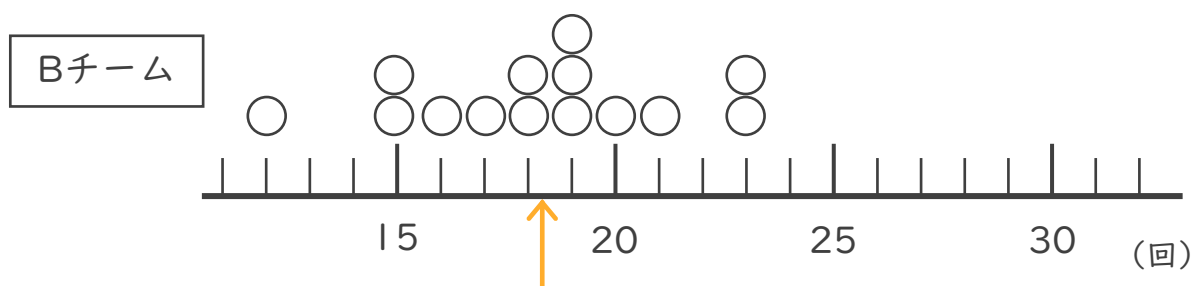
日にち：            月            日

名まえ \_\_\_\_\_

- ・ 2つの野球チームの upper body start の記録をドットプロットに表しました。  
次の問いに答えましょう。



- ① Aチームでいちばん多い記録は何回ですか。            答え (    29回    )
- ② Aチームでいちばん少ない記録は何回ですか。            答え (    13回    )
- ③ このチームの記録の平均値は19.9回です。ドットプロットの数直線の下に平均値を示す↑をかきましょう。
- ④ このチームの記録の最頻値さいひんちは何回ですか。            答え (    19回    )



- ⑤ Bチームでいちばん多い記録は何回ですか。            答え (    23回    )
- ⑥ Bチームでいちばん少ない記録は何回ですか。            答え (    12回    )
- ⑦ このチームの記録の平均値は18.2回です。ドットプロットの数直線の下に平均値を示す↑をかきましょう。
- ⑧ このチームの記録の最頻値さいひんちは何回ですか。            答え (    19回    )

