



対称な図形6

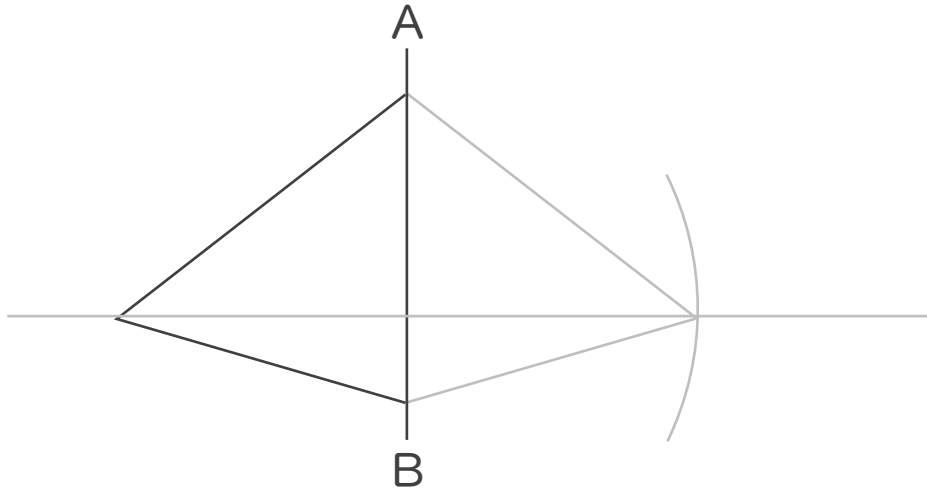
◎ 線対称な図形の作図
(マス目なし)



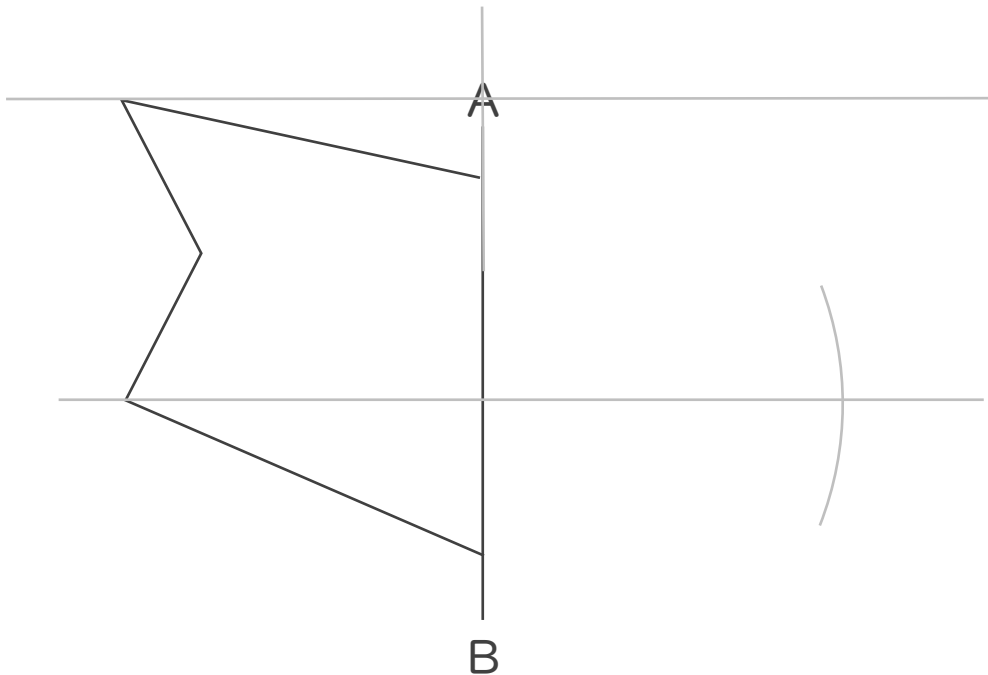
日にち： 月 日

名まえ _____

1 直線ABを対称の軸として、線対称な図形をかきなさい。
(うすい字はなぞりましょう。)



2 直線ABを対称の軸として、線対称な図形をかきなさい。





対称な図形6

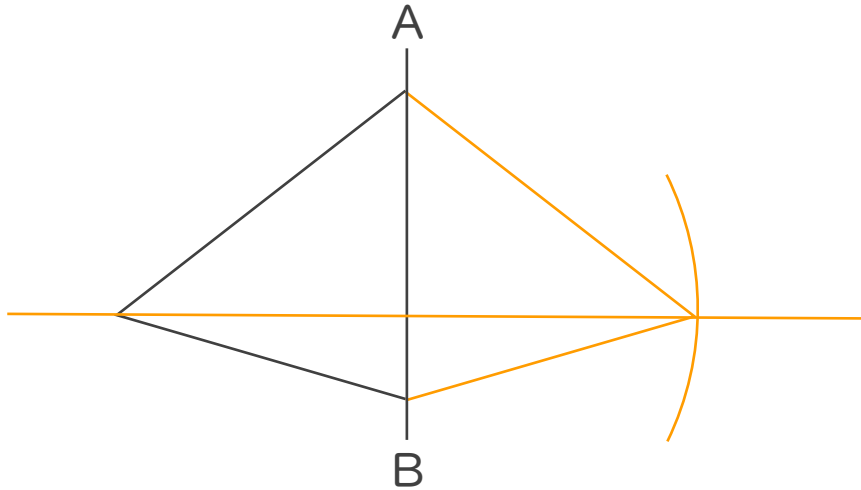
◎ 線対称な図形の作図
(マス目なし)



日にち： 月 日

名まえ _____

- 1 直線ABを対称の軸として、線対称な図形をかきなさい。
(うすい字はなぞりましょう。)



- 2 直線ABを対称の軸として、線対称な図形をかきなさい。

