



並べ方と 組み合わせ方 6

● 2つ選ぶ組み合わせ
(樹形図)




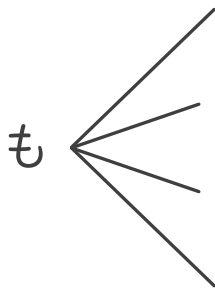
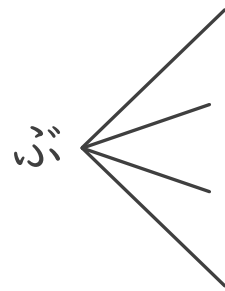
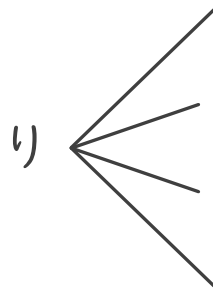
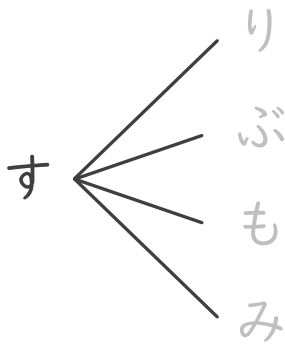
日にち： 月 日

名まえ _____

・ すいか、りんご、ぶどう、もも、みかんの5つのジュースから、2つ
選びます。次の問いに答えましょう。(うすい字はなぞりましょう。)

① どんな組み合わせがありますか。図にまとめましょう。

すいか ⇒ す	りんご ⇒ り	ぶどう ⇒ ぶ
もも ⇒ も	みかん ⇒ み	



↑線もなぞりましょう

② ジュースの組み合わせは全部で何通りありますか。

答え ()





並べ方と 組み合わせ方 6

⑤ 2つ選ぶ組み合わせ
(樹形図)



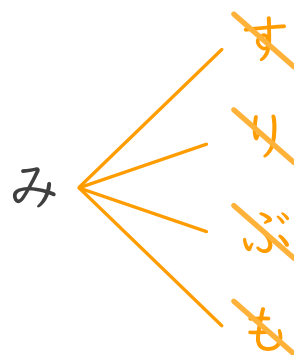
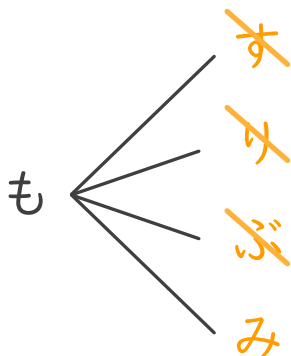
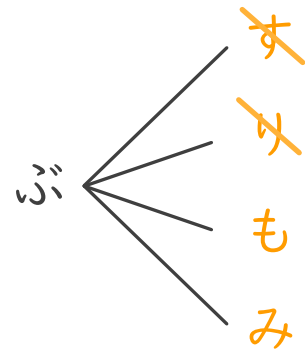
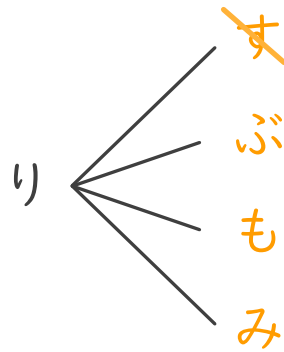
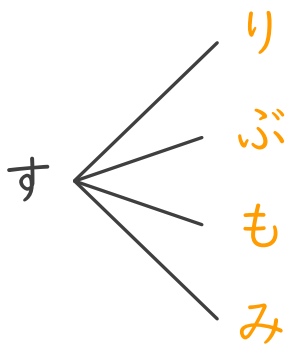
日にち： 月 日

名まえ _____

・ すいか、りんご、ぶどう、もも、みかんの5つのジュースから、2つ
選びます。次の問いに答えましょう。(うすい字はなぞりましょう。)

① どんな組み合わせがありますか。図にまとめましょう。

<u>す</u> いか ⇒ す	<u>り</u> んご ⇒ り	<u>ぶ</u> どう ⇒ ぶ
<u>も</u> も ⇒ も	<u>み</u> かん ⇒ み	



↑線もなぞりましょう

② ジュースの組み合わせは全部で何通りありますか。

答え (10通り)

