



並べ方と 組み合わせ方 7

● お金を組み合わせて
できる金額



日にち： 月 日

名まえ _____

下の5種類のお金が1枚ずつあります。次の問いに答えましょう。



500円



100円



50円



5円



1円

① 5枚のうち2枚を組み合わせてできる金額を全部かきましょう。

答え

② ①の金額のうち、501円以上の金額は何通りありますか。

答え ()





並べ方と 組み合わせ方 7

● お金を組み合わせて
できる金額



日にち： 月 日

名まえ _____

下の5種類のお金が1枚ずつあります。次の問いに答えましょう。



500円



100円



50円

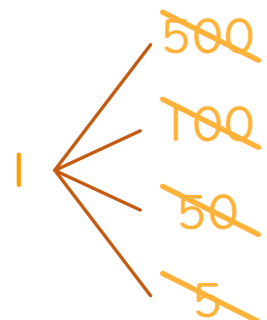
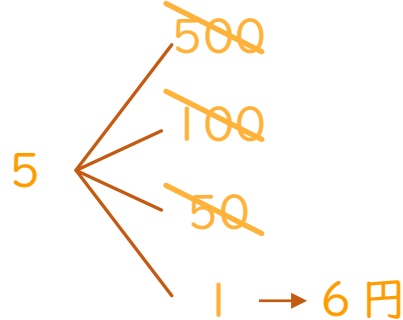
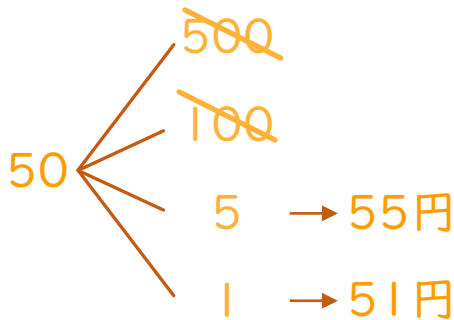
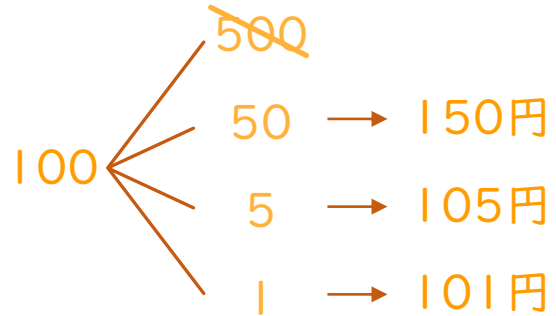
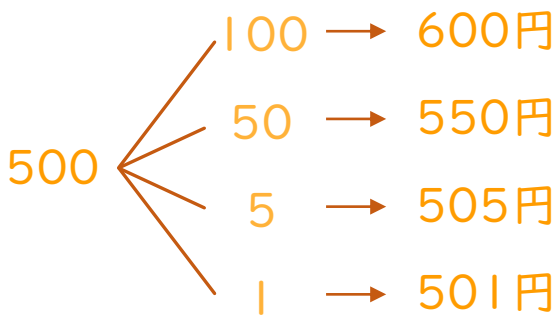


5円



1円

① 5枚のうち2枚を組み合わせてできる金額を全部かきましょう。



答え

600円、550円、505円、501円、150円、105円、
101円、55円、51円、6円

② ①の金額のうち、501円以上の金額は何通りありますか。

答え (4通り)

