



データの調べ方 7

◎ ヒストグラムの読み取り

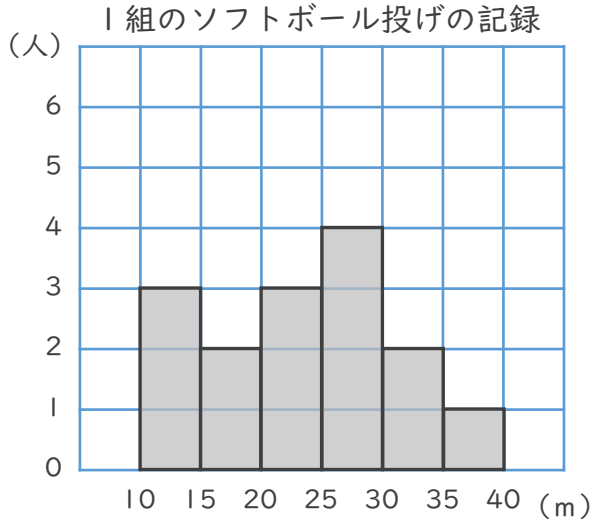


日にち： 月 日

名まえ _____

下のヒストグラムを見て、次の問いに答えましょう。

1



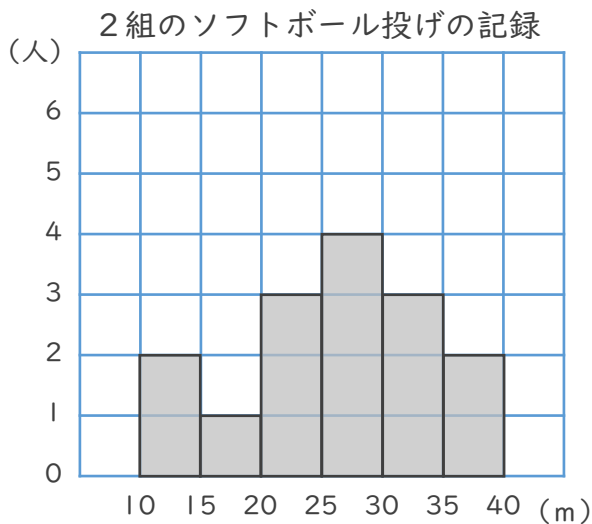
① 1組の人数は何人ですか。

答え ()

② 記録が20m未満の人は何人ですか。

答え ()

2



① 2組の人数は何人ですか。

答え ()

② 記録が25m未満の人は何人ですか。

答え ()



データの調べ方 7

◎ ヒストグラムの読み取り

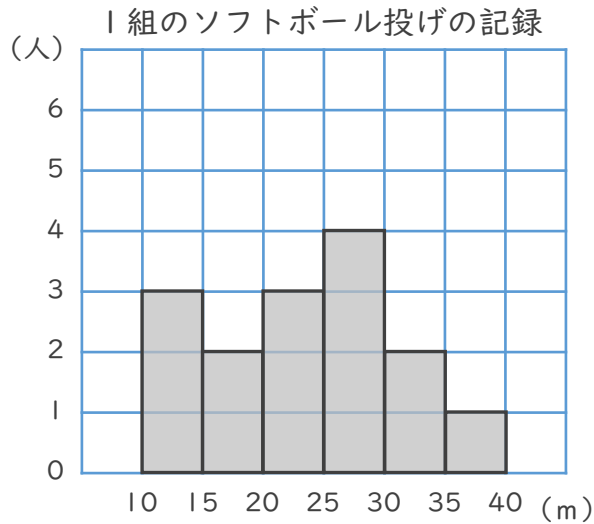


日にち： 月 日

名まえ _____

下のヒストグラムを見て、次の問いに答えましょう。

1



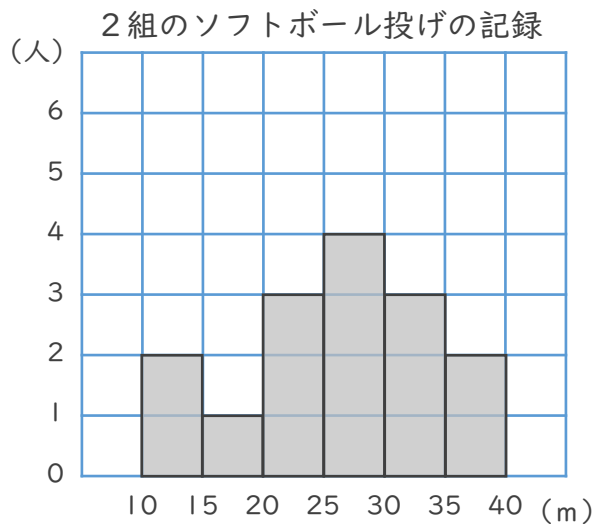
① 1組の人数は何人ですか。

答え (15人)

② 記録が20m未満の人は何人ですか。

答え (5人)

2



① 2組の人数は何人ですか。

答え (15人)

② 記録が25m未満の人は何人ですか。

答え (6人)