



およその  
面積と体積 3

◎ 立体に見立てて  
およその面積を求める

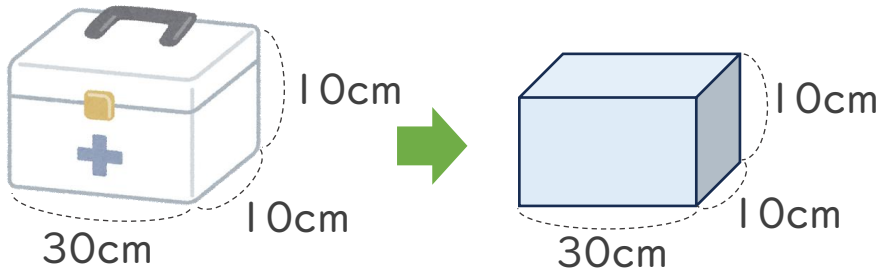


日にち：            月            日

名まえ \_\_\_\_\_

・ およその容積や体積を求めましょう。

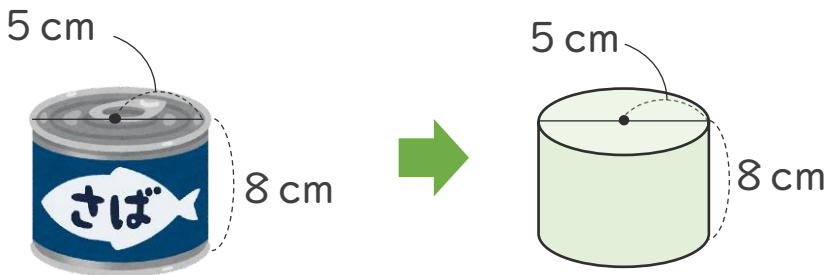
①



式：

答え： 約 \_\_\_\_\_  $\text{cm}^3$

②



式：

答え： 約 \_\_\_\_\_  $\text{cm}^3$



およその  
面積と体積 3

◎ 立体に見立てて  
およその面積を求める

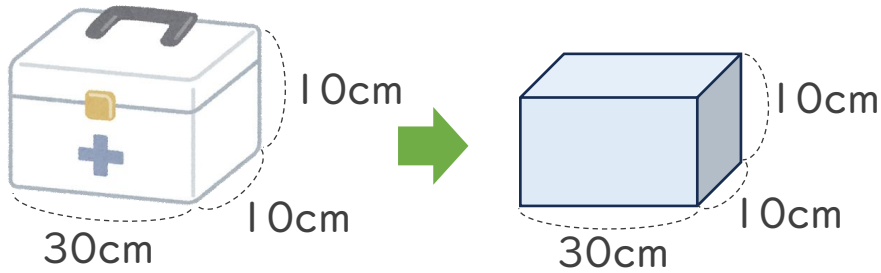


日にち：            月            日

名まえ \_\_\_\_\_

・ およその容積や体積を求めましょう。

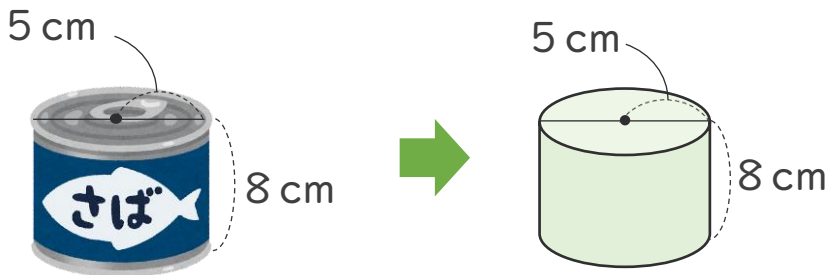
①



$$\text{式： } 30 \times 10 \times 10 = 300$$

答え： 約 300  $\text{cm}^3$

②



$$\text{式： } 5 \times 5 \times 3.14 \times 8 = 628$$

答え： 約 628  $\text{cm}^3$