



およその
面積と体積 3

◎ 立体に見立てて
およその面積を求める

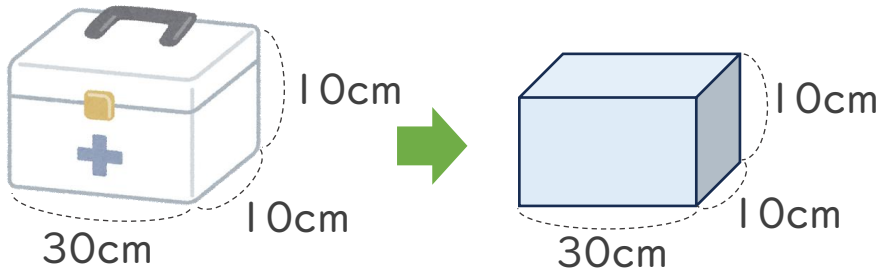


日にち： 月 日

名まえ _____

・ およその容積や体積を求めましょう。

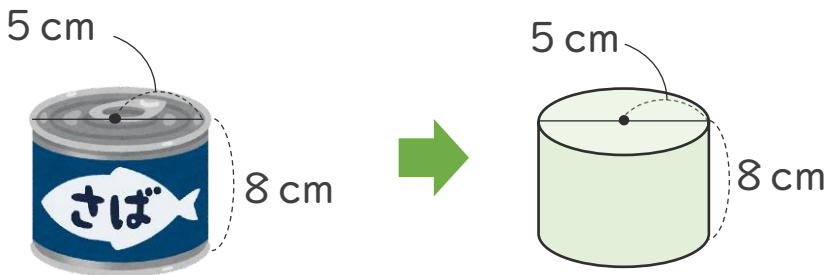
①



式：

答え： 約 _____ cm^3

②



式：

答え： 約 _____ cm^3



およその
面積と体積 3

◎ 立体に見立てて
およその面積を求める

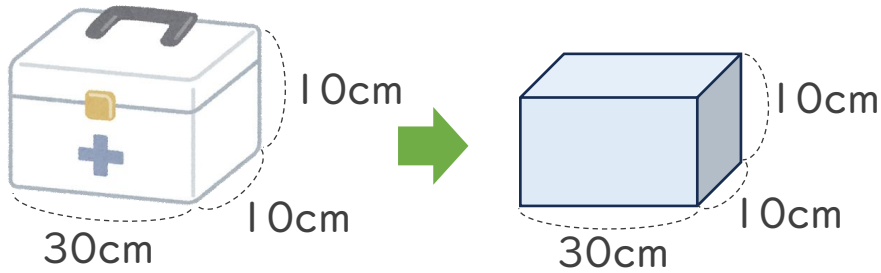


日にち： 月 日

名まえ _____

・ およその容積や体積を求めましょう。

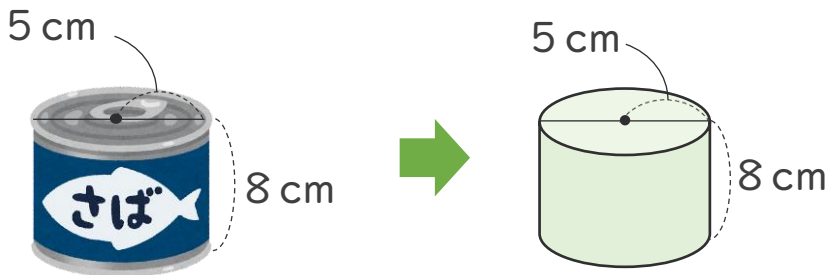
①



式： $10 \times 30 \times 10 = 300$

答え： 約 300 cm^3

②



式： $5 \times 5 \times 3.14 \times 8 = 628$

答え： 約 628 cm^3