



およその
面積と体積 3

◎ 立体に見立てて
およその面積を求める

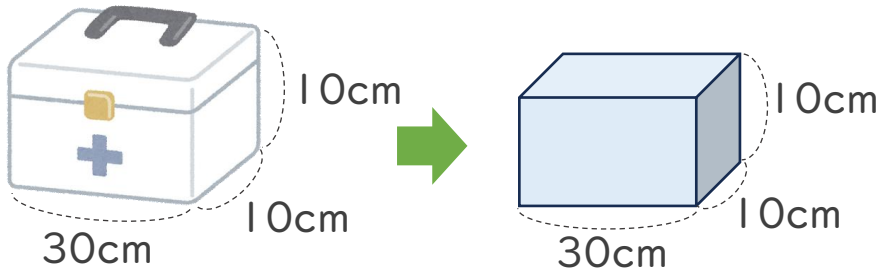


日にち： 月 日

名まえ _____

・ およその容積や体積を求めましょう。

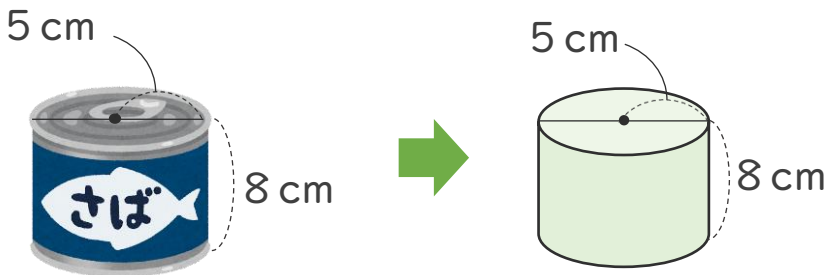
①



式：

答え： 約 _____ cm^3

②



式：

答え： 約 _____ cm^3



およその
面積と体積 3

◎ 立体に見立てて
およその面積を求める

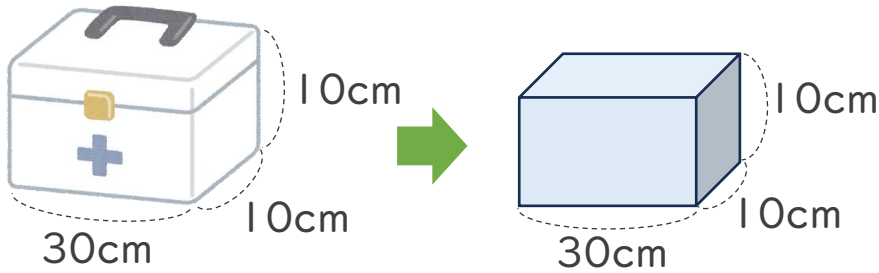


日にち： 月 日

名まえ _____

・ およその容積や体積を求めましょう。

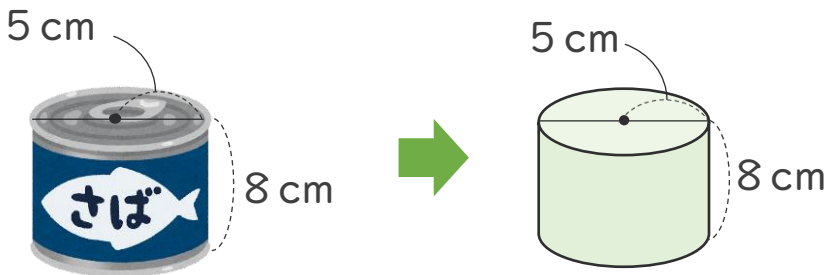
①



$$\text{式： } 10 \times 30 \times 10 = 3000$$

答え： 約 3000 cm³

②



$$\text{式： } 5 \times 5 \times 3.14 \times 8 = 628$$

答え： 約 628 cm³