



# 対称な図形2



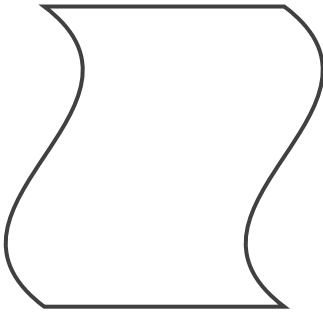
## 線対称の軸

日にち：            月            日

名まえ \_\_\_\_\_

・次の図で、線対称な図には○、線対称な図形ではないものには×と答えなさい。また、○をつけた図形には対称の軸をすべてかき入れなさい。

①




答え： \_\_\_\_\_

②




答え： \_\_\_\_\_

③



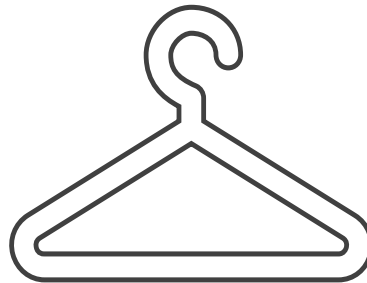
答え： \_\_\_\_\_

④



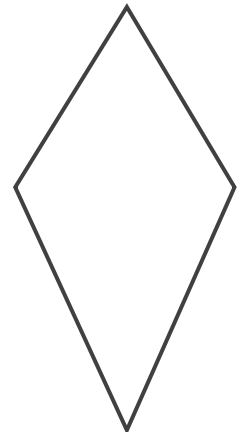
答え： \_\_\_\_\_

⑤



答え： \_\_\_\_\_

⑥



答え： \_\_\_\_\_





# 対称な図形2

# 6

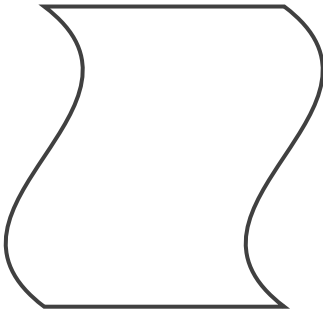
## 線対称の軸

日にち：      月      日

名まえ \_\_\_\_\_

・次の図で、線対称な図には○、線対称な図形ではないものには×と答えなさい。また、○をつけた図形には対称の軸をすべてかき入れなさい。

①




答え： ×

②



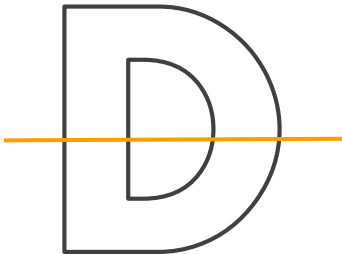
答え： ○

③



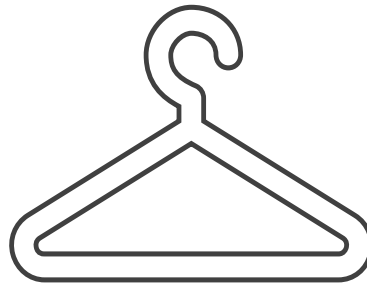
答え： ×

④



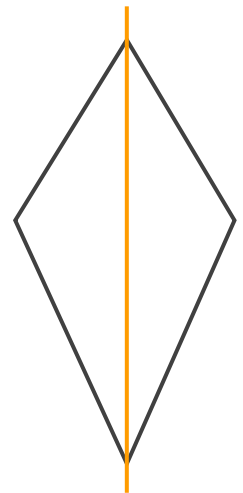
答え： ○

⑤



答え： ×

⑥



答え： ○

