





並べ方と  
組み合わせ方 6

● 2つ選ぶ組み合わせ  
(樹形図)

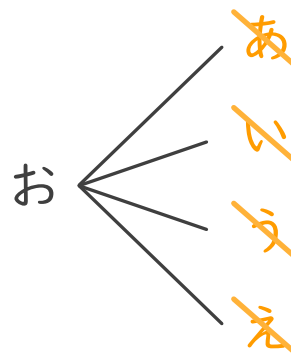
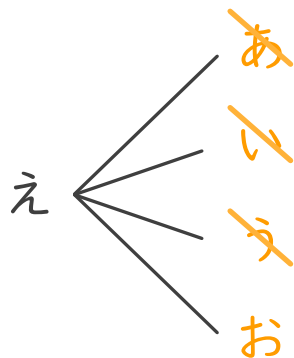
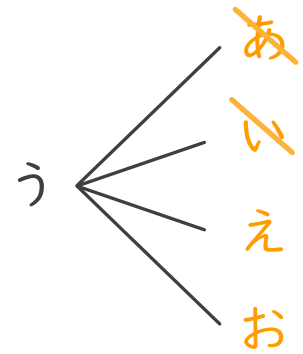
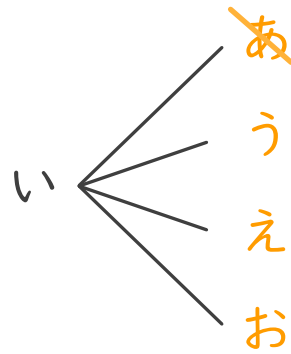
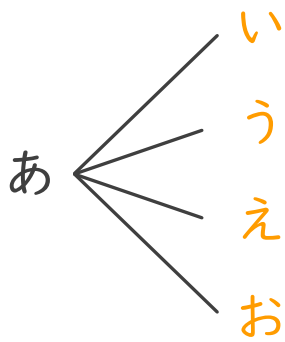


日にち：        月        日

名まえ \_\_\_\_\_

・あ、い、う、え、おの5つのひらがなから、2つ選びます。次の問いに答えましょう。

① どんな組み合わせがありますか。図にまとめましょう。



② ひらがなの組み合わせは全部で何通りありますか。

答え (        10通り        )

