



並べ方と 組み合わせ方 7

● お金を組み合わせて
できる金額



日にち： 月 日

名まえ _____

下の5種類のお金が1枚ずつあります。次の問いに答えましょう。



500円



100円



50円

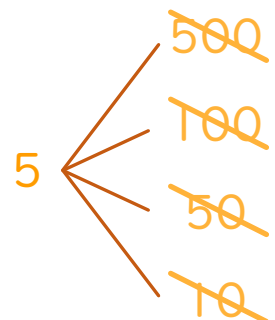
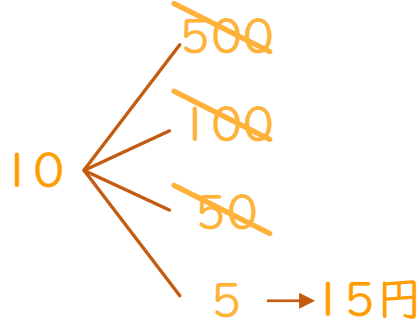
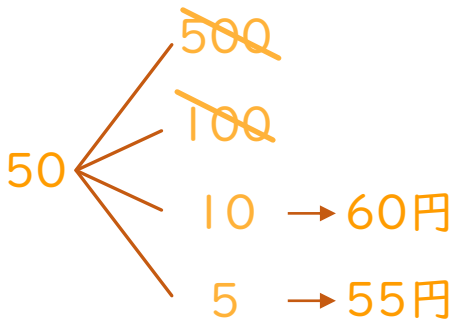
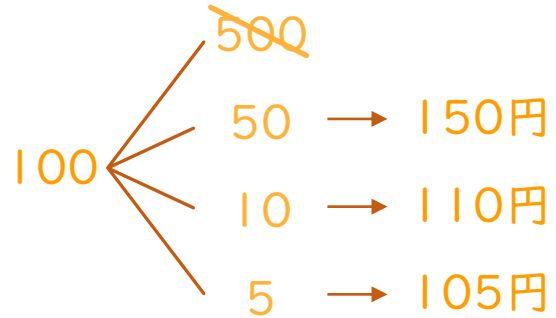
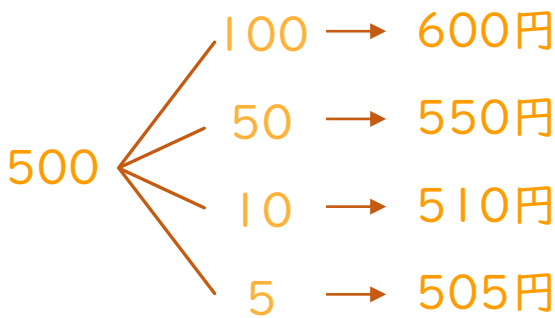


10円



5円

① 5枚のうち2枚を組み合わせてできる金額を全部かきましょう。



答え

600円、550円、510円、505円、150円、110円、
105円、60円、55円、15円

② ①の金額のうち、150円以下の金額は何通りありますか。

答え (6通り)

