



分数のかけ算20

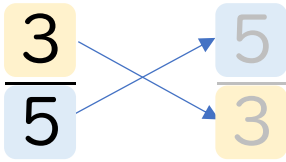
● 分数や整数の逆数



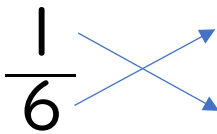
日にち： 月 日

名まえ _____

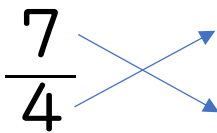
・ 次の数の逆数を求めましょう。(うすい字はしっかりなぞろう。)

① $\frac{3}{5}$ 

逆数： _____

② $\frac{1}{6}$ 

逆数： _____

③ $\frac{7}{4}$ 

逆数： _____

④ $4 =$ 

逆数： _____

⑤ $\frac{1}{3}$

逆数： _____

⑥ $\frac{5}{9}$

逆数： _____

⑦ 15

逆数： _____

⑧ $\frac{7}{8}$

逆数： _____



分数のかけ算20

● 分数や整数の逆数



日にち： 月 日

名まえ _____

・ 次の数の逆数を求めましょう。(うすい字はしっかりなぞろう。)

① $\frac{3}{5}$ \times $\frac{5}{3}$

逆数： $\frac{5}{3}$

⑤ $\frac{1}{3}$ \times $\frac{3}{1} = 3$

逆数：3

② $\frac{1}{6}$ \times $\frac{6}{1} = 6$

逆数：6

⑥ $\frac{5}{9}$ \times $\frac{9}{5}$

逆数： $\frac{9}{5}$

③ $\frac{7}{4}$ \times $\frac{4}{7}$

逆数： $\frac{4}{7}$

⑦ $15 = \frac{15}{1}$ \times $\frac{1}{15}$

逆数： $\frac{1}{15}$

④ $4 = \frac{4}{1}$ \times $\frac{1}{4}$

逆数： $\frac{1}{4}$

⑧ $\frac{7}{8}$ \times $\frac{8}{7}$

逆数： $\frac{8}{7}$

