



およその
面積と体積 2

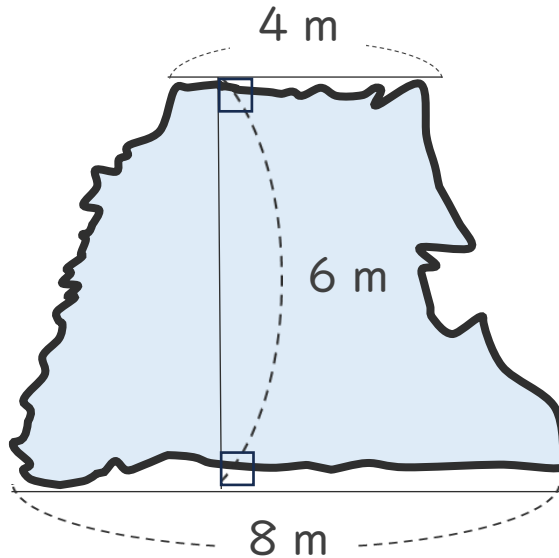
● 図形に見立てて
およその面積を求める



日にち： 月 日

名まえ _____

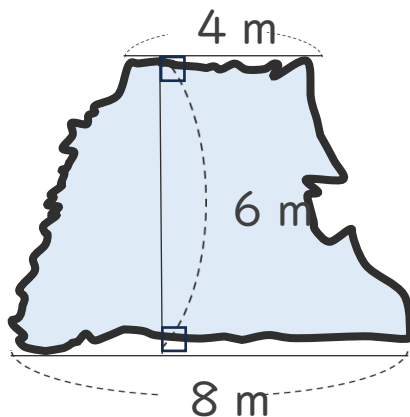
- ・ 次の図のような形の池があります。



- ① 池の形は、およそどんな形とみられますか。

()

- ② この池の面積は、およそ何 m^2 ですか。



式：

答え： 約 m^2



およその
面積と体積 2

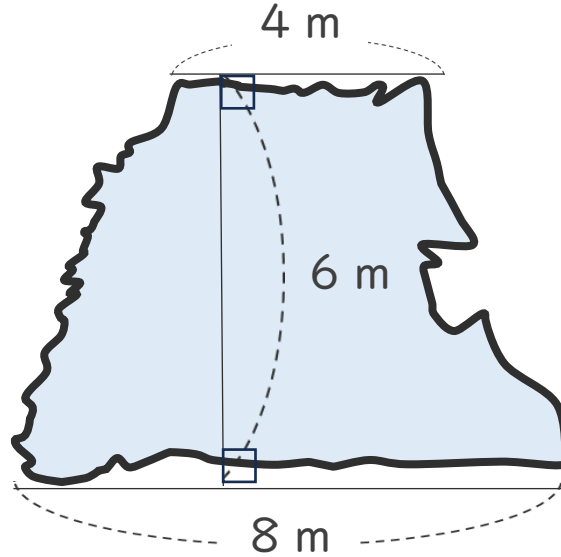
● 図形に見立てて
およその面積を求める



日にち： 月 日

名まえ _____

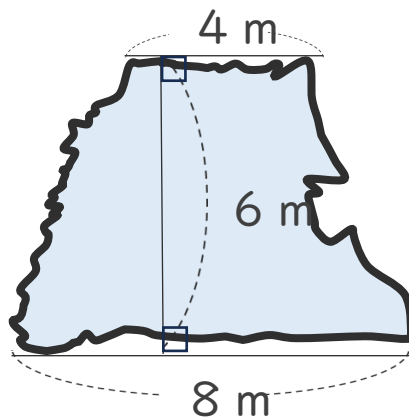
- 次の図のような形の池があります。



- 池の形は、およそどんな形とみられますか。

〔 台形 〕

- この池の面積は、およそ何 m^2 ですか。



式： $(4 + 8) \times 6 \div 2 = 36$

答え： 約 36 m^2