



並べ方と 組み合わせ方 6

● 2つ選ぶ組み合わせ
(樹形図)



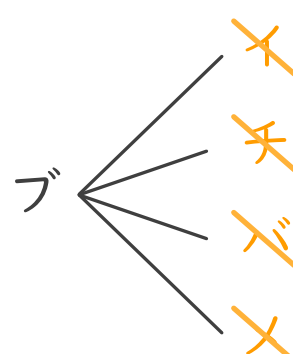
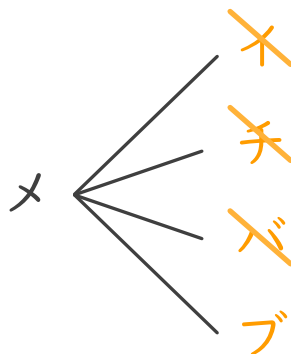
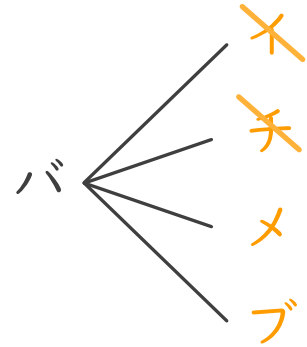
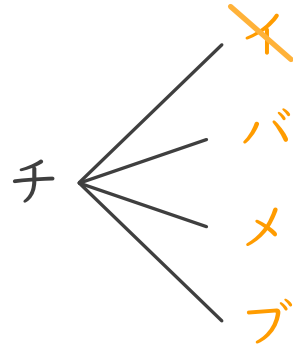
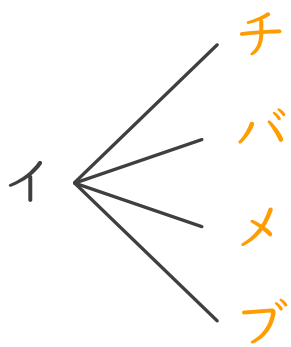
日にち： 月 日

名まえ _____

・イチゴ、チョコ、バニラ、メロン、ブドウの5つの味から、2つ選びます。次の問いに答えましょう。

① どんな組み合わせがありますか。図にまとめましょう。

<u>イ</u> チゴ ⇒ イ	<u>チ</u> ョコ ⇒ チ	<u>バ</u> ニラ ⇒ バ
<u>メ</u> ロン ⇒ メ	<u>ブ</u> ドウ ⇒ ブ	



② 味の組み合わせは全部で何通りありますか。

答え (10通り)

