



並べ方と
組み合わせ方 4

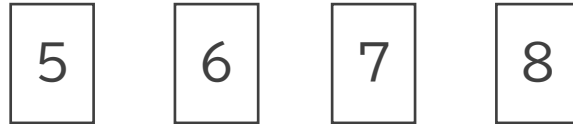
● 4つの数字から
2けたの整数をつくる



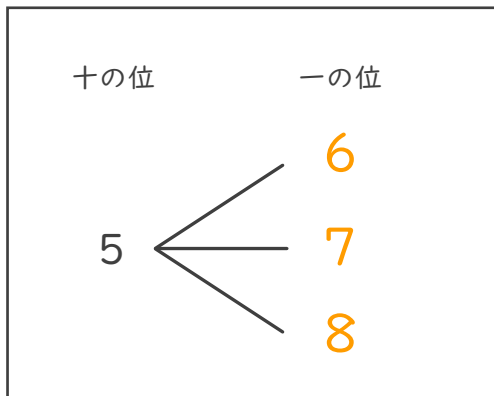
日にち： 月 日

名まえ _____

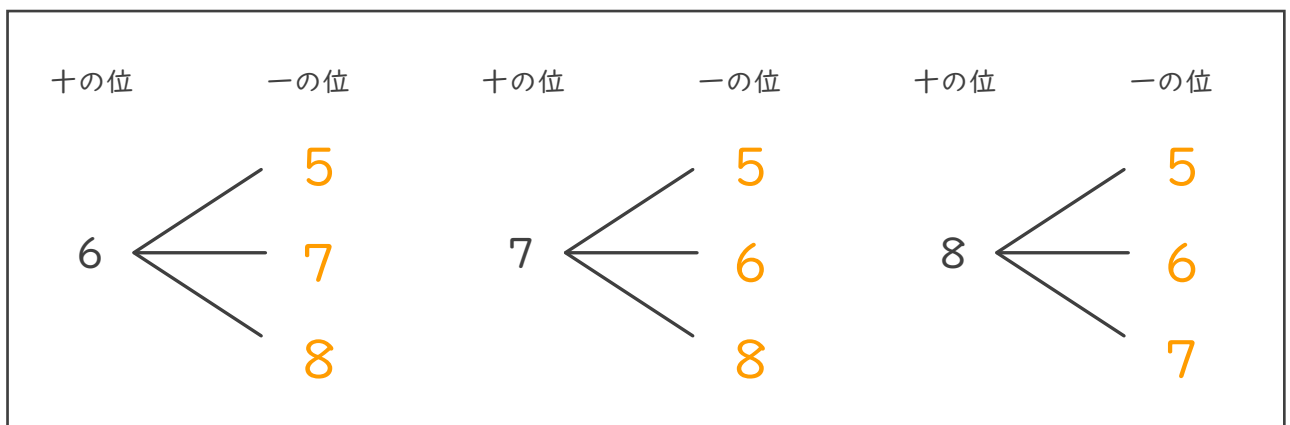
- ・下の4枚のカードのうちの2枚を選んで、2けたの整数をつくります。
次の問いに答えましょう。



- ① 十の位が1になる場合を図に表しましょう。



- ② 十の位が2, 3, 4になる場合を図に表しましょう。



- ③ 2けたの整数は全部で何通りできますか。

答え (12通り)