

# 拡大図と縮図 6

ある頂点を中心とした縮図の作図

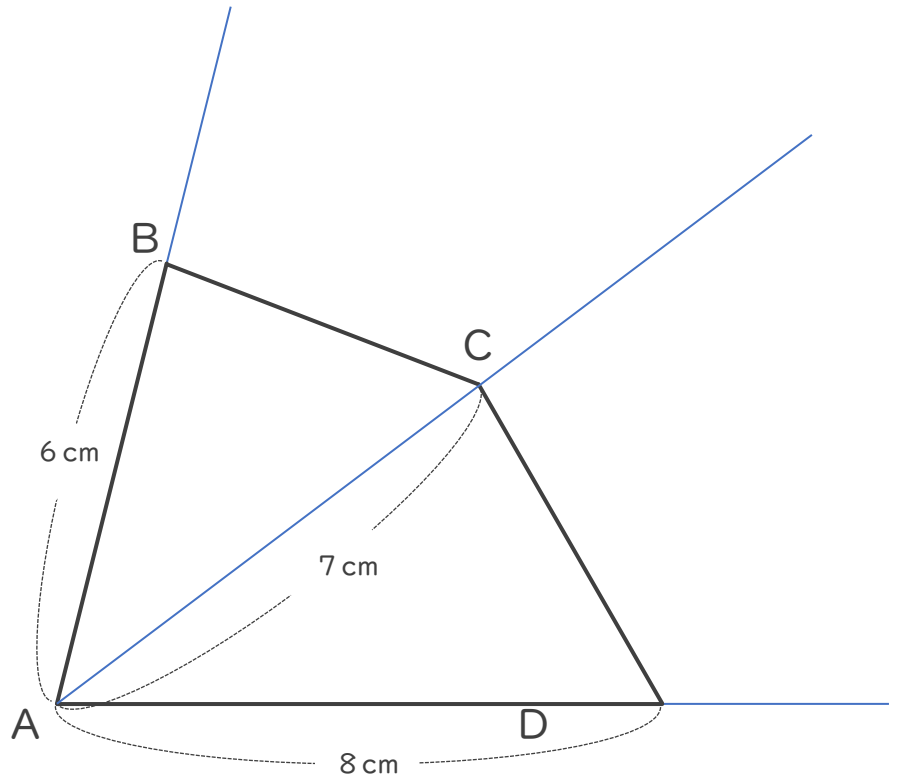


日にち： 月 日

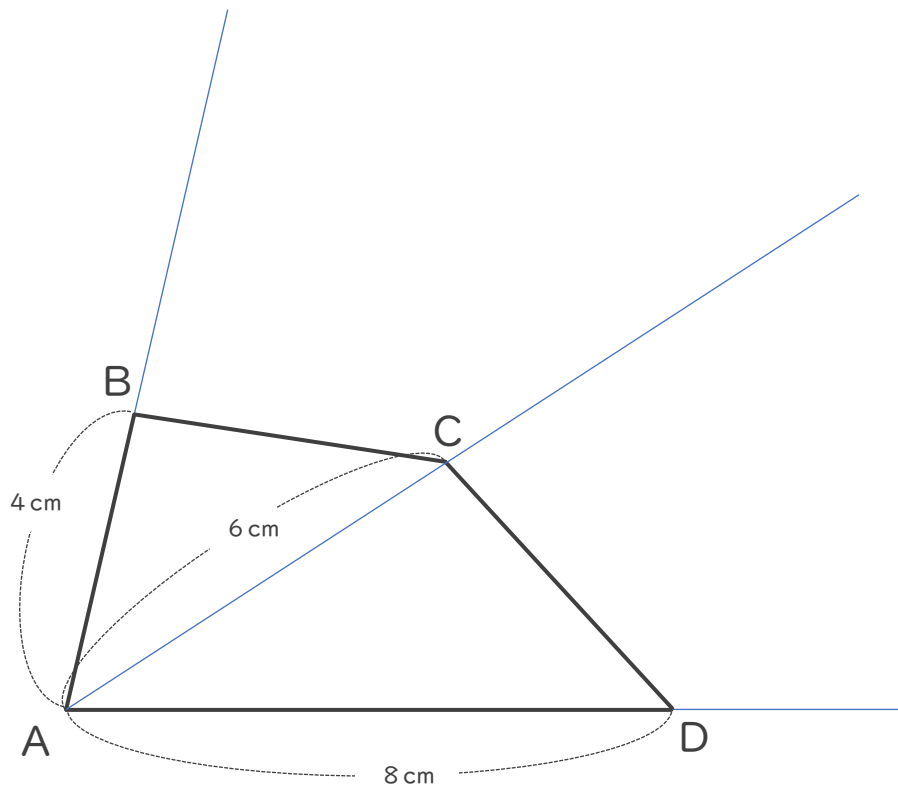
名まえ \_\_\_\_\_


・次の四角形ABCDの  $\frac{1}{2}$  の縮図を頂点Aを中心にしてかきましょう。

①



②





# 拡大図と縮図 6

ある頂点を中心とした縮図の作図



日にち：            月            日

名まえ \_\_\_\_\_

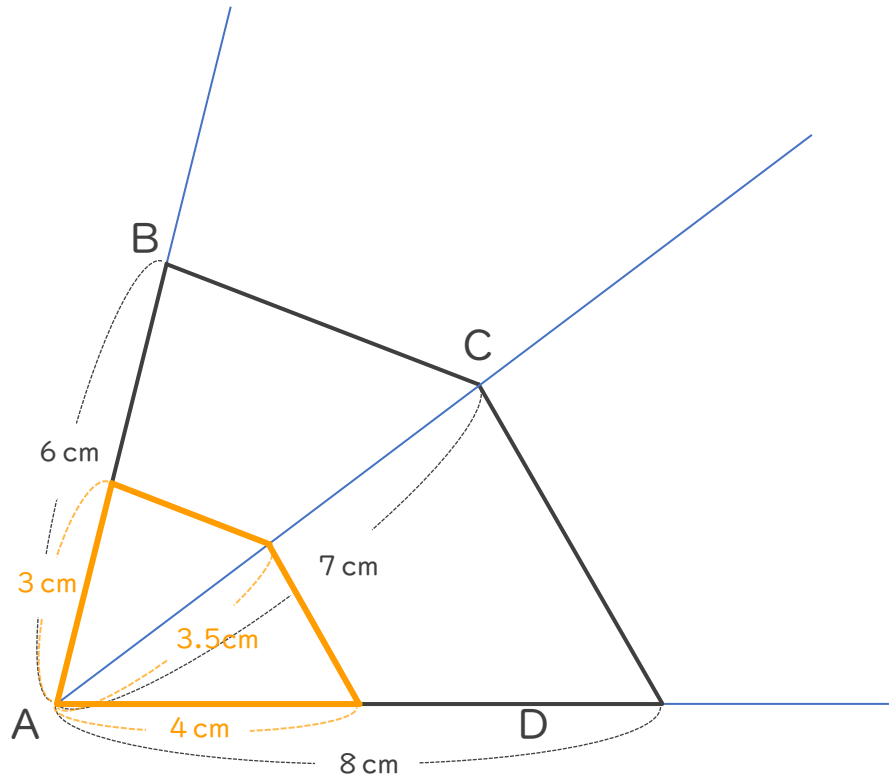
・ 次の四角形ABCDの  $\frac{1}{2}$  の縮図を頂点Aを中心にしてかきましょう。

①

$$6 \text{ cm} \times \frac{1}{2} = 3 \text{ cm}$$

$$7 \text{ cm} \times \frac{1}{2} = 3.5 \text{ cm}$$

$$8 \text{ cm} \times \frac{1}{2} = 4 \text{ cm}$$



②

$$4 \text{ cm} \times \frac{1}{2} = 2 \text{ cm}$$

$$6 \text{ cm} \times \frac{1}{2} = 3 \text{ cm}$$

$$8 \text{ cm} \times \frac{1}{2} = 4 \text{ cm}$$

