



並べ方と 組み合わせ方 7

● お金を組み合わせて
できる金額



日にち： 月 日

名まえ _____

・ 下の5種類のお金が1枚ずつあります。次の問いに答えましょう。



500円



100円



10円

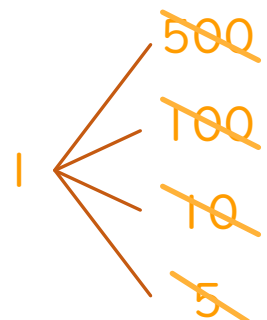
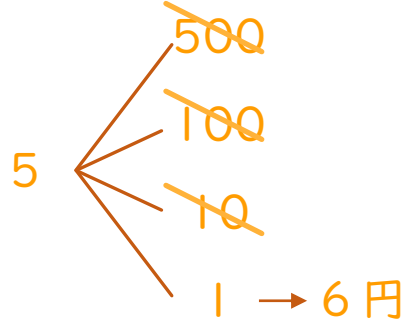
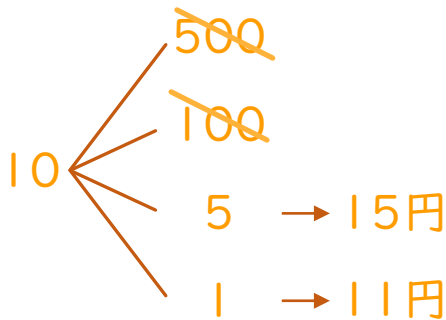
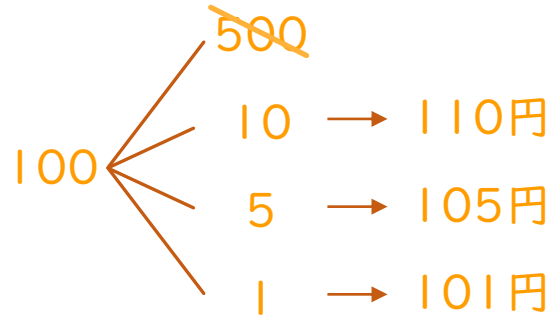
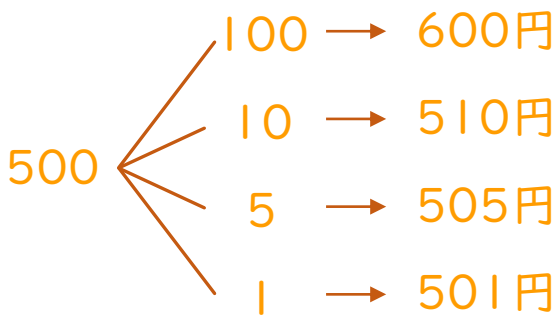


5円



1円

① 5枚のうち2枚を組み合わせてできる金額を全部かきましょう。



答え

600円、510円、505円、501円、110円、105円、
101円、15円、11円、6円

② ①の金額のうち、105円以下の金額は何通りありますか。

答え (5通り)

