



対称な図形2



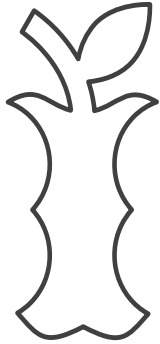
線対称の軸

日にち： 月 日

名まえ _____


・次の図で、線対称な図には○、線対称な図形ではないものには×と答えなさい。また、○をつけた図形には対称の軸をすべてかき入れなさい。

①




答え： _____

②




答え： _____

③



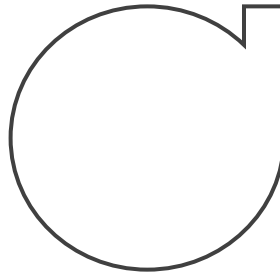
答え： _____

④




答え： _____

⑤



答え： _____

⑥



答え： _____





対称な図形2



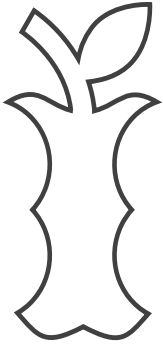
線対称の軸

日にち： 月 日

名まえ _____


・次の図で、線対称な図には○、線対称な図形ではないものには×と答えなさい。また、○をつけた図形には対称の軸をすべてかき入れなさい。

①




答え： ×

②



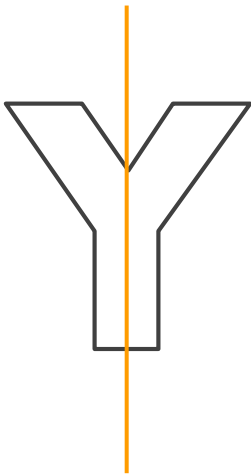
答え： ○

③



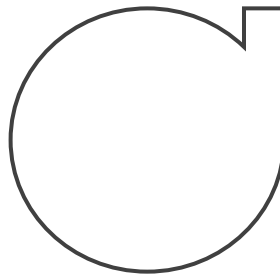
答え： ○

④



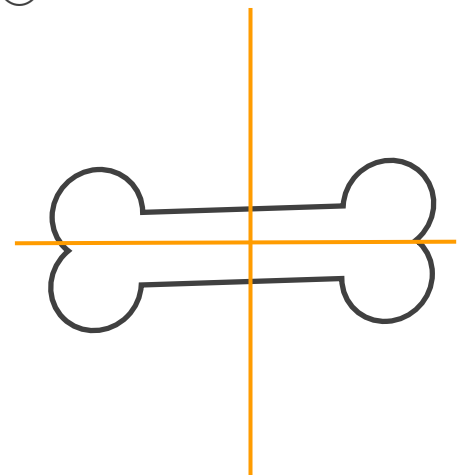
答え： ○

⑤



答え： ×

⑥



答え： ○

