



並べ方と
組み合わせ方 6

● 2つ選ぶ組み合わせ
(樹形図)



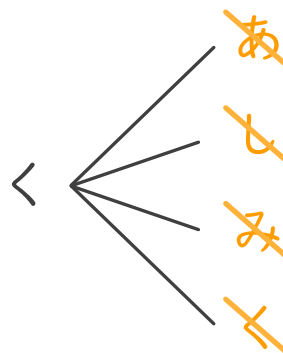
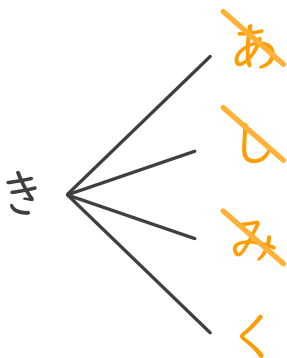
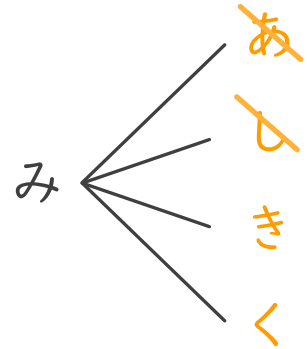
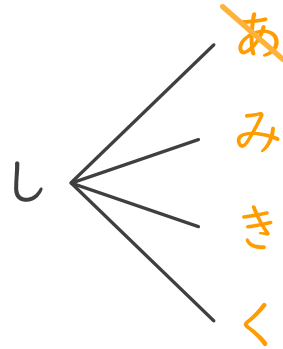
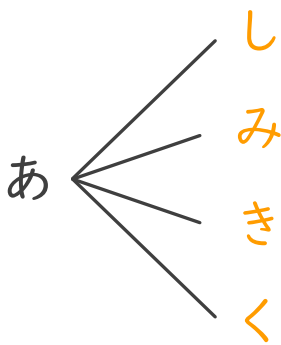
日にち： 月 日

名まえ _____

・赤、白、緑、黄色、黒の5つの色から、2つ選びます。次の問いに
答えましょう。

① どんな組み合わせがありますか。図にまとめましょう。

<u>赤</u> ⇒ あ	<u>白</u> ⇒ し	<u>緑</u> ⇒ み
<u>黄色</u> ⇒ き	<u>黒</u> ⇒ く	



② 色の組み合わせは全部で何通りありますか。

答え (10通り)

