



## 並べ方と 組み合わせ方 7

● お金を組み合わせて  
できる金額



日にち：            月            日

名まえ \_\_\_\_\_

下の5種類のお金が1枚ずつあります。次の問いに答えましょう。



100円



50円



10円



5円



1円

- ① 5枚のうち2枚を組み合わせてできる金額を全部かきましょう。

答え

- ② ①の金額のうち、105円以下の金額は何通りありますか。

答え (                    )





# 並べ方と 組み合わせ方 7

● お金を組み合わせて  
できる金額



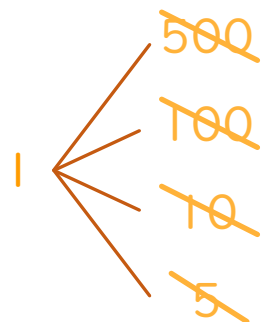
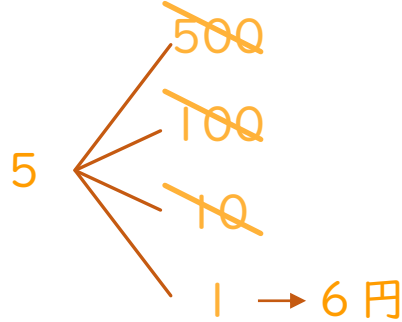
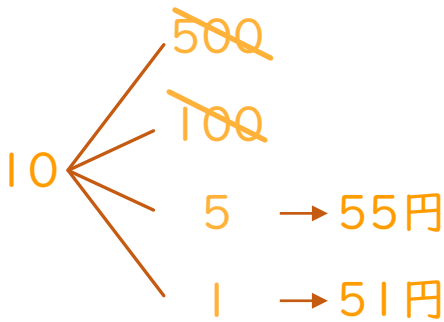
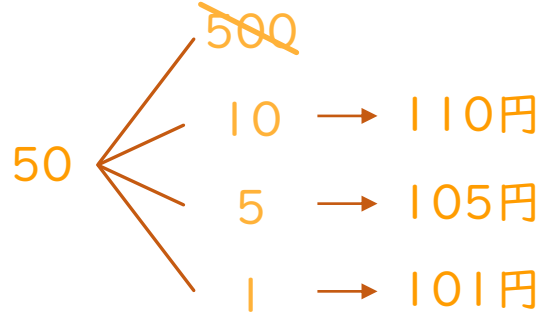
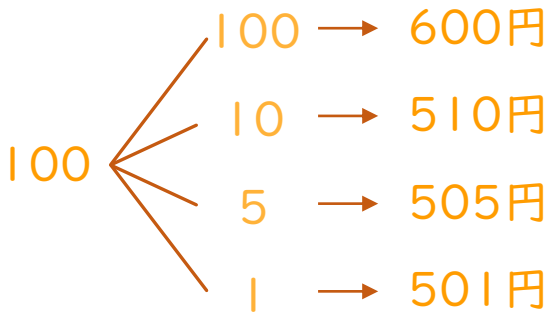
日にち：            月            日

名まえ \_\_\_\_\_

下の5種類のお金が1枚ずつあります。次の問いに答えましょう。



① 5枚のうち2枚を組み合わせてできる金額を全部かきましょう。



答え

600円、510円、505円、501円、110円、105円、  
101円、55円、51円、6円

② ①の金額のうち、105円以下の金額は何通りありますか。

答え (        5通り        )

