



並べ方と  
組み合わせ方 7

● お金を組み合わせて  
できる金額



日にち： 月 日

名まえ \_\_\_\_\_

・下の5種類のお金が1枚ずつあります。次の問いに答えましょう。



100円

50円

10円

5円

1円

① 5枚のうち2枚を組み合わせてできる金額を全部かきましょう。

答え

② ①の金額のうち、105円以下の金額は何通りありますか。

答え ( )





# 並べ方と 組み合わせ方 7

● お金を組み合わせて  
できる金額



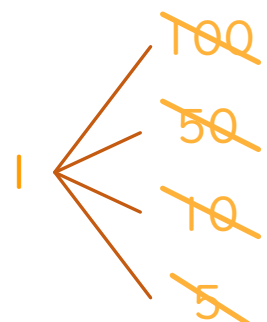
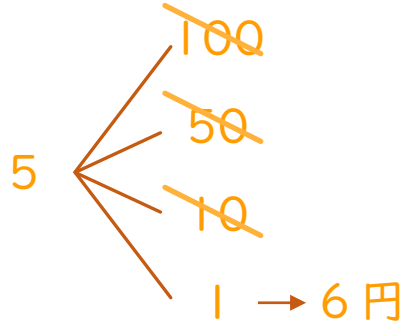
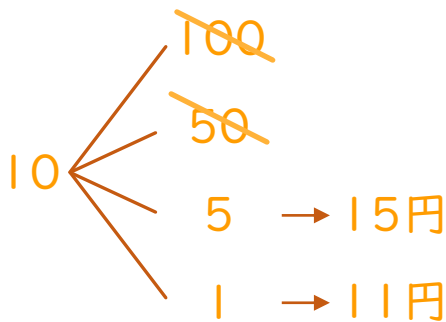
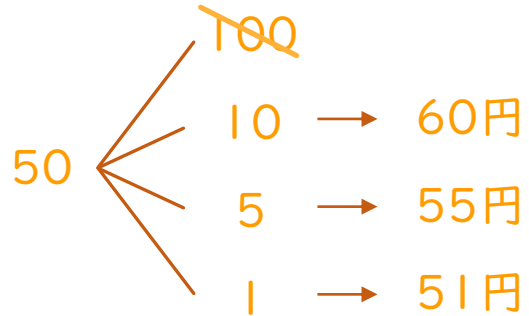
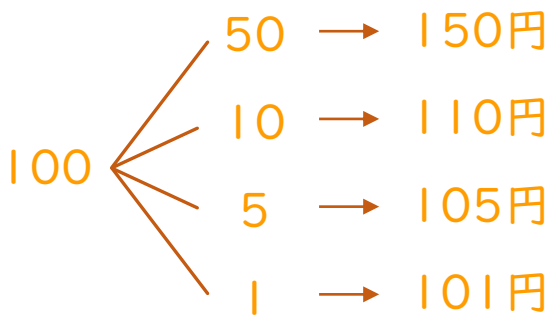
日にち：            月            日

名まえ \_\_\_\_\_

・ 下の5種類のお金が1枚ずつあります。次の問いに答えましょう。



① 5枚のうち2枚を組み合わせてできる金額を全部かきましょう。



答え

150円、110円、105円、101円、60円、55円、  
51円、15円、11円、6円

② ①の金額のうち、105円以下の金額は何通りありますか。

答え (        8通り        )

