



並べ方と
組み合わせ方 6

● 2つ選ぶ組み合わせ
(樹形図)

9

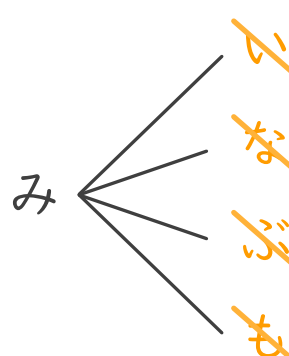
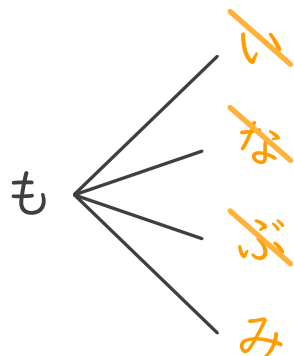
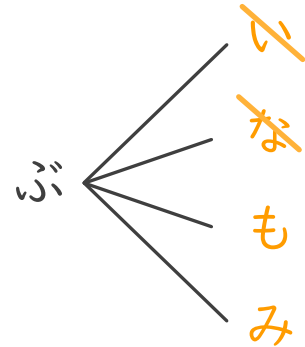
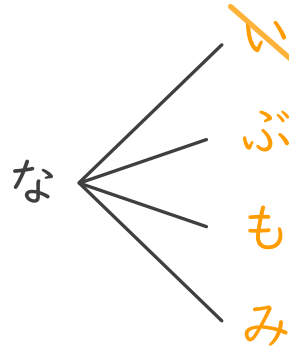
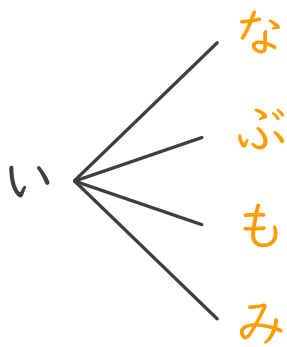
日にち： 月 日

名まえ _____

・いちご、なし、ぶどう、もも、みかんの5つのゼリーから、2つ選びます。次の問いに答えましょう。

① どんな組み合わせがありますか。図にまとめましょう。

いちご ⇒ い なし ⇒ な ぶどう ⇒ ぶ
もも ⇒ も みかん ⇒ み



② ゼリーの組み合わせは全部で何通りありますか。

答え (10通り)