





# 並べ方と 組み合わせ方 6

● 2つ選ぶ組み合わせ  
(樹形図)



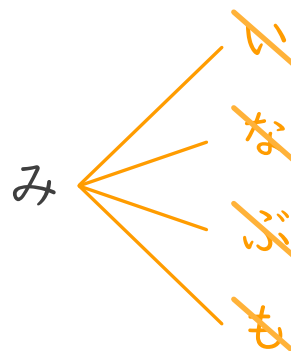
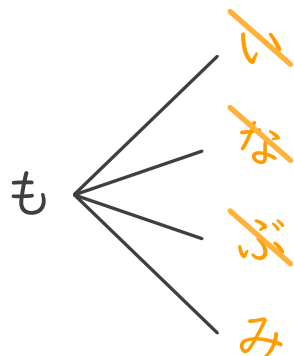
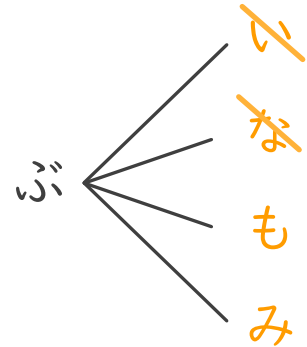
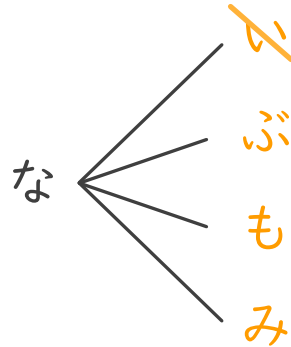
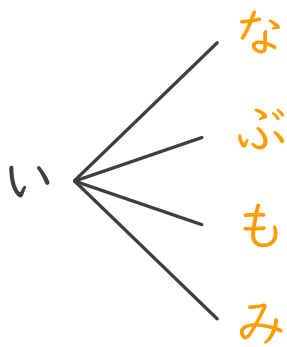
日にち：            月            日

名まえ \_\_\_\_\_

・いちご、なし、ぶどう、もも、みかんの5つのゼリーから、  
2つ選びます。次の問いに答えましょう。

① どんな組み合わせがありますか。図にまとめましょう。

<u>いちご</u> ⇒ い	<u>なし</u> ⇒ な	<u>ぶどう</u> ⇒ ぶ
<u>もも</u> ⇒ も	<u>みかん</u> ⇒ み	



↑線もなぞりましょう

② ゼリーの組み合わせは全部で何通りありますか。

答え (        10通り        )