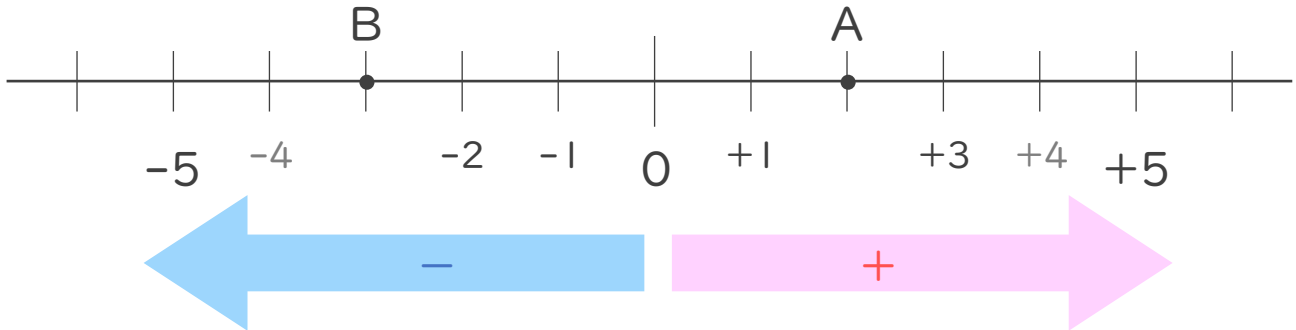




1. 次の数直線で、点A,Bに対応する数を答えなさい。



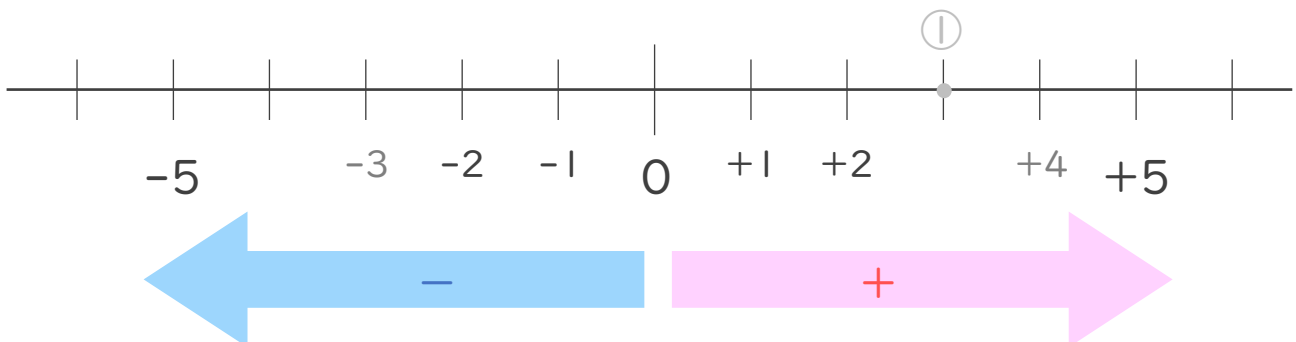
A:

B:

- 3

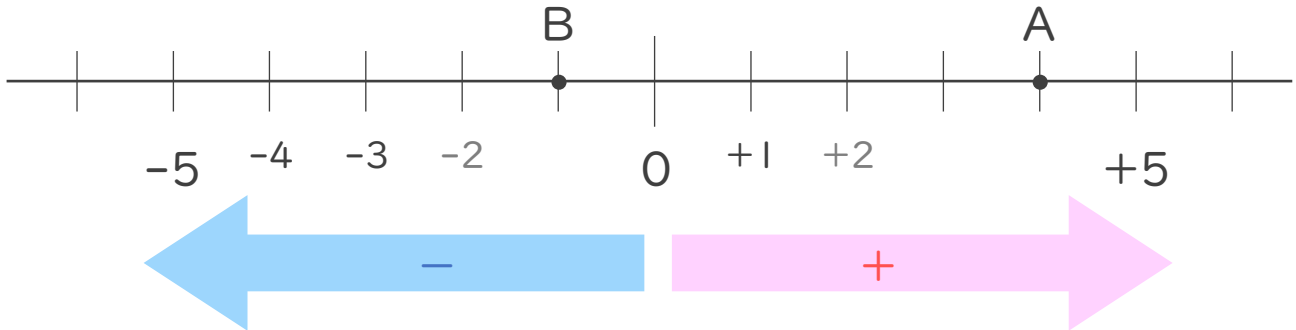
2. 次の数を数直線上に表しなさい。

① + 3 ② - 4





1. 次の数直線で、点A,Bに対応する数を答えなさい。

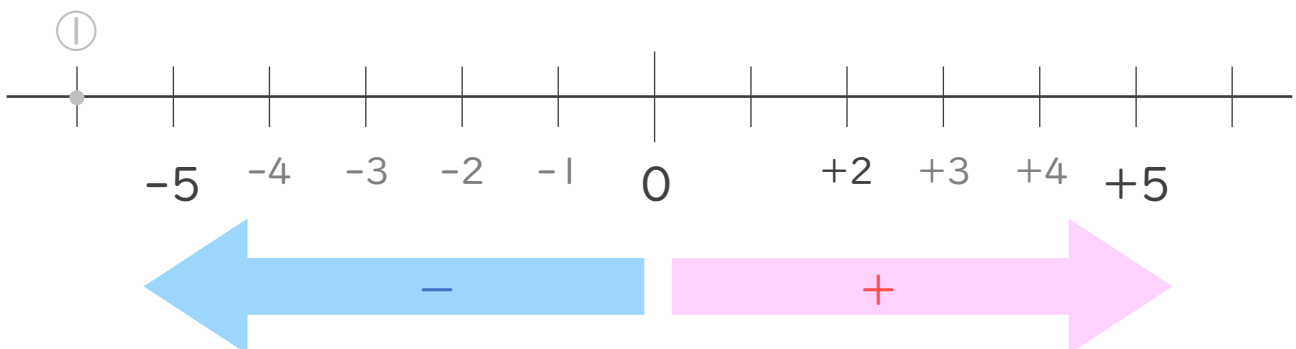


A: + 4

B: _____

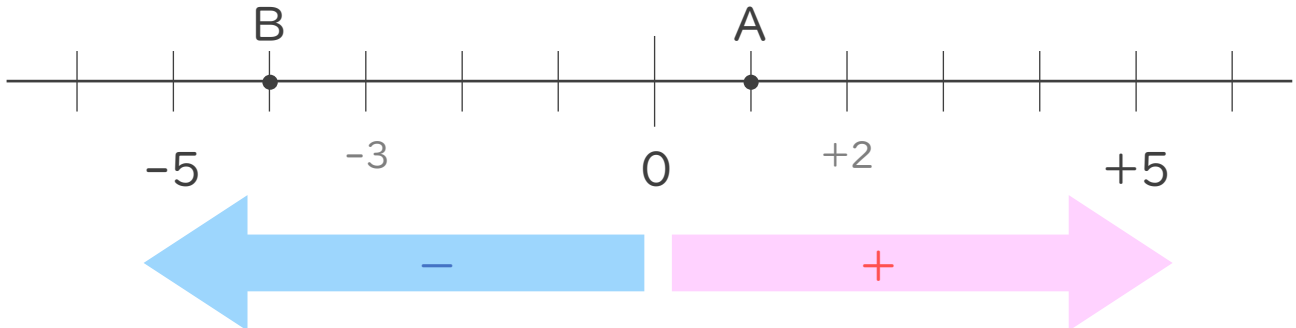
2. 次の数を数直線上に表しなさい。

① - 6 ② + 1





1. 次の数直線で、点A,Bに対応する数を答えなさい。

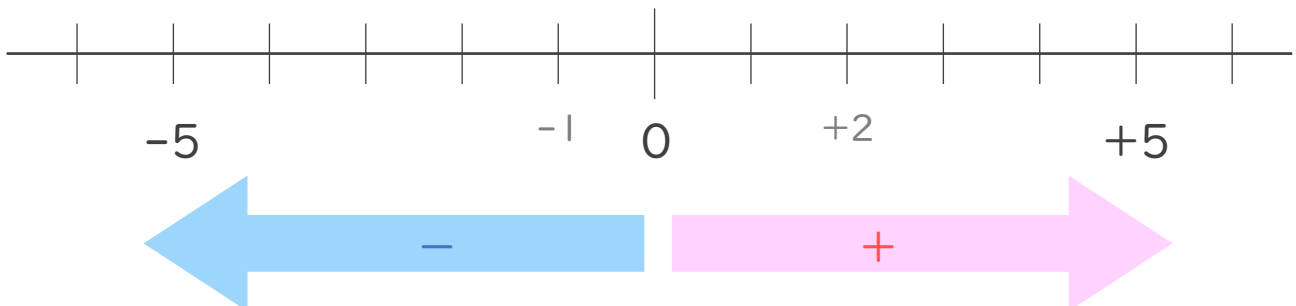


A:

B:

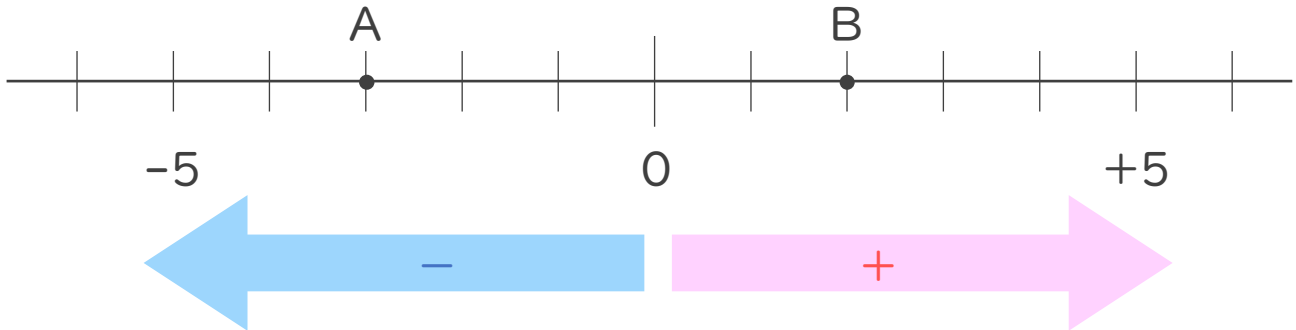
2. 次の数を数直線上に表しなさい。

① + 3 ② - 2





1. 次の数直線で、点A,Bに対応する数を答えなさい。

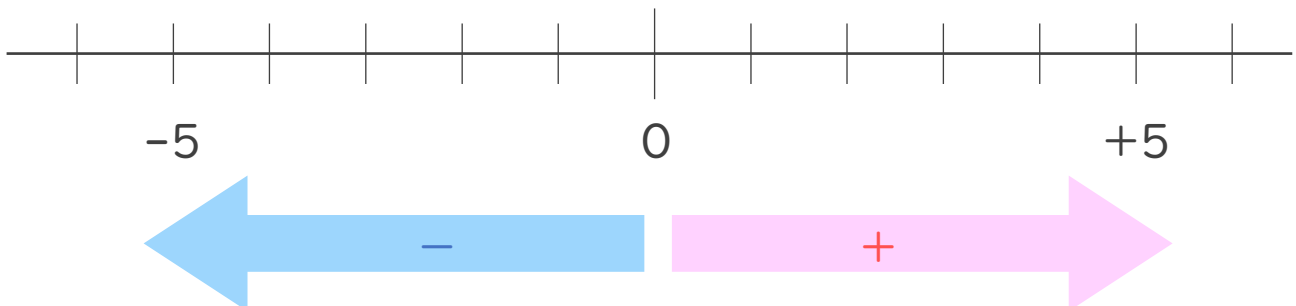


A : _____

B : _____

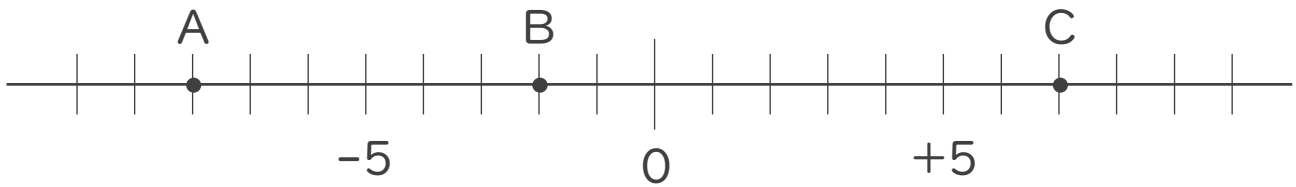
2. 次の数を数直線上に表しなさい。

① $+6$ ② -1





1. 次の数直線で、点A,B,Cに対応する数を答えなさい。



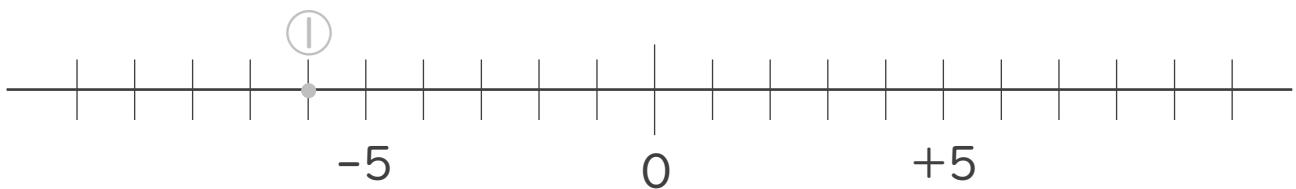
A: -8

B:

C:

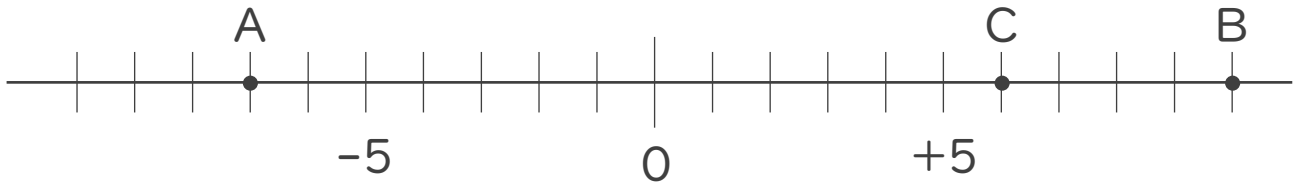
2. 次の数を数直線上に表しなさい。

① -6 ② +4 ③ -1





1. 次の数直線で、点A,B,Cに対応する数を答えなさい。



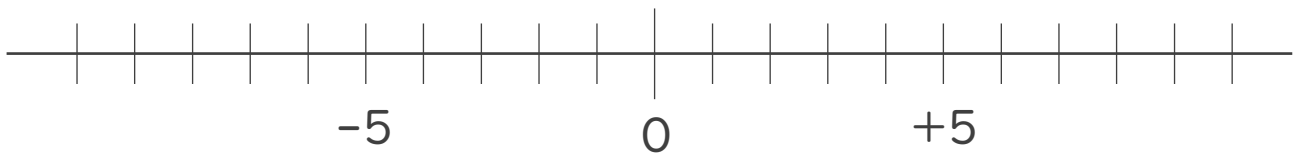
A :

B :

C :

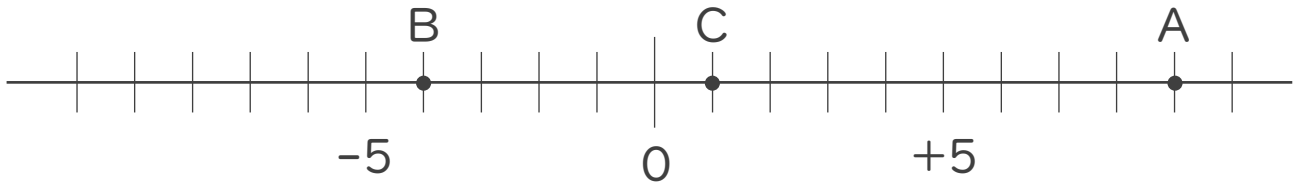
2. 次の数を数直線上に表しなさい。

① -8 ② $+9$ ③ -2





1. 次の数直線で、点A,B,Cに対応する数を答えなさい。



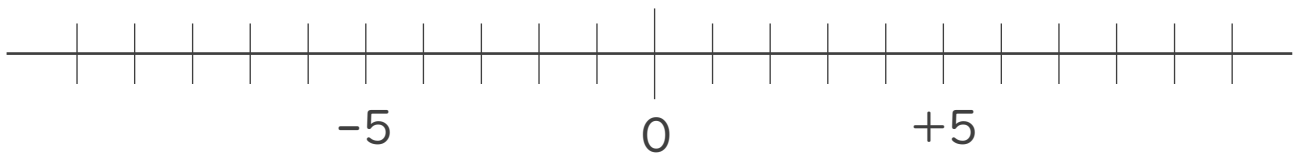
A:

B:

C:

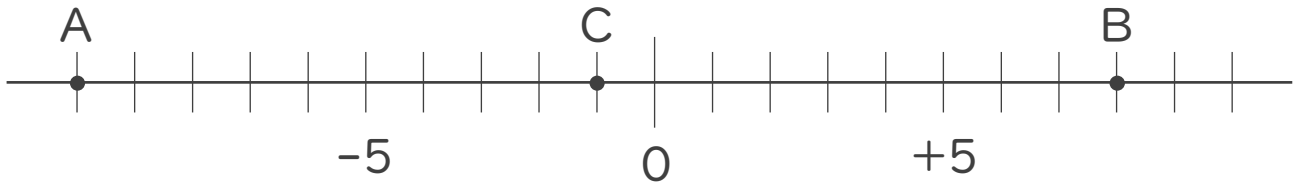
2. 次の数を数直線上に表しなさい。

① -10 ② $+7$ ③ $+3$





1. 次の数直線で、点A,B,Cに対応する数を答えなさい。



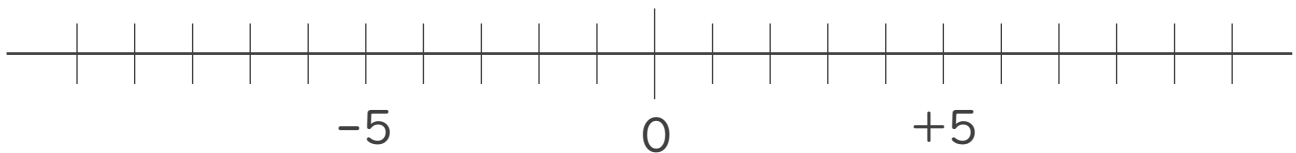
A :

B :

C :

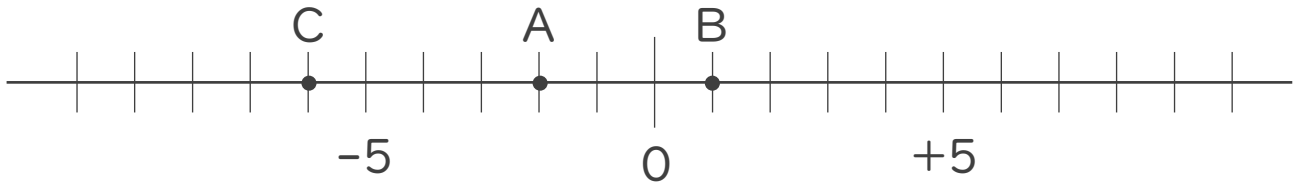
2. 次の数を数直線上に表しなさい。

① $+4$ ② -9 ③ -6





1. 次の数直線で、点A,B,Cに対応する数を答えなさい。



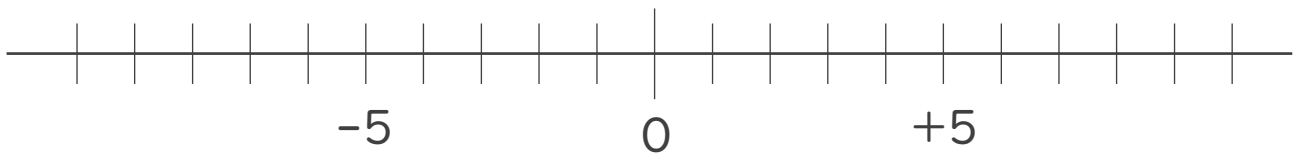
A :

B :

C :

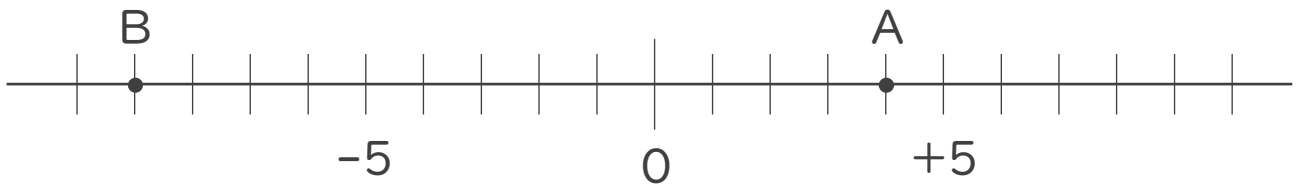
2. 次の数を数直線上に表しなさい。

① + 6 ② - 1 ③ + 3





1. 次の数直線で、点A,Bに対応する数を答えなさい。

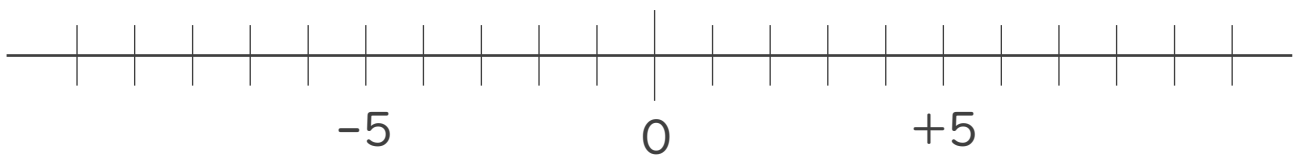


A :

B :

2. 次の数を数直線上に表しなさい。

① -7 ② $+8$



3. 次の数の中から整数をすべて選びなさい。

また自然数をすべて選びなさい。

-6.3 , 5 , $\frac{5}{6}$, -9 , 0.5 , -2 , $+17$, $-\frac{1}{3}$

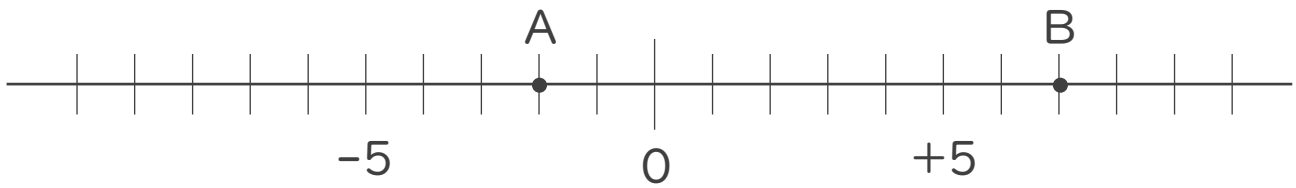
・ 整数 :

・ 自然数 :





1. 次の数直線で、点A,Bに対応する数を答えなさい。

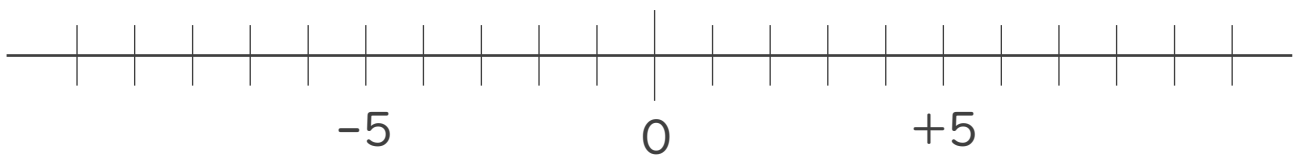


A :

B :

2. 次の数を数直線上に表しなさい。

① + 3 ② - 4



3. 次の数の中から整数をすべて選びなさい。

また自然数をすべて選びなさい。

+ 2 , - 2.5 , - 16 , + $\frac{2}{5}$, - 7 , 11 , + 0.3 , - $\frac{1}{4}$

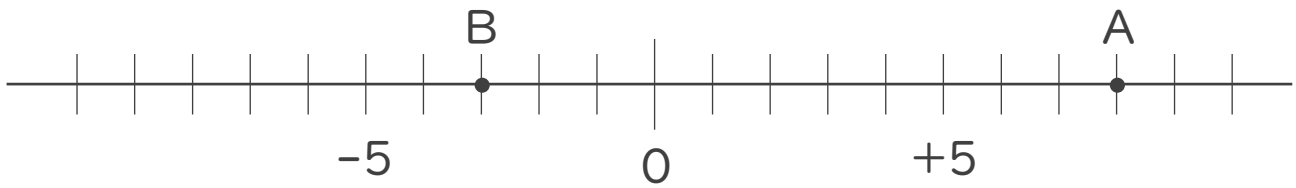
・ 整数 :

・ 自然数 :





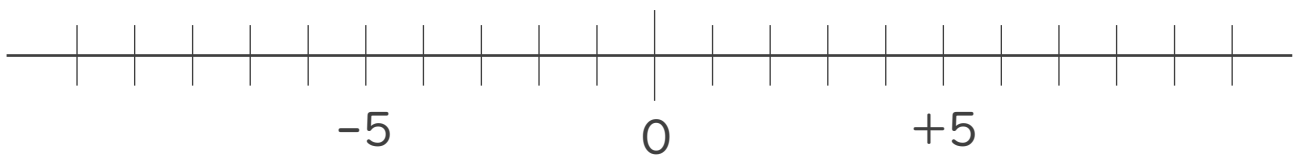
1. 次の数直線で、点A,Bに対応する数を答えなさい。



A :

B :

2. 次の数を数直線上に表しなさい。

① -9 ② $+6$ 

3. 次の数の中から整数をすべて選びなさい。

また自然数をすべて選びなさい。

-5 , $+1.8$, $\frac{1}{3}$, $+10$, 0 , 0.2 , -13 , 4

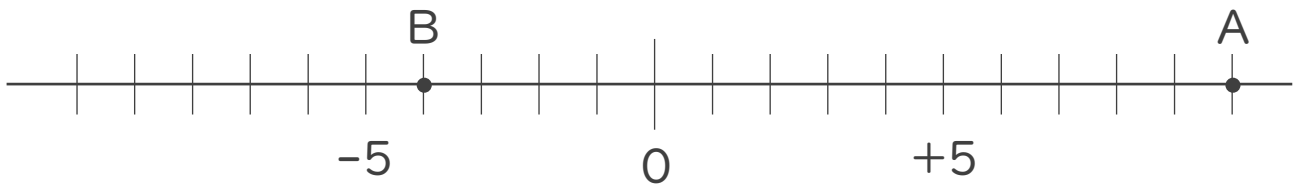
・ 整数 :

・ 自然数 :





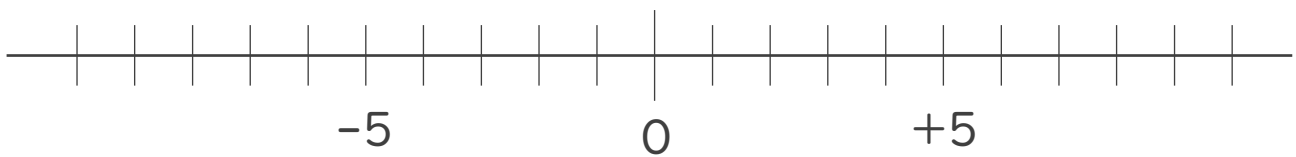
1. 次の数直線で、点A,Bに対応する数を答えなさい。



A :

B :

2. 次の数を数直線上に表しなさい。

① $+7$ ② -6 

3. 次の数の中から整数をすべて選びなさい。

また自然数をすべて選びなさい。

$+3.1$, -1 , 14 , $-\frac{4}{5}$, -0.5 , -8 , $+3$, 0

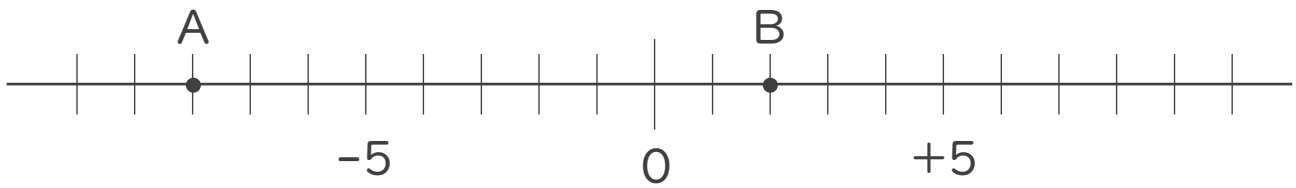
・ 整数 :

・ 自然数 :





1. 次の数直線で、点A,Bに対応する数を答えなさい。

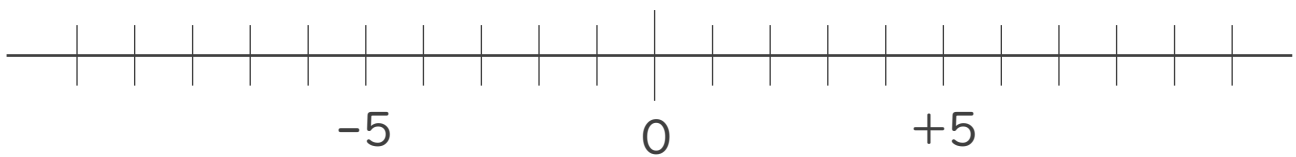


A :

B :

2. 次の数を数直線上に表しなさい。

① + 8 ② - 3



3. 次の数の中から整数をすべて選びなさい。

また自然数をすべて選びなさい。

-3 , $+13$, 1.9 , $+\frac{3}{4}$, $-\frac{1}{5}$, 2 , -0.2 , -18

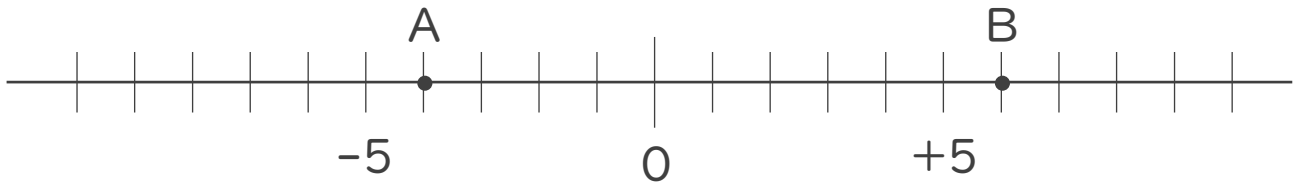
・ 整数 :

・ 自然数 :





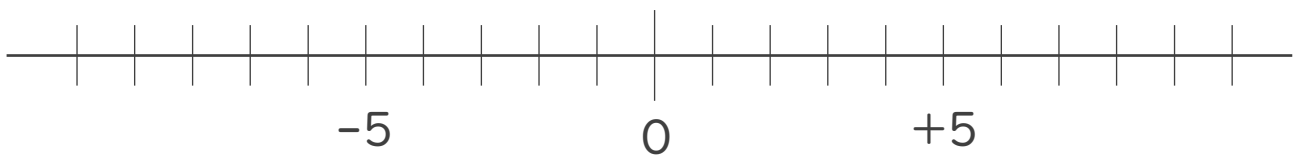
1. 次の数直線で、点A,Bに対応する数を答えなさい。(各20点)



A :

B :

2. 次の数を数直線上に表しなさい。(各20点)

① $+7$ ② -3 

3. 次の数の中から整数をすべて選びなさい。

また自然数をすべて選びなさい。(各10点※完全正答)

$-\frac{1}{2}$, $+9$, 2.3 , 0 , -5 , -4.7 , 12 , $\frac{5}{6}$

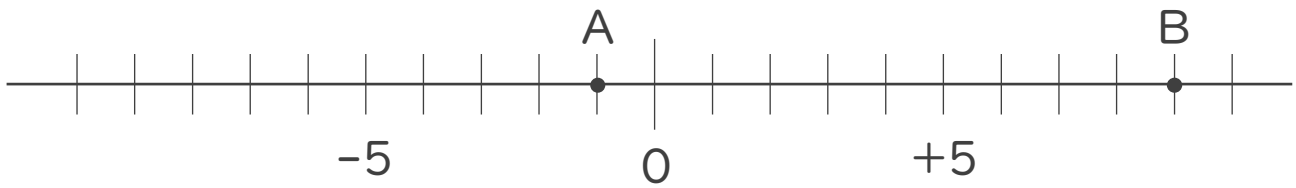
・ 整数 :

・ 自然数 :





1. 次の数直線で、点A,Bに対応する数を答えなさい。(各20点)

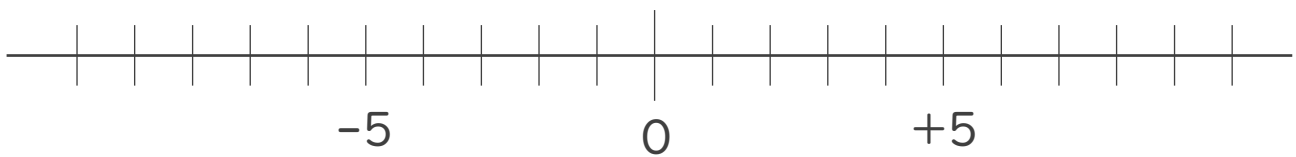


A :

B :

2. 次の数を数直線上に表しなさい。(各20点)

① + 3 ② - 7



3. 次の数の中から整数をすべて選びなさい。

また自然数をすべて選びなさい。(各10点※完全正答)

+15, +0.9, $\frac{3}{5}$, -11, +3.5, $-\frac{2}{3}$, -4, 9

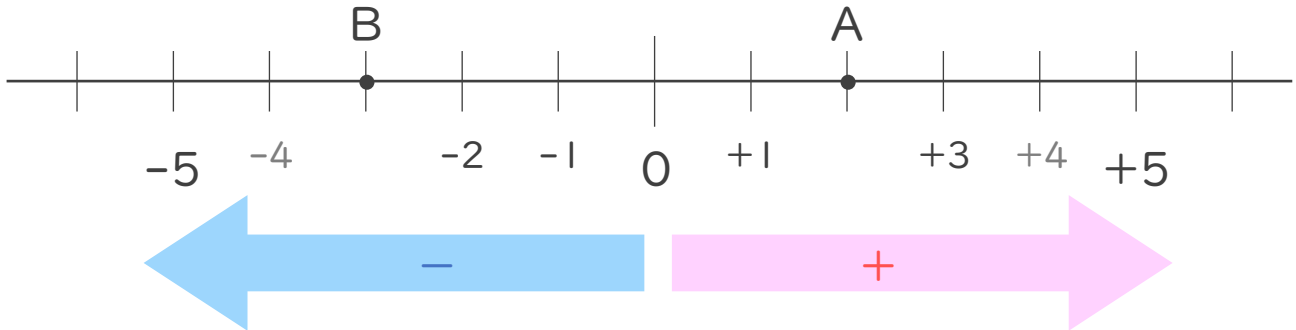
・ 整数 :

・ 自然数 :





1. 次の数直線で、点A,Bに対応する数を答えなさい。

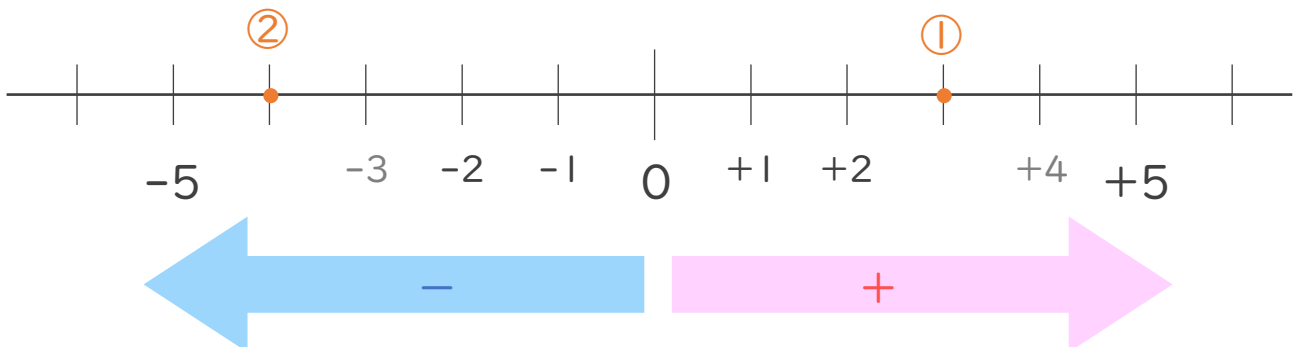


A: + 2

B: - 3

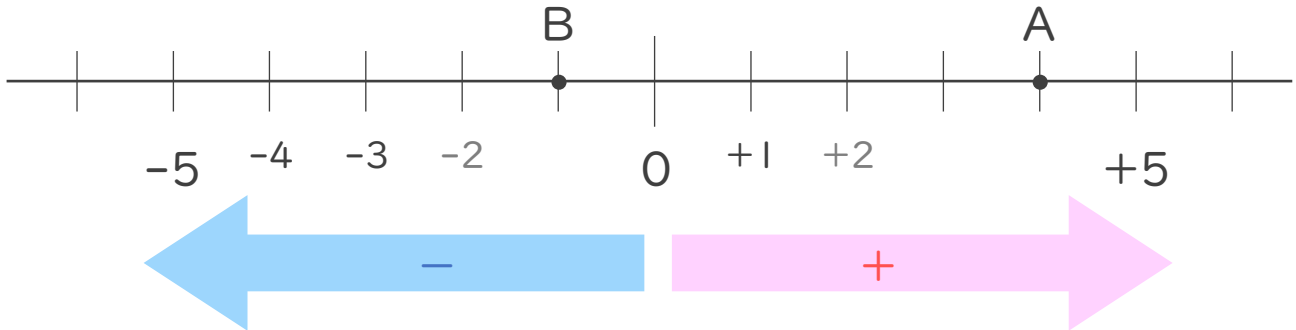
2. 次の数を数直線上に表しなさい。

① + 3 ② - 4





1. 次の数直線で、点A,Bに対応する数を答えなさい。

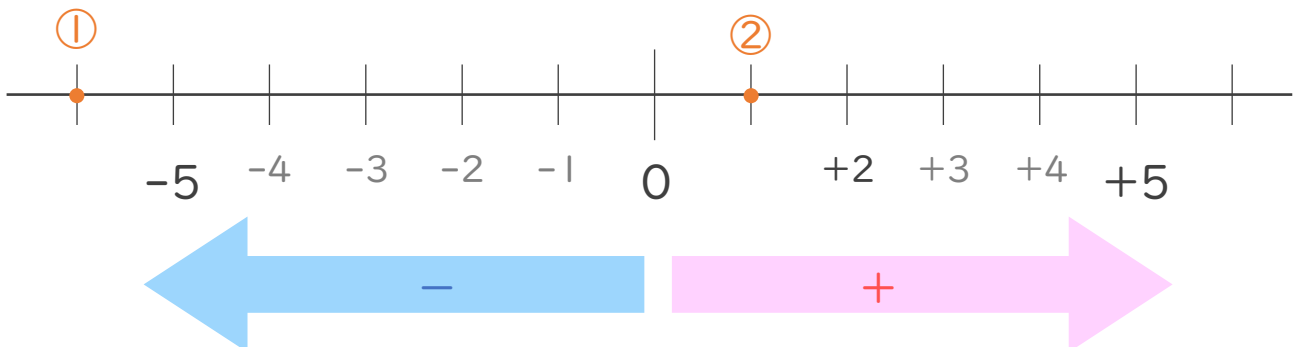


A: + 4

B: - 1

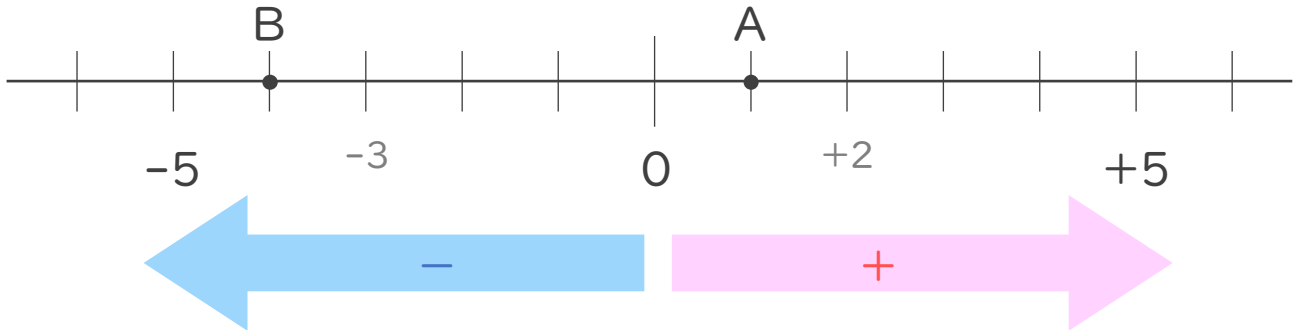
2. 次の数を数直線上に表しなさい。

① - 6 ② + 1





1. 次の数直線で、点A,Bに対応する数を答えなさい。

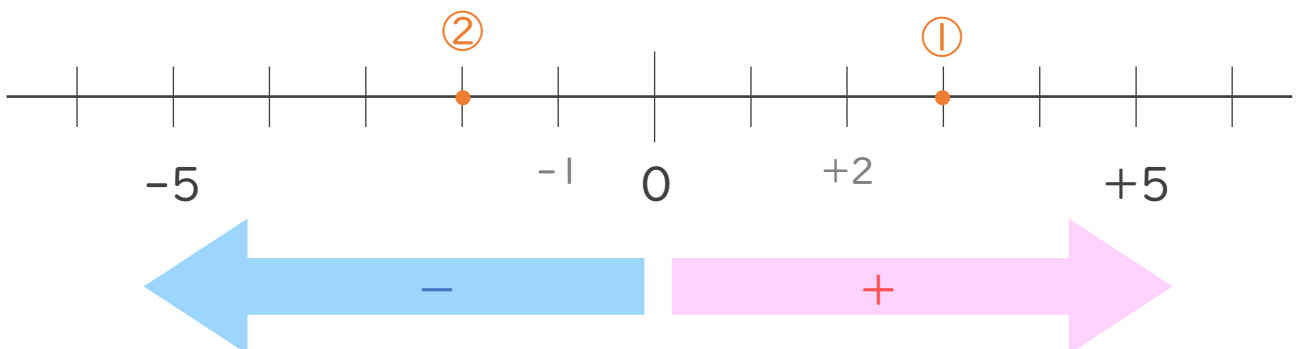


A: + 1

B: - 4

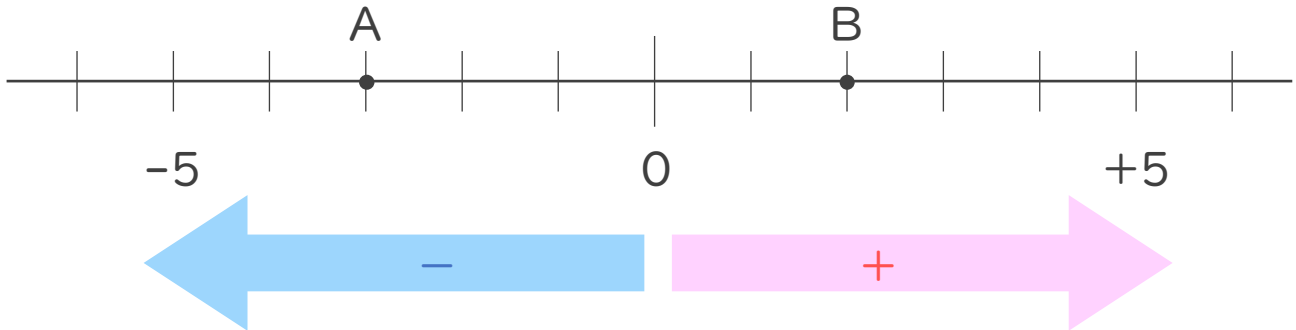
2. 次の数を数直線上に表しなさい。

① + 3 ② - 2





1. 次の数直線で、点A,Bに対応する数を答えなさい。

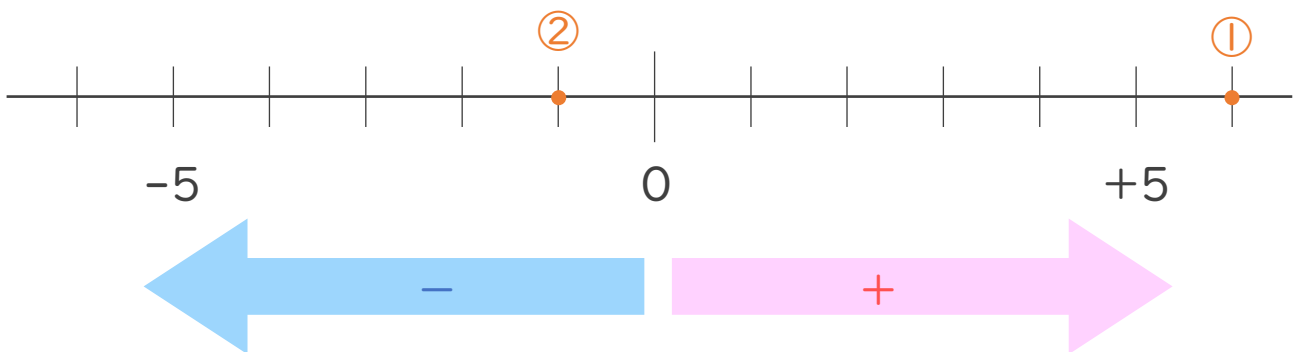


A: - 3

B: + 2

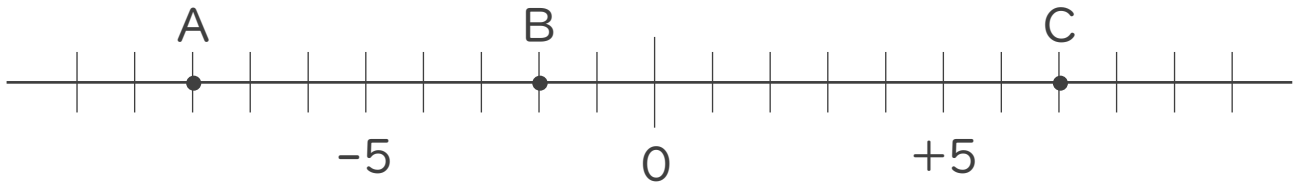
2. 次の数を数直線上に表しなさい。

① + 6 ② - 1





1. 次の数直線で、点A,B,Cに対応する数を答えなさい。



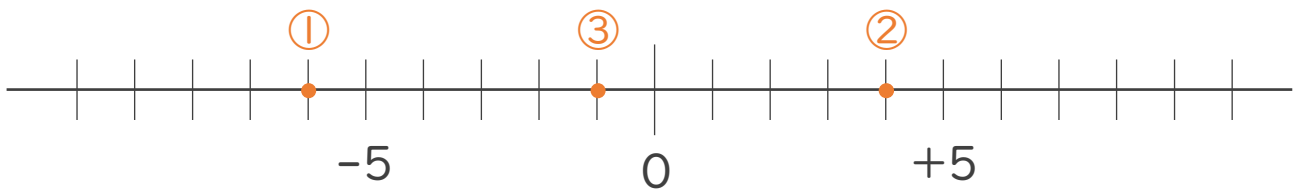
A: -8

B: -2

C: $+7$

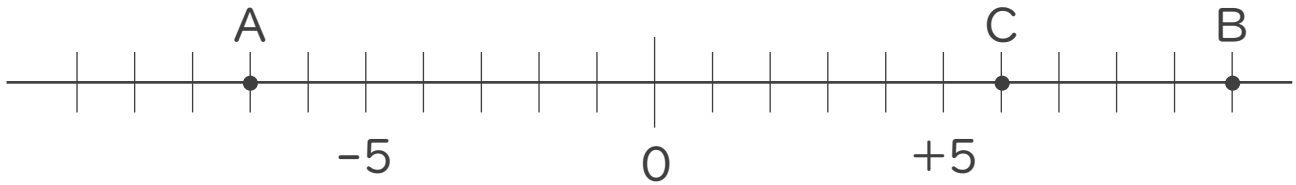
2. 次の数を数直線上に表しなさい。

① -6 ② $+4$ ③ -1





1. 次の数直線で、点A,B,Cに対応する数を答えなさい。



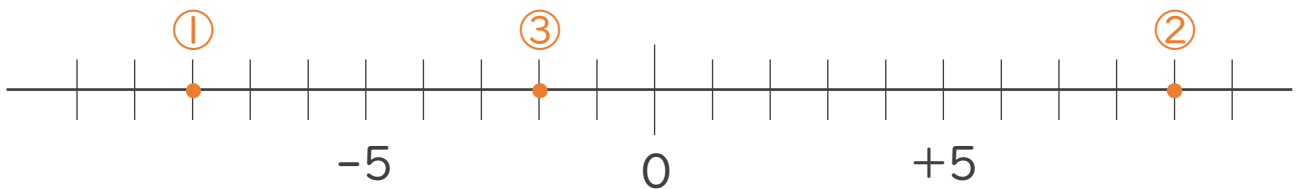
A: -7

B: $+10$

C: $+6$

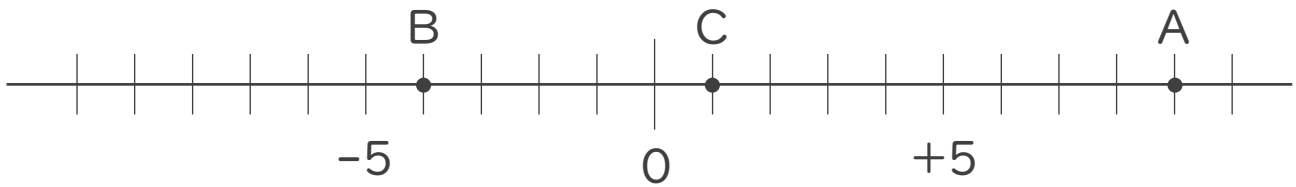
2. 次の数を数直線上に表しなさい。

① -8 ② $+9$ ③ -2





1. 次の数直線で、点A,B,Cに対応する数を答えなさい。



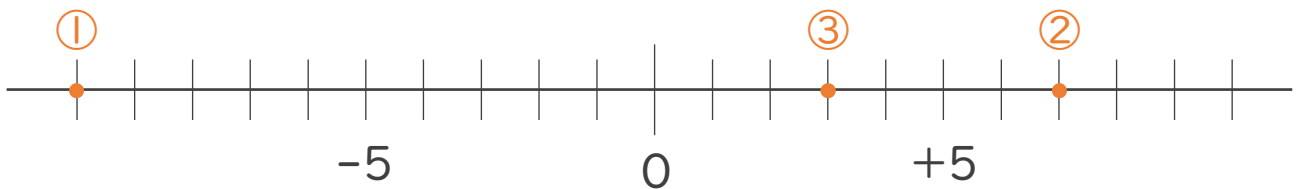
A: + 9

B: - 4

C: + 1

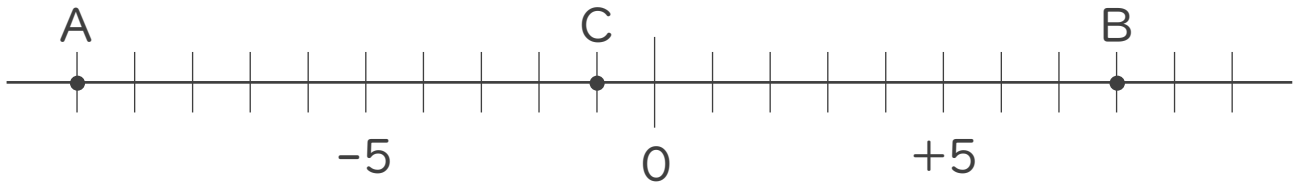
2. 次の数を数直線上に表しなさい。

① - 10 ② + 7 ③ + 3





1. 次の数直線で、点A,B,Cに対応する数を答えなさい。



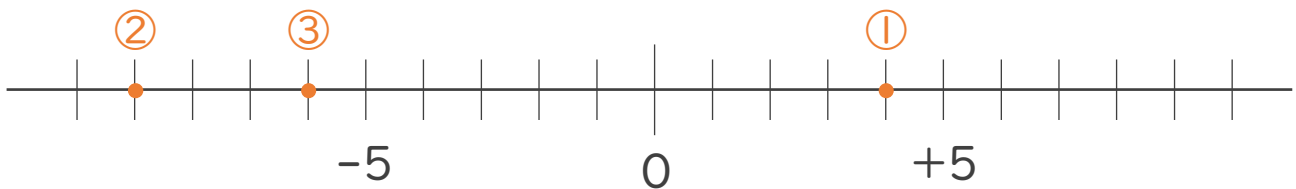
A: -10

B: $+8$

C: -1

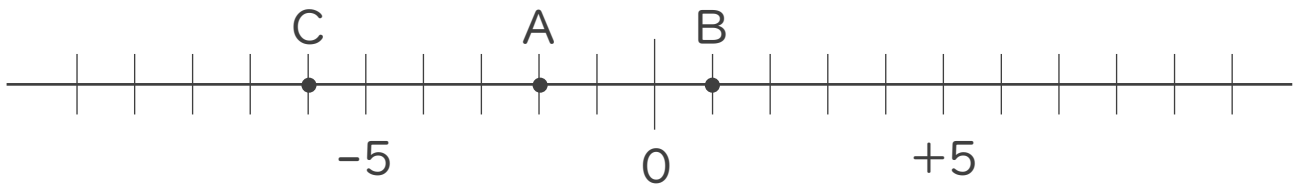
2. 次の数を数直線上に表しなさい。

① $+4$ ② -9 ③ -6





1. 次の数直線で、点A,B,Cに対応する数を答えなさい。



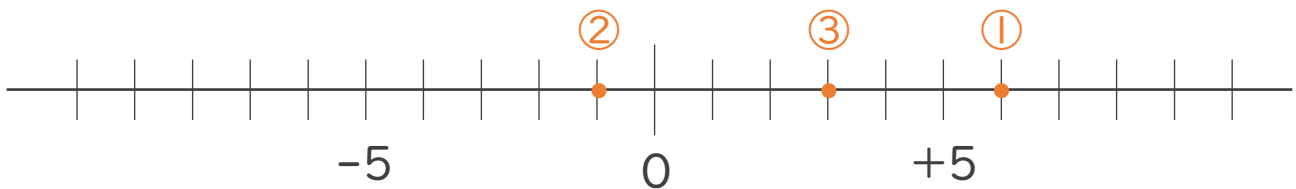
A: -2

B: $+1$

C: -6

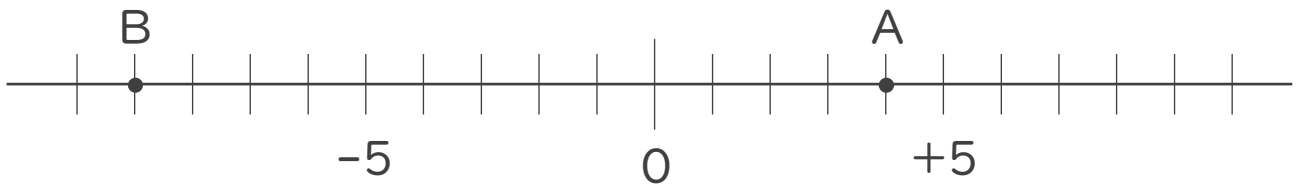
2. 次の数を数直線上に表しなさい。

① $+6$ ② -1 ③ $+3$





1. 次の数直線で、点A,Bに対応する数を答えなさい。

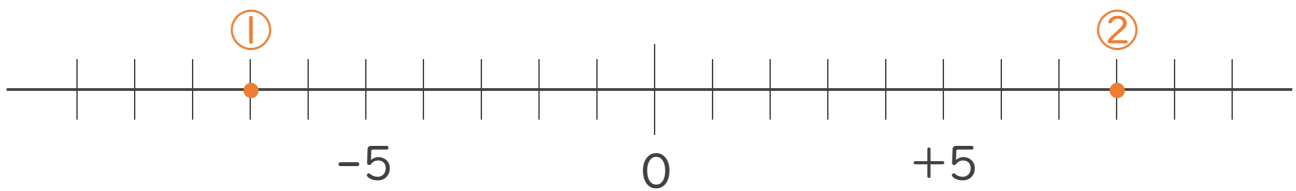


A: +4

B: -9

2. 次の数を数直線上に表しなさい。

① -7 ② +8



3. 次の数の中から整数をすべて選びなさい。

また自然数をすべて選びなさい。

$-6.3, 5, \frac{5}{6}, -9, 0.5, -2, +17, -\frac{1}{3}$

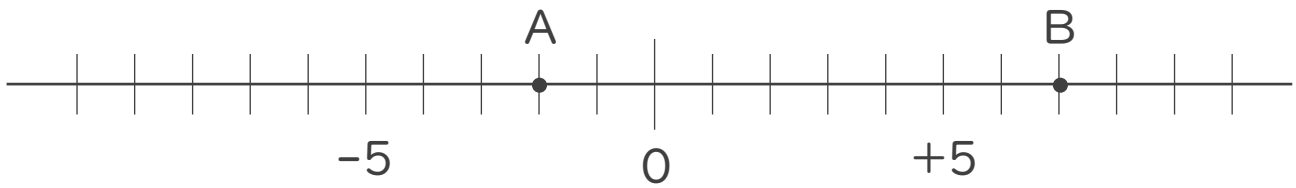
・ 整数: 5, -9, -2, +17

・ 自然数: 5, +17





1. 次の数直線で、点A,Bに対応する数を答えなさい。

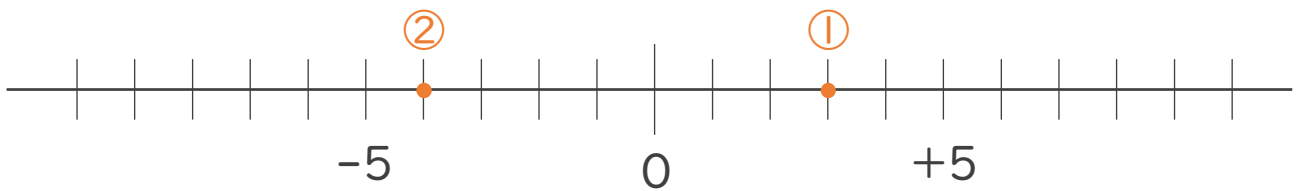


A: -2

B: $+7$

2. 次の数を数直線上に表しなさい。

① $+3$ ② -4



3. 次の数の中から整数をすべて選びなさい。

また自然数をすべて選びなさい。

$+2, -2.5, -16, +\frac{2}{5}, -7, 11, +0.3, -\frac{1}{4}$

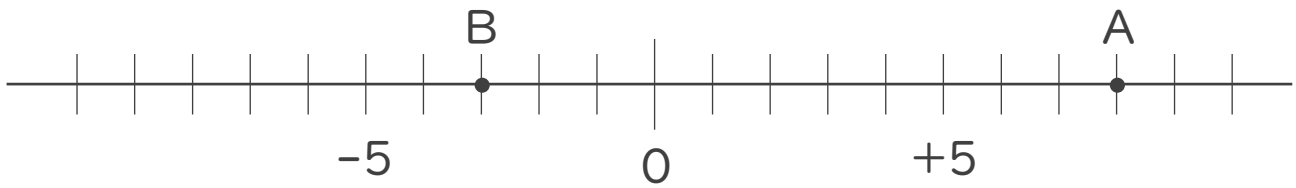
・ 整数: $+2, -16, -7, 11$

・ 自然数: $+2, 11$





1. 次の数直線で、点A,Bに対応する数を答えなさい。

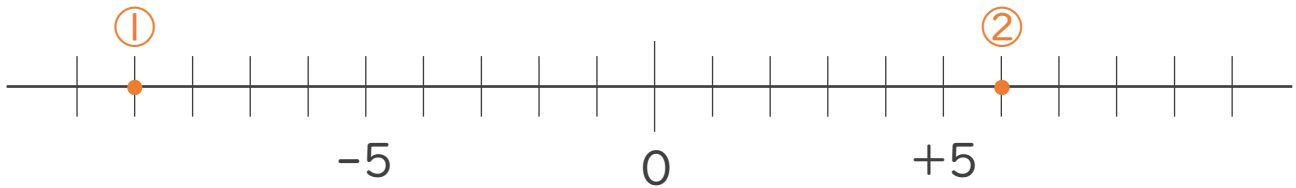


A: +8

B: -3

2. 次の数を数直線上に表しなさい。

① -9 ② +6



3. 次の数の中から整数をすべて選びなさい。

また自然数をすべて選びなさい。

-5, +1.8, $\frac{1}{3}$, +10, 0, 0.2, -13, 4

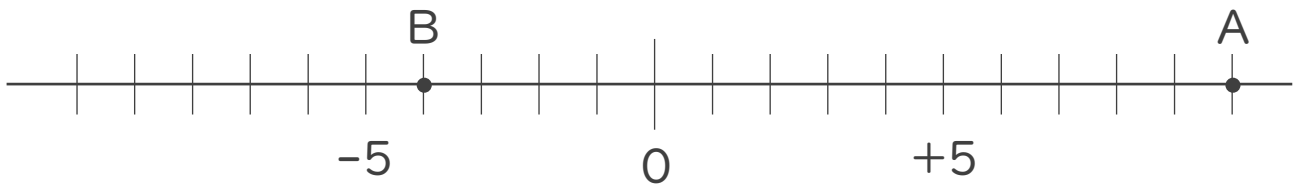
・ 整数: -5, +10, 0, -13, 4

・ 自然数: +10, 4





1. 次の数直線で、点A,Bに対応する数を答えなさい。

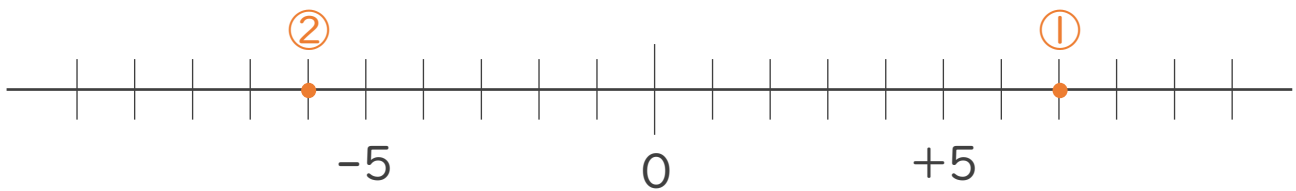


A: +10

B: -4

2. 次の数を数直線上に表しなさい。

① +7 ② -6



3. 次の数の中から整数をすべて選びなさい。

また自然数をすべて選びなさい。

+3.1, -1, 14, $-\frac{4}{5}$, -0.5, -8, +3, 0

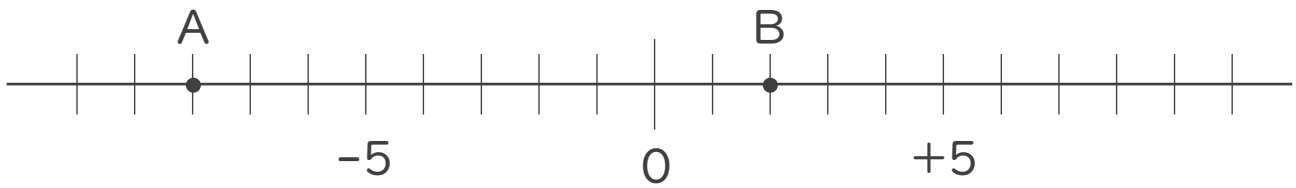
・ 整数: -1, 14, -8, +3, 0

・ 自然数: 14, +3





1. 次の数直線で、点A,Bに対応する数を答えなさい。

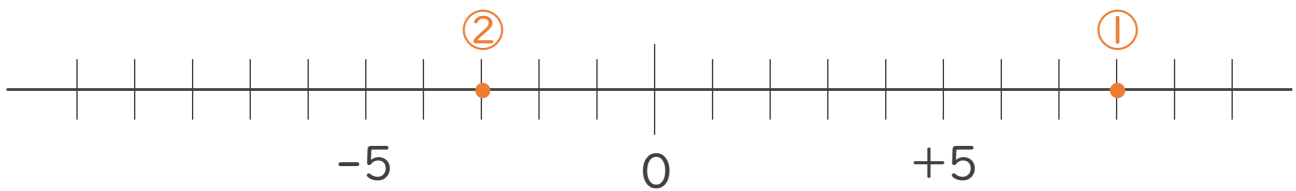


A: -8

B: $+2$

2. 次の数を数直線上に表しなさい。

① $+8$ ② -3



3. 次の数の中から整数をすべて選びなさい。

また自然数をすべて選びなさい。

-3 , $+13$, 1.9 , $+\frac{3}{4}$, $-\frac{1}{5}$, 2 , -0.2 , -18

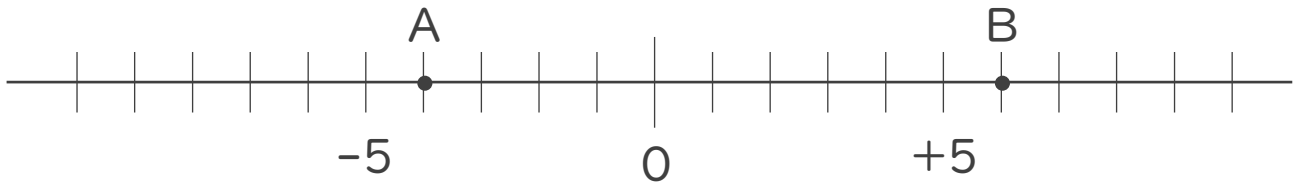
・ 整数: -3 , $+13$, 2 , -18

・ 自然数: $+13$, 2





1. 次の数直線で、点A,Bに対応する数を答えなさい。(各20点)

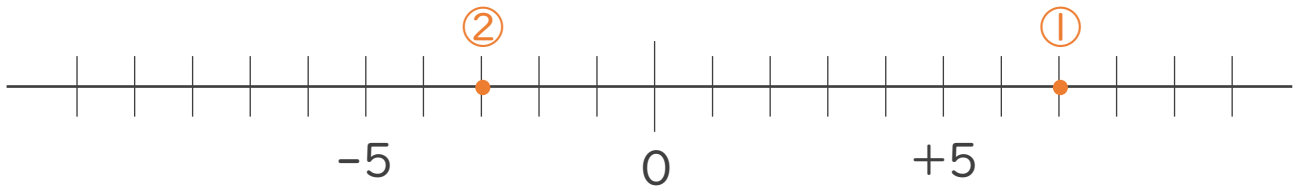


A: -4

B: +6

2. 次の数を数直線上に表しなさい。(各20点)

① +7 ② -3



3. 次の数の中から整数をすべて選びなさい。

また自然数をすべて選びなさい。(各10点※完全正答)

$-\frac{1}{2}$, +9, 2.3, 0, -5, -4.7, 12, $\frac{5}{6}$

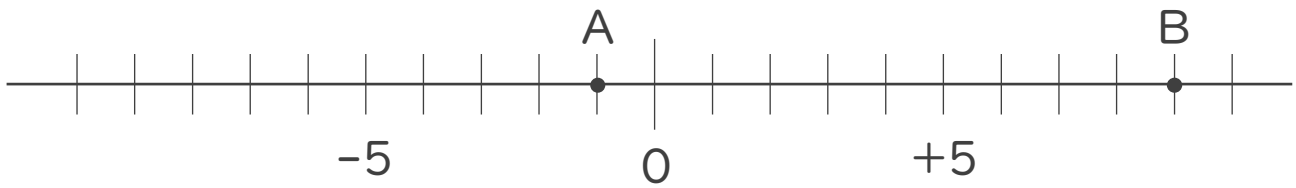
・ 整数: +9, 0, -5, 12

・ 自然数: +9, 12



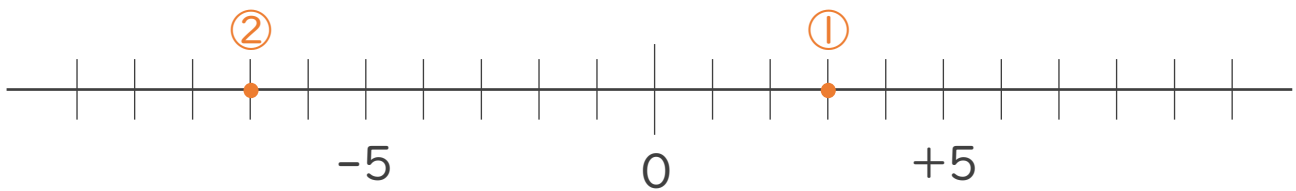


1. 次の数直線で、点A,Bに対応する数を答えなさい。(各20点)

A: -1B: +9

2. 次の数を数直線上に表しなさい。(各20点)

① +3 ② -7



3. 次の数の中から整数をすべて選びなさい。

また自然数をすべて選びなさい。(各10点※完全正答)

+15, +0.9, $\frac{3}{5}$, -11, +3.5, $-\frac{2}{3}$, -4, 9

・ 整数: +15, -11, -4, 9・ 自然数: +15, 9