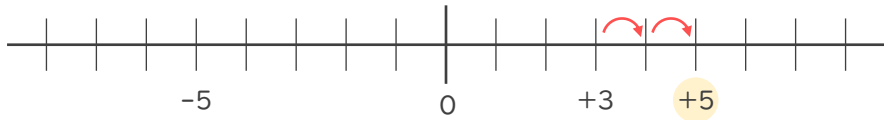




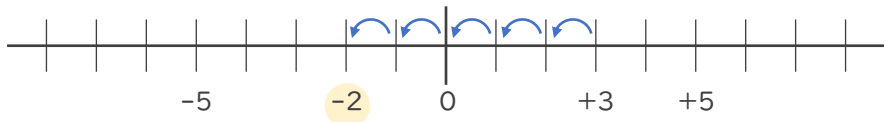
- 数直線を使って次の数を求めなさい。

① 3より2大きい数



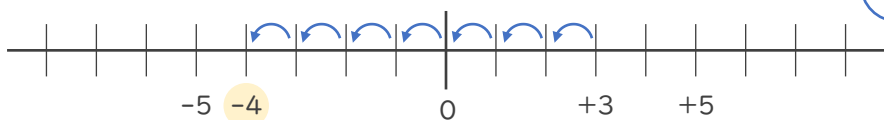
+ 5

② 3より5小さい数



- 2

③ 3より-7大きい数



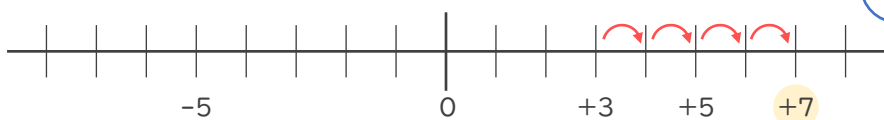
- 7 大きい数



7 小さい数

- 4

④ 3より-4小さい数



- 4 小さい数



4 大きい数

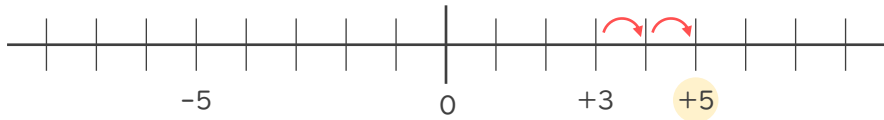
+ 7





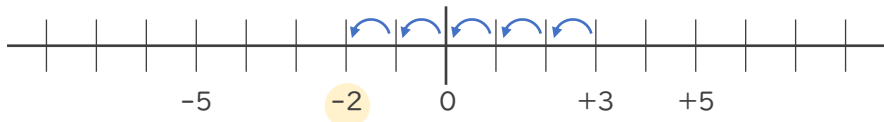
- ・ 数直線を使って次の数を求めなさい。

① 3より2大きい数



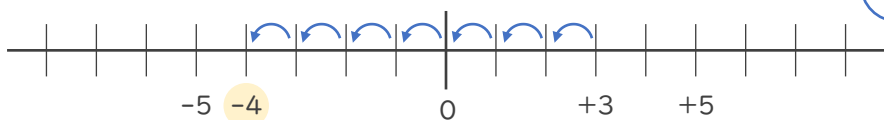
+ 5 (5でも可)

② 3より5小さい数



- 2

③ 3より-7大きい数



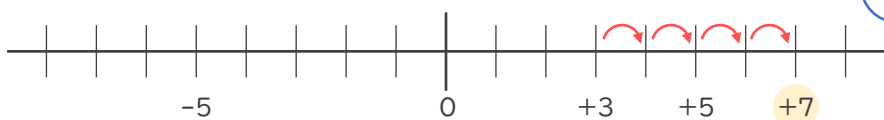
- 7 大きい数

↓

7 小さい数

- 4

④ 3より-4小さい数



- 4 小さい数

↓

4 大きい数

+ 7 (7でも可)

