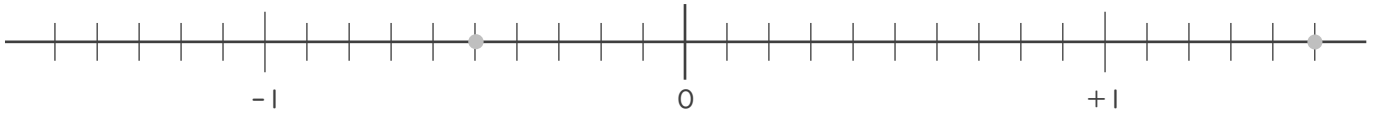


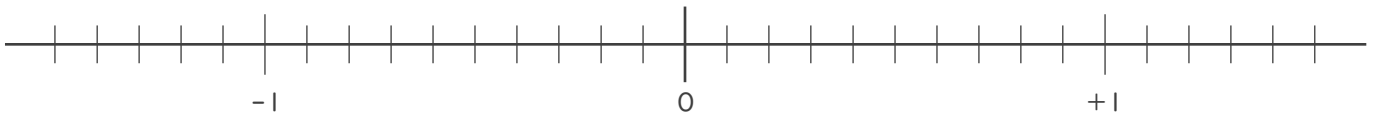


・ 次の  に不等号を入れて2数の大小を表しなさい。

①  $+1.5$    $-0.5$



②  $-0.8$    $0.3$



③  $+\frac{2}{7}$    $-\frac{5}{7}$



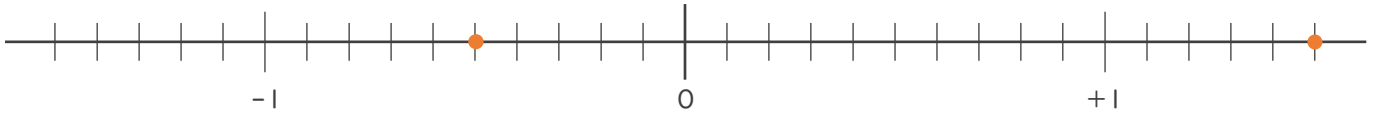
④  $-\frac{3}{4}$    $0$



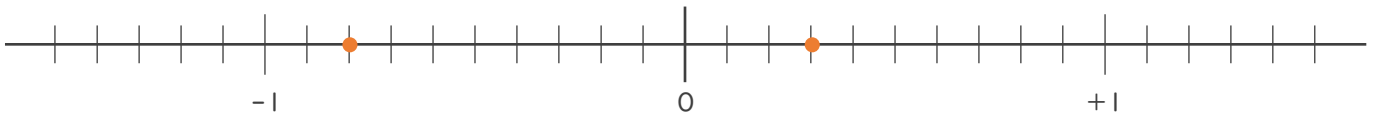


・ 次の  に不等号を入れて2数の大小を表しなさい。

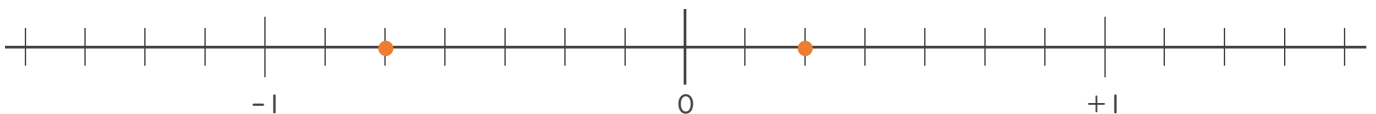
①  $+1.5$    $-0.5$



②  $-0.8$    $0.3$



③  $+\frac{2}{7}$    $-\frac{5}{7}$



④  $-\frac{3}{4}$    $0$

