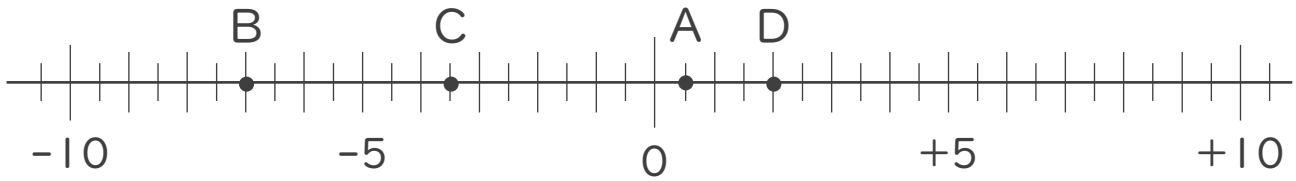




1. 次の数直線で、点A,B,C,Dに対応する数を答えなさい。



A :

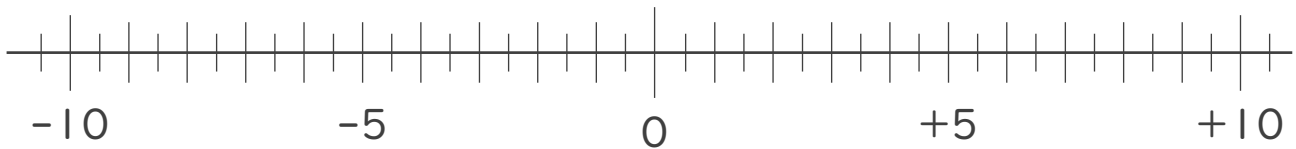
B :

C :

D :

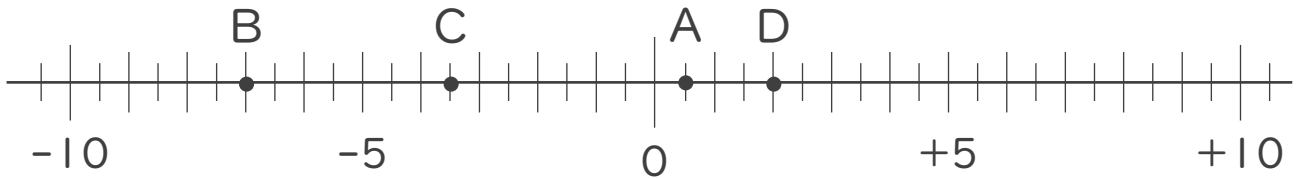
2. 次の数を数直線上に表しなさい。

- ① -3 ② $+1.5$ ③ $-\frac{9}{2}$ ④ $+6.5$





1. 次の数直線で、点A,B,C,Dに対応する数を答えなさい。



A: +0.5

B: -7

C: -3.5

D: +2

2. 次の数を数直線上に表しなさい。

① -3 ② +1.5 ③ $-\frac{9}{2}$ ④ +6.5

