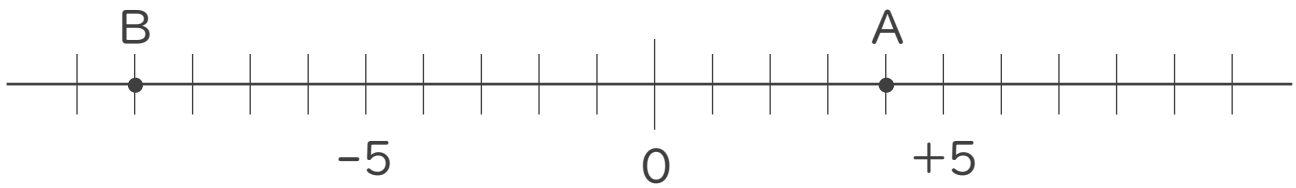




1. 次の数直線で、点A,Bに対応する数を答えなさい。

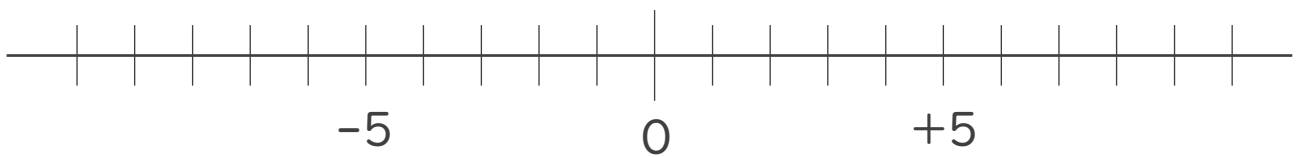


A :

B :

2. 次の数を数直線上に表しなさい。

①  $-7$       ②  $+8$



3. 次の数の中から整数をすべて選びなさい。

また自然数をすべて選びなさい。

$-6.3$  ,  $5$  ,  $\frac{5}{6}$  ,  $-9$  ,  $0.5$  ,  $-2$  ,  $+17$  ,  $-\frac{1}{3}$

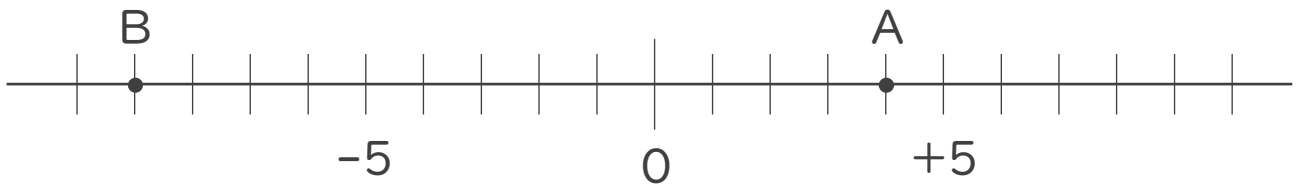
・ 整数 :

・ 自然数 :





1. 次の数直線で、点A,Bに対応する数を答えなさい。

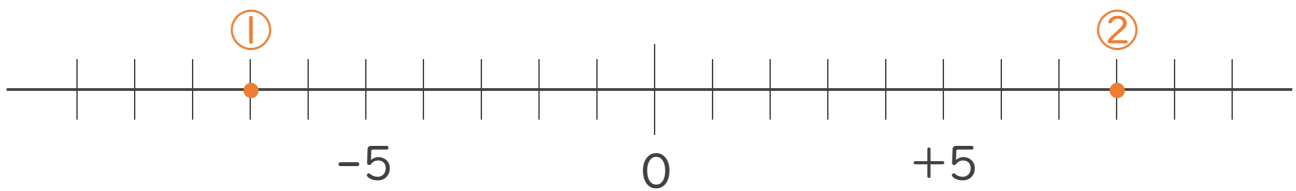


A: +4

B: -9

2. 次の数を数直線上に表しなさい。

① -7      ② +8



3. 次の数の中から整数をすべて選びなさい。

また自然数をすべて選びなさい。

$-6.3, 5, \frac{5}{6}, -9, 0.5, -2, +17, -\frac{1}{3}$

・ 整数: 5, -9, -2, +17

・ 自然数: 5, +17

