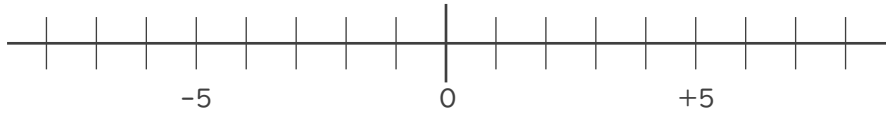


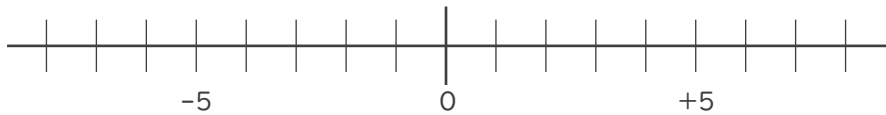


1. 数直線を使って次の数を求めなさい。

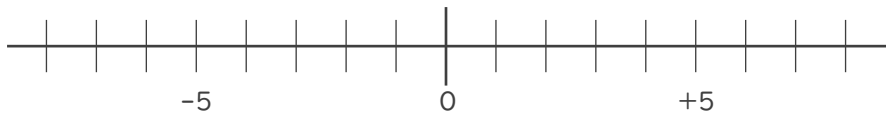
① 1 より -6 小さい数



② -4 より 3 大きい数



③ 3 より -5 大きい数



2. 次の2つの数のうち、大きい数はどちらですか。

また、絶対値が大きい数はどちらですか。

① -6 , -5

大きい数：

絶対値が

大きい数：

② 4 , -1

大きい数：

絶対値が

大きい数：





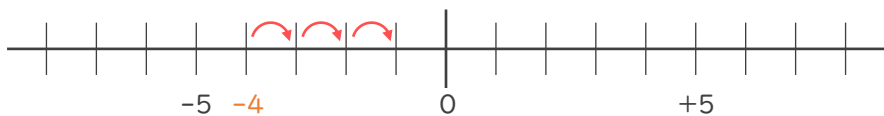
1. 数直線を使って次の数を求めなさい。

① 1より-6小さい数 -6小さい数→6大きい数



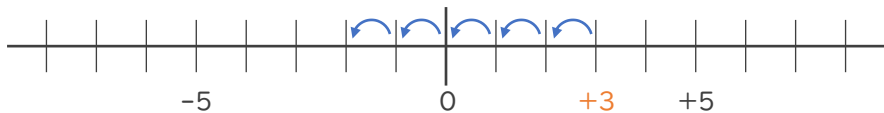
+ 7

② -4より3大きい数



- 1

③ 3より-5大きい数 -5大きい数→5小さい数



- 2

2. 次の2つの数のうち、大きい数はどちらですか。

また、絶対値が大きい数はどちらですか。

① -6, -5

大きい数： - 5

絶対値が

大きい数： - 6

② 4, -1

大きい数： 4

絶対値が

大きい数： 4

