



1. 次の数を正の符号、負の符号を使って表しなさい。

① 0より13小さい数

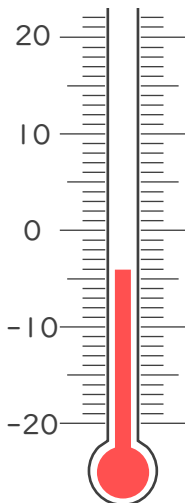
② 0より0.2小さい数

③ 0より2.4大きい数

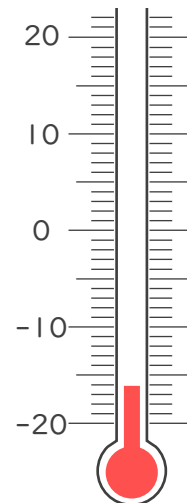
④ 0より $\frac{7}{9}$ 小さい数

2. 次の温度計が示す温度を書きなさい。

①



②







1. 次の数を正の符号、負の符号を使って表しなさい。

① 0より13小さい数

−13

② 0より0.2小さい数

−0.2

③ 0より2.4大きい数

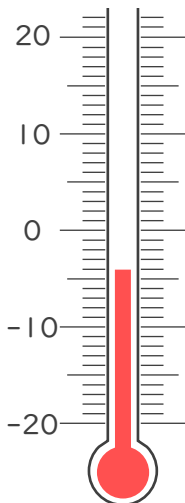
+2.4

④ 0より $\frac{7}{9}$ 小さい数

− $\frac{7}{9}$

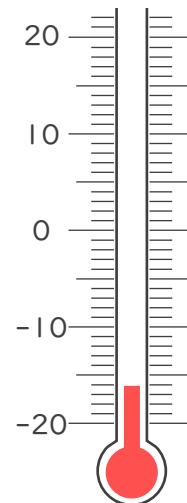
2. 次の温度計が示す温度を書きなさい。

①



−4°C

②



−16°C

