



1. 次の温度を－^{マイナス}を使って表しなさい。

① 0℃より1℃低い温度

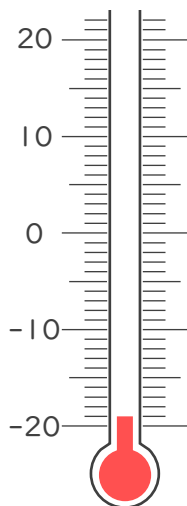
② 0℃より4.2℃低い温度

③ 0℃より2.7℃低い温度

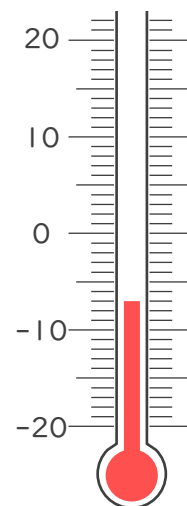
④ 0℃より12℃低い温度

2. 次の温度計が示す温度を書きなさい。

①



②







1. 次の温度を－^{マイナス}を使って表しなさい。

① 0℃より1℃低い温度

－1℃

② 0℃より4.2℃低い温度

－4.2℃

③ 0℃より2.7℃低い温度

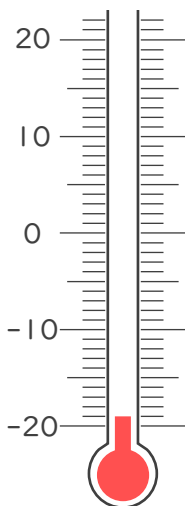
－2.7℃

④ 0℃より12℃低い温度

－12℃

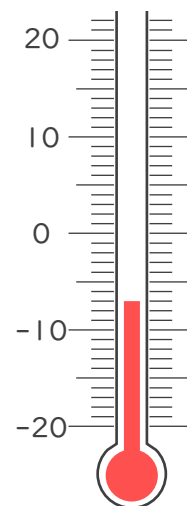
2. 次の温度計が示す温度を書きなさい。

①



－19℃

②



－7℃

