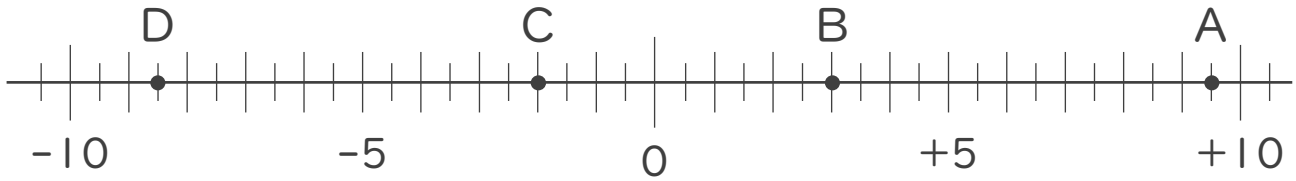




1. 次の数直線で、点A,B,C,Dに対応する数を答えなさい。



A :

B :

C :

D :

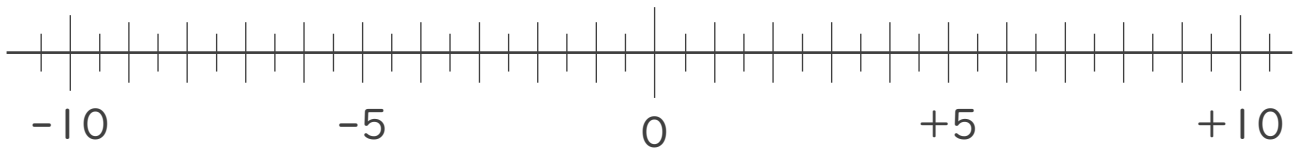
2. 次の数を数直線上に表しなさい。

① $+2.5$

② $+\frac{3}{2}$

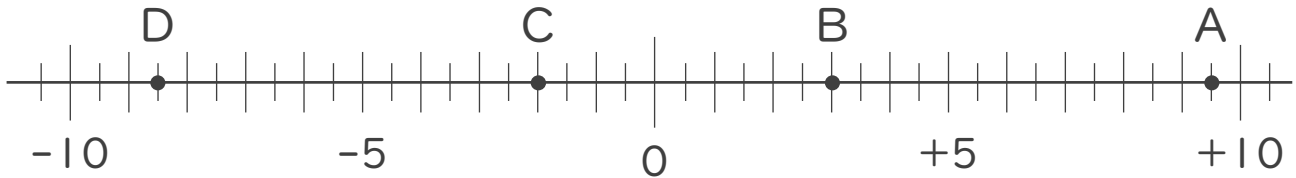
③ -3

④ $-\frac{1}{2}$





1. 次の数直線で、点A,B,C,Dに対応する数を答えなさい。



A: +9.5

B: +3

C: -2

D: -8.5

2. 次の数を数直線上に表しなさい。

① +2.5 ② $+\frac{3}{2}$ ③ -3 ④ $-\frac{1}{2}$

