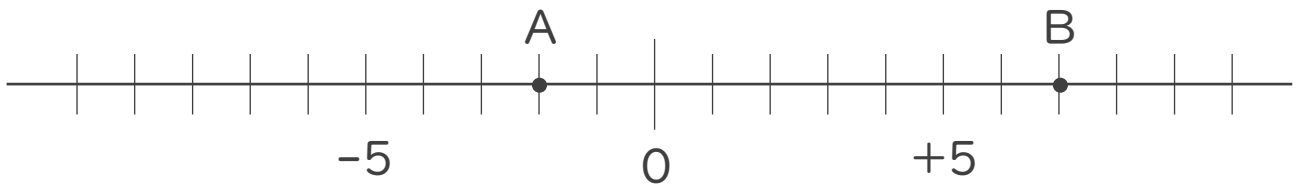




1. 次の数直線で、点A,Bに対応する数を答えなさい。

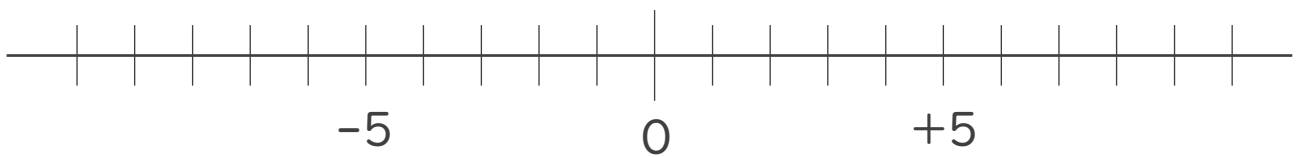


A :

B :

2. 次の数を数直線上に表しなさい。

① + 3 ② - 4



3. 次の数の中から整数をすべて選びなさい。

また自然数をすべて選びなさい。

+ 2 , - 2.5 , - 16 , + $\frac{2}{5}$, - 7 , 11 , + 0.3 , - $\frac{1}{4}$

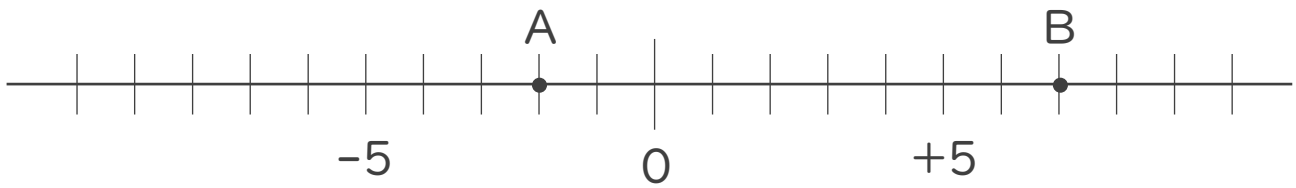
・ 整数 :

・ 自然数 :





1. 次の数直線で、点A,Bに対応する数を答えなさい。

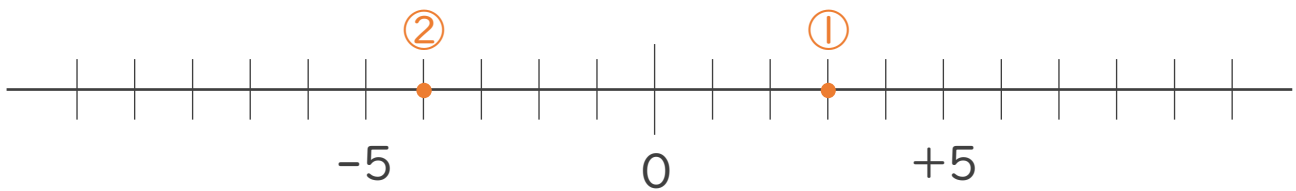


A: -2

B: $+7$

2. 次の数を数直線上に表しなさい。

① $+3$ ② -4



3. 次の数の中から整数をすべて選びなさい。

また自然数をすべて選びなさい。

$+2, -2.5, -16, +\frac{2}{5}, -7, 11, +0.3, -\frac{1}{4}$

・ 整数: $+2, -16, -7, 11$

・ 自然数: $+2, 11$

