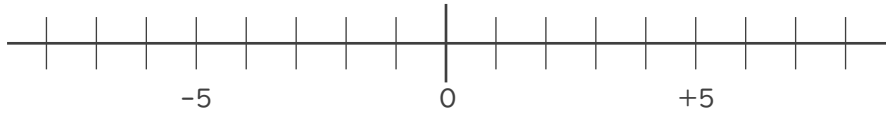


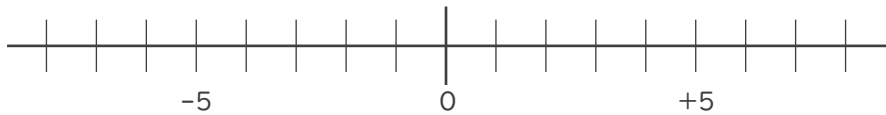


1. 数直線を使って次の数を求めなさい。

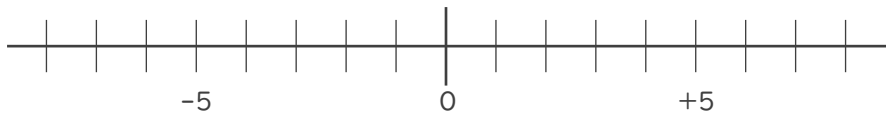
① -1 より -2 大きい数



② 5 より 7 小さい数



③ -2 より -8 小さい数



2. 次の2つの数のうち、大きい数はどちらですか。

また、絶対値が大きい数はどちらですか。

① -5 , -10

大きい数：

絶対値が

大きい数：

② -9 , 1

大きい数：

絶対値が

大きい数：





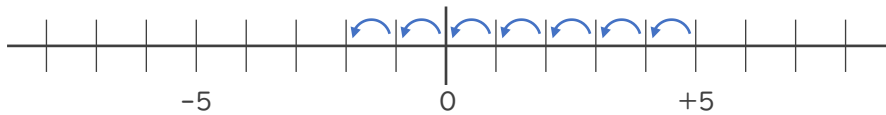
1. 数直線を使って次の数を求めなさい。

① -1 より -2 大きい数 -2 大きい数 \rightarrow 2 小さい数



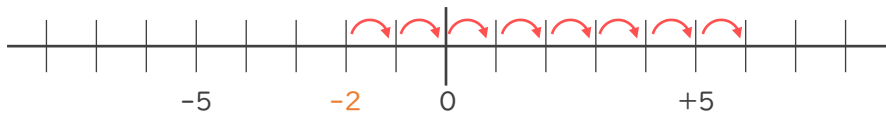
-3

② 5 より 7 小さい数



-2

③ -2 より -8 小さい数 -8 小さい数 \rightarrow 8 大きい数



$+6$

2. 次の2つの数のうち、大きい数はどちらですか。

また、絶対値が大きい数はどちらですか。

① -5 , -10

大きい数 : -5

絶対値が

大きい数 : -10

② -9 , 1

大きい数 : 1

絶対値が

大きい数 : -9

