



1. 次の数を正の符号、負の符号を使って表しなさい。

① 0より $\frac{2}{7}$ 大きい数

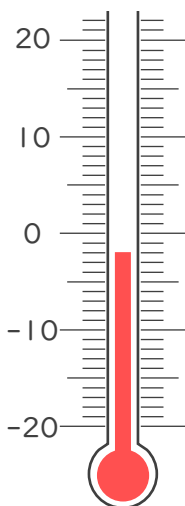
② 0より6小さい数

③ 0より2.8小さい数

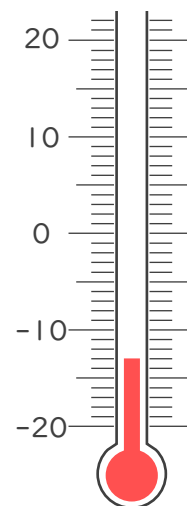
④ 0より18小さい数

2. 次の温度計が示す温度を書きなさい。

①



②







1. 次の数を正の符号、負の符号を使って表しなさい。

① 0より $\frac{2}{7}$ 大きい数

$+\frac{2}{7}$

② 0より6小さい数

-6

③ 0より2.8小さい数

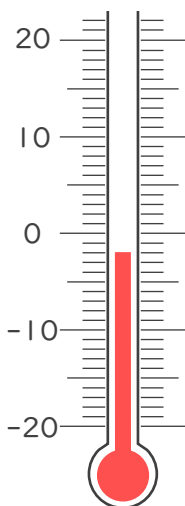
-2.8

④ 0より18小さい数

-18

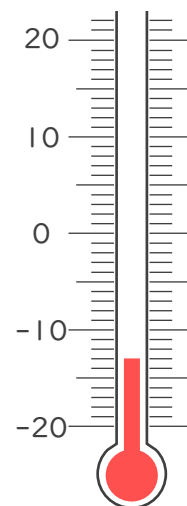
2. 次の温度計が示す温度を書きなさい。

①



-2°C

②



-13°C

