



マイナス

1. 次の温度を－を使って表しなさい。

① 0°C より 8°C 低い温度

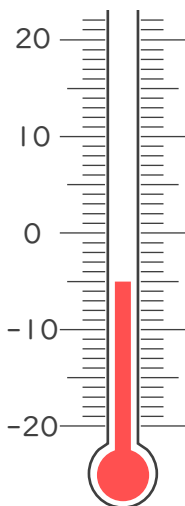
② 0°C より 6.1°C 低い温度

③ 0°C より 13°C 低い温度

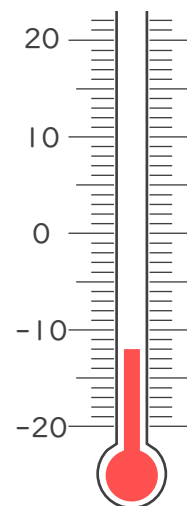
④ 0°C より 0.2°C 低い温度

2. 次の温度計が示す温度を書きなさい。

①



②







1. 次の温度を－^{マイナス}を使って表しなさい。

① 0℃より8℃低い温度

－8℃

② 0℃より6.1℃低い温度

－6.1℃

③ 0℃より13℃低い温度

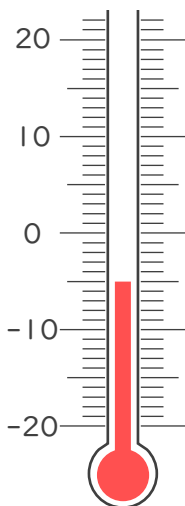
－13℃

④ 0℃より0.2℃低い温度

－0.2℃

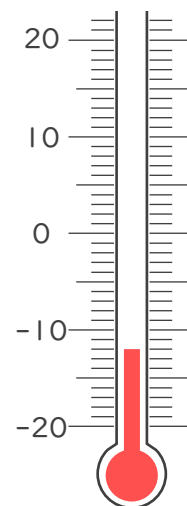
2. 次の温度計が示す温度を書きなさい。

①



－5℃

②



－12℃

