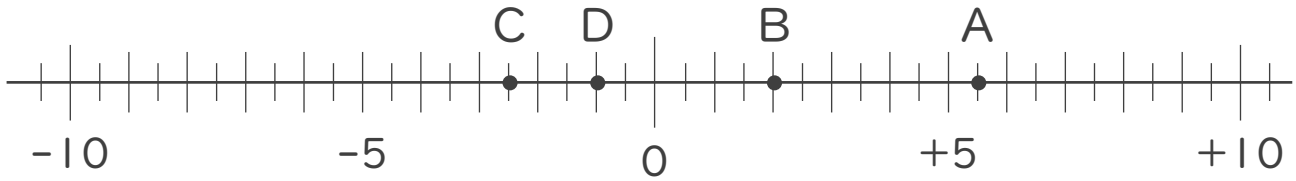




1. 次の数直線で、点A,B,C,Dに対応する数を答えなさい。



A :

B :

C :

D :

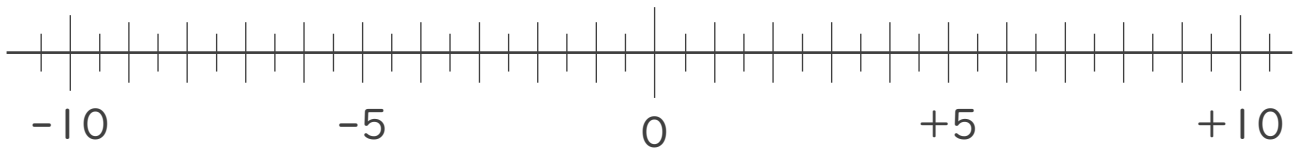
2. 次の数を数直線上に表しなさい。

① -6.5

② -4

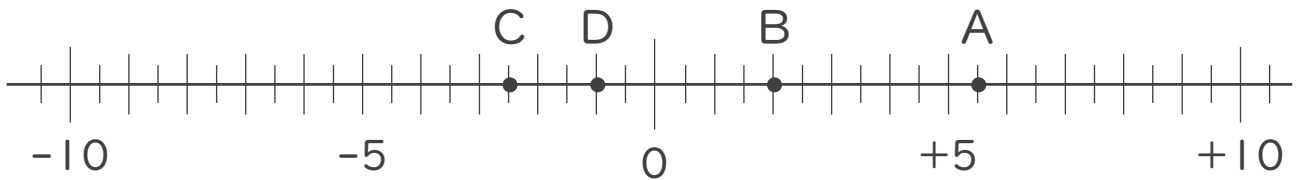
③ $+8.5$

④ $+\frac{7}{2}$





1. 次の数直線で、点A,B,C,Dに対応する数を答えなさい。



A: +5.5

B: +2

C: -2.5

D: -1

2. 次の数を数直線上に表しなさい。

- ① -6.5 ② -4 ③ +8.5 ④ $+\frac{7}{2}$

