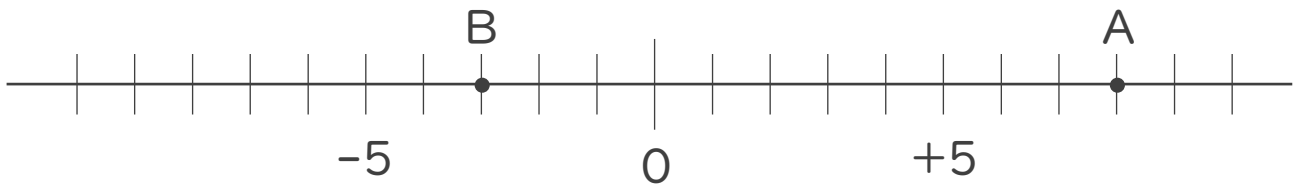




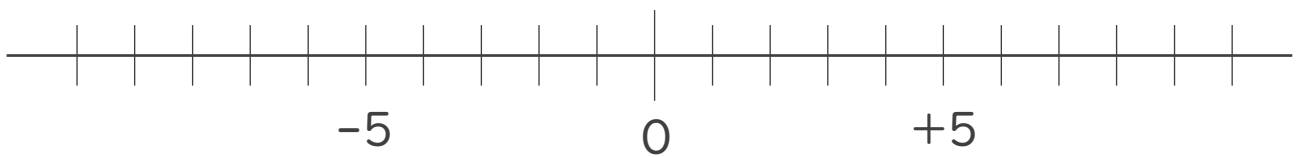
1. 次の数直線で、点A,Bに対応する数を答えなさい。



A :

B :

2. 次の数を数直線上に表しなさい。

① -9 ② $+6$ 

3. 次の数の中から整数をすべて選びなさい。

また自然数をすべて選びなさい。

-5 , $+1.8$, $\frac{1}{3}$, $+10$, 0 , 0.2 , -13 , 4

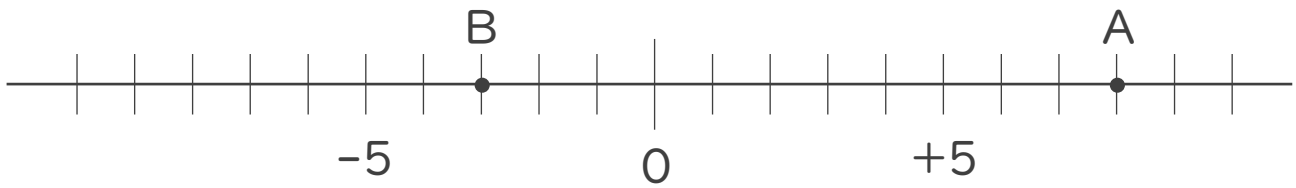
・ 整数 :

・ 自然数 :





1. 次の数直線で、点A,Bに対応する数を答えなさい。

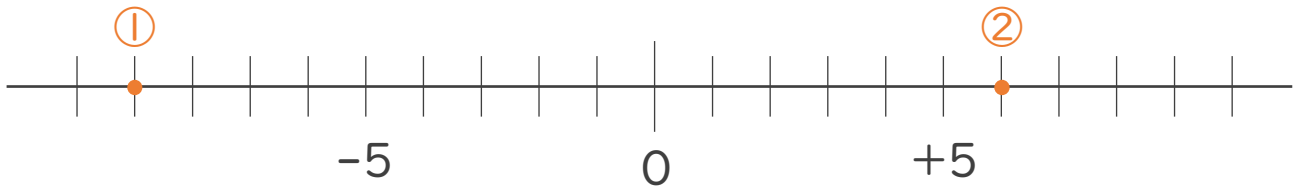


A: +8

B: -3

2. 次の数を数直線上に表しなさい。

① -9 ② +6



3. 次の数の中から整数をすべて選びなさい。

また自然数をすべて選びなさい。

-5, +1.8, $\frac{1}{3}$, +10, 0, 0.2, -13, 4

・ 整数: -5, +10, 0, -13, 4

・ 自然数: +10, 4

