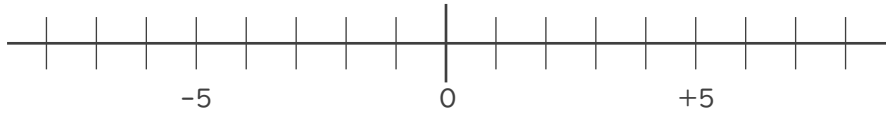


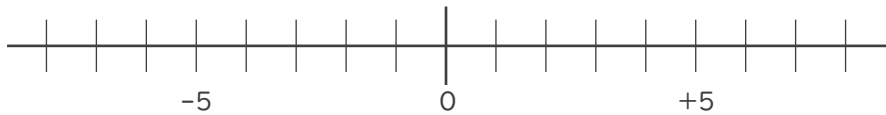


1. 数直線を使って次の数を求めなさい。

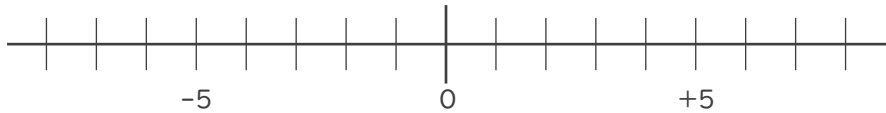
① 4 より -2 大きい数



② 2 より -3 小さい数



③ -8 より 4 大きい数



2. 次の2つの数のうち、大きい数はどちらですか。

また、絶対値が大きい数はどちらですか。

① -3 , $+5$

大きい数：

絶対値が

大きい数：

② 0 , -2

大きい数：

絶対値が

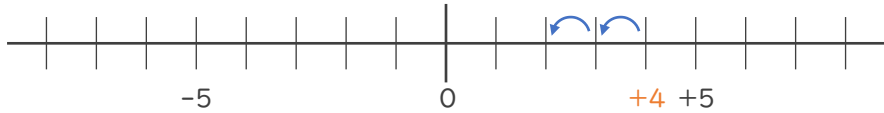
大きい数：





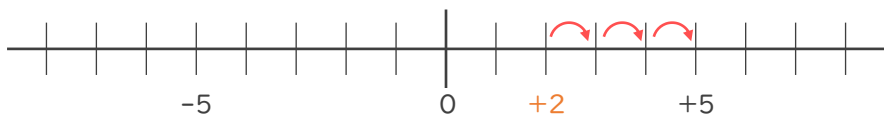
1. 数直線を使って次の数を求めなさい。

① 4 より - 2 大きい数 - 2 大きい数 → 2 小さい数



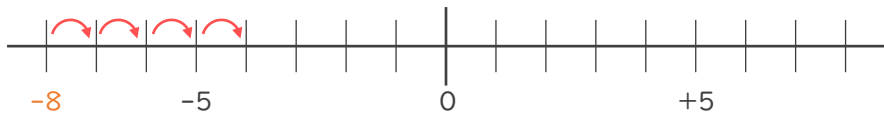
+ 2

② 2 より - 3 小さい数 - 3 小さい数 → 3 大きい数



+ 5

③ - 8 より 4 大きい数



- 4

2. 次の2つの数のうち、大きい数はどちらですか。

また、絶対値が大きい数はどちらですか。

① - 3 , + 5

大きい数 : + 5

絶対値が

大きい数 : + 5

② 0 , - 2

大きい数 : 0

絶対値が

大きい数 : - 2

