



1. 次の数を正の符号、負の符号を使って表しなさい。

① 0より1.9小さい数

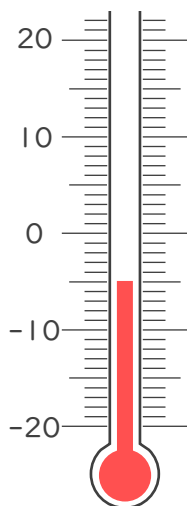
② 0より4大きい数

③ 0より0.7小さい数

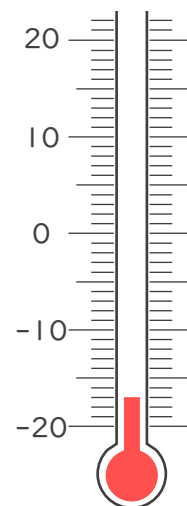
④ 0より $\frac{3}{10}$ 小さい数

2. 次の温度計が示す温度を書きなさい。

①



②







1. 次の数を正の符号、負の符号を使って表しなさい。

① 0より1.9小さい数

-1.9

② 0より4大きい数

$+4$

③ 0より0.7小さい数

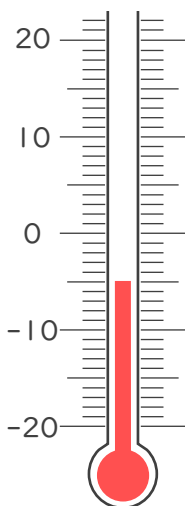
-0.7

④ 0より $\frac{3}{10}$ 小さい数

$-\frac{3}{10}$

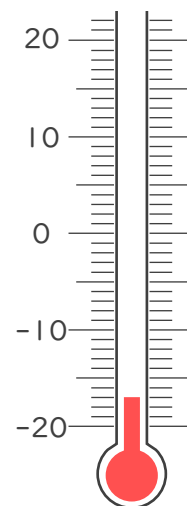
2. 次の温度計が示す温度を書きなさい。

①



-5°C

②



-17°C

