



1. 次の温度を－^{マイナス}を使って表しなさい。

① 0℃より14℃低い温度

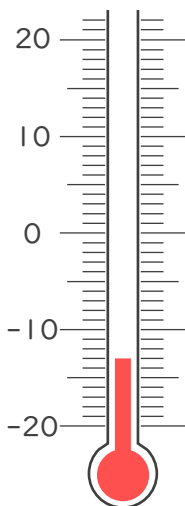
② 0℃より7.5℃低い温度

③ 0℃より0.8℃低い温度

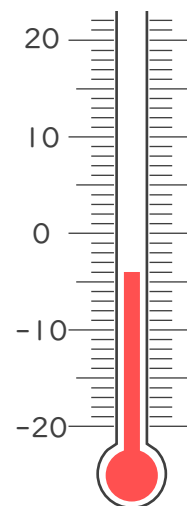
④ 0℃より5℃低い温度

2. 次の温度計が示す温度を書きなさい。

①



②







1. 次の温度を－^{マイナス}を使って表しなさい。

① 0℃より14℃低い温度

－14℃

② 0℃より7.5℃低い温度

－7.5℃

③ 0℃より0.8℃低い温度

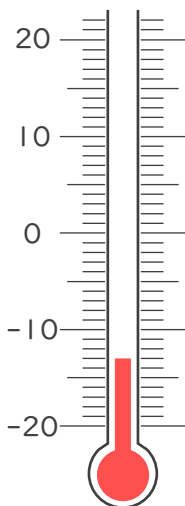
－0.8℃

④ 0℃より5℃低い温度

－5℃

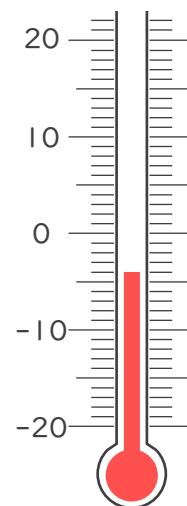
2. 次の温度計が示す温度を書きなさい。

①



－13℃

②



－4℃

