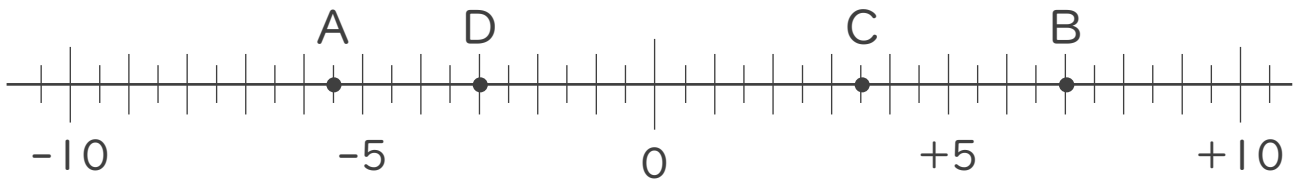




1. 次の数直線で、点A,B,C,Dに対応する数を答えなさい。



A :

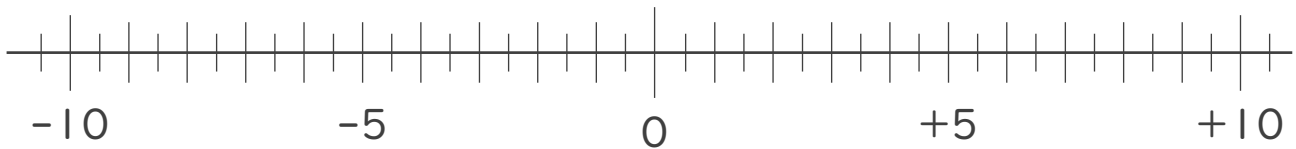
B :

C :

D :

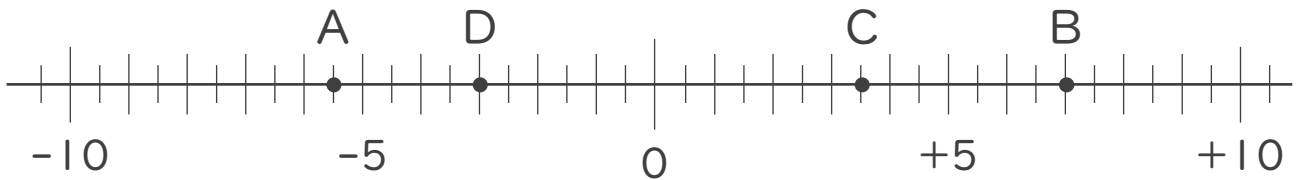
2. 次の数を数直線上に表しなさい。

① -7.5 ② $-\frac{5}{2}$ ③ $+2$ ④ $+\frac{11}{2}$





1. 次の数直線で、点A,B,C,Dに対応する数を答えなさい。

A: -5.5 B: $+7$ C: $+3.5$ D: -3

2. 次の数を数直線上に表しなさい。

① -7.5 ② $-\frac{5}{2}$ ③ $+2$ ④ $+\frac{11}{2}$

