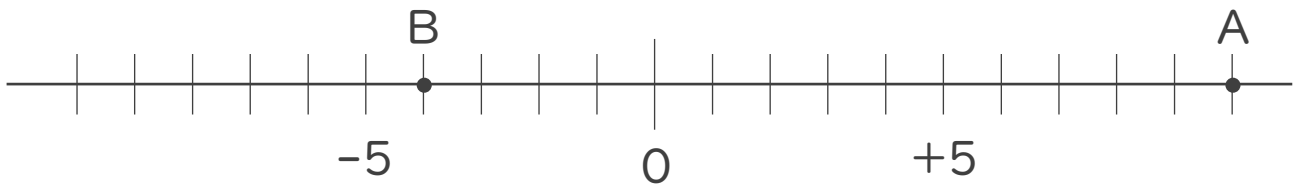




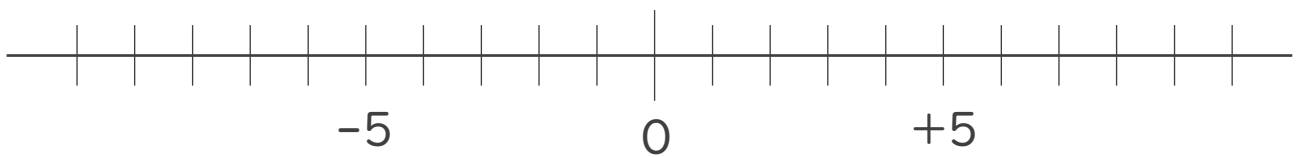
1. 次の数直線で、点A,Bに対応する数を答えなさい。



A :

B :

2. 次の数を数直線上に表しなさい。

①  $+7$       ②  $-6$ 

3. 次の数の中から整数をすべて選びなさい。

また自然数をすべて選びなさい。

$+3.1$  ,  $-1$  ,  $14$  ,  $-\frac{4}{5}$  ,  $-0.5$  ,  $-8$  ,  $+3$  ,  $0$

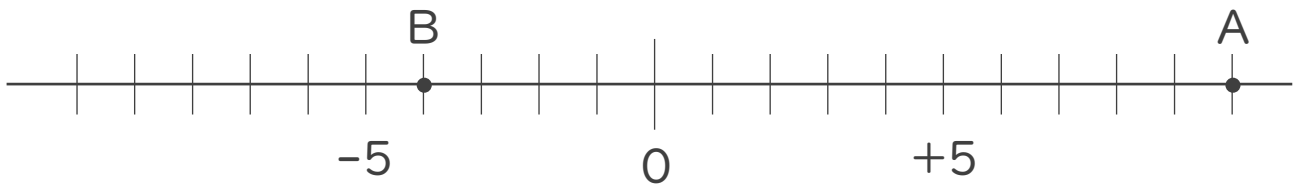
・ 整数 :

・ 自然数 :





1. 次の数直線で、点A,Bに対応する数を答えなさい。

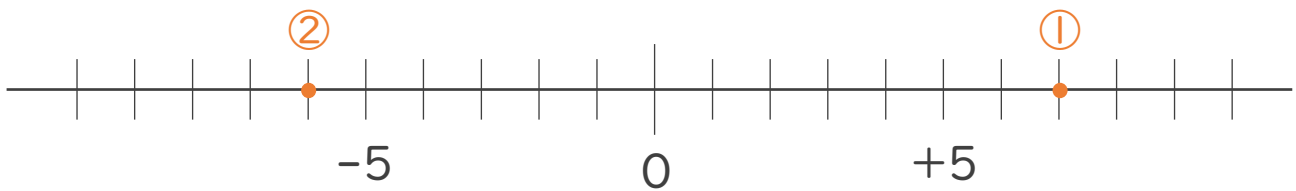


A: +10

B: -4

2. 次の数を数直線上に表しなさい。

① +7      ② -6



3. 次の数の中から整数をすべて選びなさい。

また自然数をすべて選びなさい。

+3.1, -1, 14,  $-\frac{4}{5}$ , -0.5, -8, +3, 0

・ 整数: -1, 14, -8, +3, 0

・ 自然数: 14, +3

