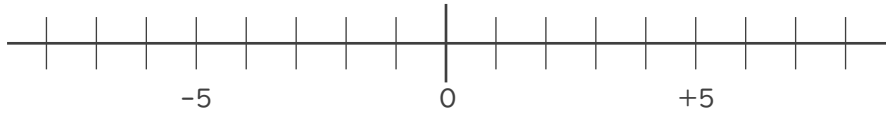


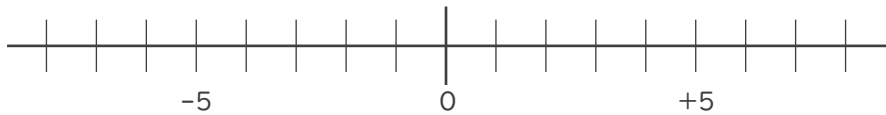


1. 数直線を使って次の数を求めなさい。

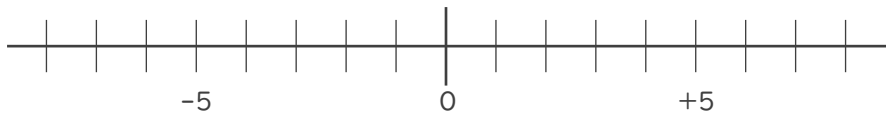
① -6 より -4 小さい数



② 1 より 5 小さい数



③ 7 より -7 大きい数



2. 次の2つの数のうち、大きい数はどちらですか。

また、絶対値が大きい数はどちらですか。

① -7 , 6

大きい数：

絶対値が

大きい数：

② -4 , -8

大きい数：

絶対値が

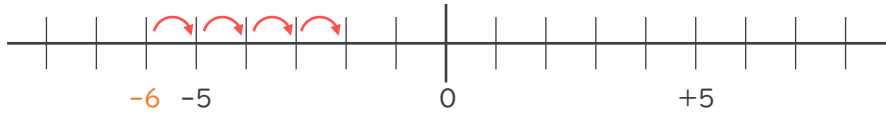
大きい数：





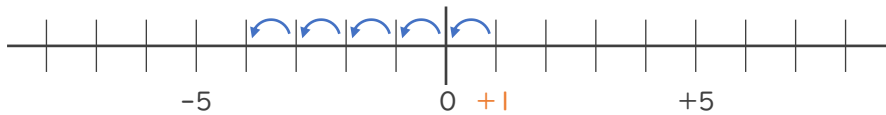
1. 数直線を使って次の数を求めなさい。

① -6 より -4 小さい数 -4 小さい数 \rightarrow 4 大きい数



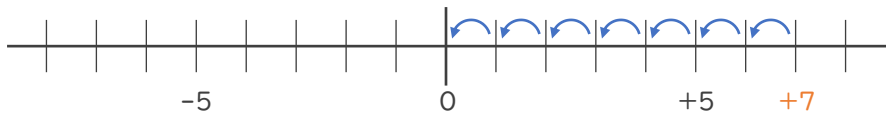
 -2

② 1 より 5 小さい数



 -4

③ 7 より -7 大きい数 -7 大きい数 \rightarrow 7 小さい数



 0

2. 次の2つの数のうち、大きい数はどちらですか。

また、絶対値が大きい数はどちらですか。

① -7 , 6

大きい数 : 6

絶対値が

大きい数 : -7

② -4 , -8

大きい数 : -4

絶対値が

大きい数 : -8

